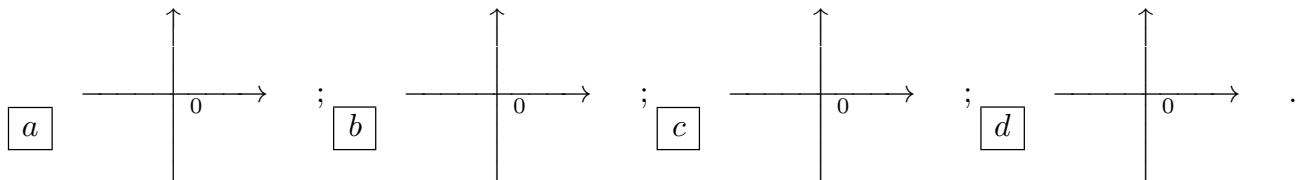


ANALISI MATEMATICA 1 - Secondo appello		14 febbraio 2019			
Cognome:	Nome:	Matricola:			
Corso di laurea:					
		Test	Es1	Es2	Es3

- Una ed una sola delle quattro affermazioni è corretta. Indicarla con una croce.
- Per annullare una risposta ritenuta errata racchiuderla in un cerchio.
- Risposta corretta: +1.5. Risposta errata: -0.25.

1. $\lim_{x \rightarrow +\infty} \frac{e^{2x} - 3^x - x}{x^2 + 3^{x+1}} =$ a $\frac{1}{2}$; b 0; c $+\infty$; d $\frac{1}{3}$.

2. Quale delle seguenti figure rappresenta il grafico qualitativo per x vicino a 0 della soluzione del problema di Cauchy $\begin{cases} y' = xy - \frac{x}{2y} \\ y(0) = 1 \end{cases}$?



3. L'equazione della retta tangente al grafico della funzione $f(x) = \frac{x^2-2}{x^2+3}$ nel punto $(1, f(1))$ è: a $y = \frac{10}{9}x - \frac{16}{9}$; b $y = -\frac{1}{2}x + 1$; c $y = \frac{5}{8}x - \frac{7}{8}$; d $y = -\frac{2}{9}x + \frac{14}{9}$.

4. Le soluzioni $z \in \mathbf{C}$ dell'equazione $\bar{z}^2 + 2z^2 = 1+i$ sono: a $z = \pm \left(\frac{1}{\sqrt{2}(\sqrt{5}-1)^{1/2}} + i \frac{(\sqrt{5}-1)^{1/2}}{2\sqrt{2}} \right)$; b $z = \pm \left(\frac{1}{\sqrt{2}(\sqrt{5}-1)^{1/2}} - i \frac{(\sqrt{5}-1)^{1/2}}{2\sqrt{2}} \right)$; c $z = \pm \left(\frac{\sqrt{6}}{2(\sqrt{10}-1)^{1/2}} + i \frac{(\sqrt{10}-1)^{1/2}}{\sqrt{6}} \right)$; d $z = \pm \left(\frac{\sqrt{6}}{2(\sqrt{10}-1)^{1/2}} - i \frac{(\sqrt{10}-1)^{1/2}}{\sqrt{6}} \right)$.

5. Qual è l'insieme dei valori $\alpha \in \mathbf{R}$ per cui la serie $\sum_{n=1}^{\infty} \frac{n+n^\alpha}{n^3+n^\alpha}$ è convergente?

a $\alpha < 3$; b $\alpha < 5$; c $\alpha < 2$; d $\alpha < 4$.

6. Il massimo assoluto e il minimo assoluto della funzione $f(x) = 1 + 6x^2 - 3x^4 + 2x^6$ in $[-1, 1]$ sono: a $\max f = 11, \min f = 1$; b $\max f = 1, \min f = -9$; c $\max f = 6, \min f = 1$; d $\max f = 1, \min f = -4$.

7. Siano $g : \mathbf{R} \rightarrow \mathbf{R}$ una funzione derivabile due volte, con g'' continua e tale che $g''(x) \neq 0$ per ogni $x \in \mathbf{R}$. Sia $y = mx + q$ l'equazione della retta tangente al grafico di g nel punto $(x_0, g(x_0))$. Qual è l'insieme dei valori $\alpha > 0, \beta > 0$ per cui $\lim_{x \rightarrow x_0} \frac{|g(x) - mx - q|^{\alpha/3}}{|x - x_0|^{\beta/2}} = 0$?

a $\alpha > \frac{\beta}{3}$; b $\alpha > \frac{\beta}{4}$; c $\alpha > \frac{3\beta}{4}$; d $\alpha > \beta$.

8. Sia $q : \mathbf{R} \rightarrow \mathbf{R}$ una funzione continua e tale che $q(0) = 1, q(1) = 1$. Per quale delle seguenti funzioni $p(x)$ l'equazione $q(x) - p(x) = 0$ ha soluzione nell'intervallo $[0, 1]$, per qualunque funzione q con le proprietà indicate? a $p(x) = -\frac{1}{2} - x^2$; b $p(x) = \frac{1}{2} - x^2$; c $p(x) = x^2 + \frac{1}{2}$; d $p(x) = x^2 - \frac{1}{2}$.

ANALISI MATEMATICA 1 - Secondo appello		14 febbraio 2019	
Cognome:	Nome:	Matricola:	
Corso di laurea:			
		Test	
		Es1	
		Es2	
		Es3	

- Una ed una sola delle quattro affermazioni è corretta. Indicarla con una croce.
- Per annullare una risposta ritenuta errata racchiuderla in un cerchio.
- Risposta corretta: +1.5. Risposta errata: -0.25.

1. Il massimo assoluto e il minimo assoluto della funzione $f(x) = 1 - 6x^2 + 3x^4 - 2x^6$ in $[-1, 1]$ sono:
 a $\max f = 1, \min f = -9$; b $\max f = 6, \min f = 1$; c $\max f = 1, \min f = -4$;
 d $\max f = 11, \min f = 1$.

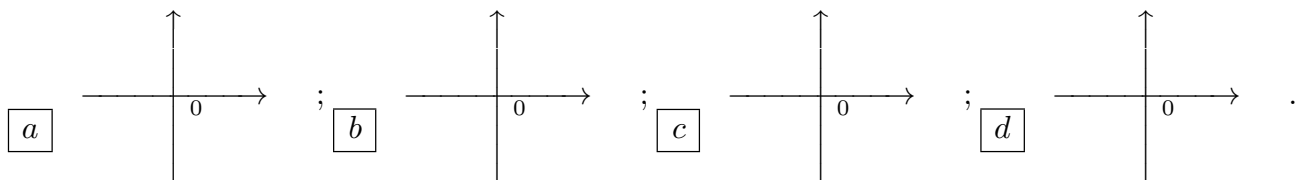
2. L'equazione della retta tangente al grafico della funzione $f(x) = \frac{x^2-3}{x^2+2}$ nel punto $(1, f(1))$ è:
 a $y = -\frac{1}{2}x + 1$; b $y = \frac{5}{8}x - \frac{7}{8}$; c $y = -\frac{2}{9}x + \frac{14}{9}$; d $y = \frac{10}{9}x - \frac{16}{9}$.

3. Le soluzioni $z \in \mathbf{C}$ dell'equazione $2\bar{z}^2 + z^2 = 1 + i$ sono: a $z = \pm \left(\frac{1}{\sqrt{2}(\sqrt{5}-1)^{1/2}} - i \frac{(\sqrt{5}-1)^{1/2}}{2\sqrt{2}} \right)$;
 b $z = \pm \left(\frac{\sqrt{6}}{2(\sqrt{10}-1)^{1/2}} + i \frac{(\sqrt{10}-1)^{1/2}}{\sqrt{6}} \right)$; c $z = \pm \left(\frac{\sqrt{6}}{2(\sqrt{10}-1)^{1/2}} - i \frac{(\sqrt{10}-1)^{1/2}}{\sqrt{6}} \right)$; d $z = \pm \left(\frac{1}{\sqrt{2}(\sqrt{5}-1)^{1/2}} + i \frac{(\sqrt{5}-1)^{1/2}}{2\sqrt{2}} \right)$.

4. Siano $g : \mathbf{R} \rightarrow \mathbf{R}$ una funzione derivabile due volte, con g'' continua e tale che $g''(x) \neq 0$ per ogni $x \in \mathbf{R}$. Sia $y = mx + q$ l'equazione della retta tangente al grafico di g nel punto $(x_0, g(x_0))$. Qual è l'insieme dei valori $\alpha > 0, \beta > 0$ per cui $\lim_{x \rightarrow x_0} \frac{|g(x) - mx - q|^{\alpha/4}}{|x - x_0|^{\beta/2}} = 0$?
 a $\alpha > \frac{\beta}{4}$; b $\alpha > \frac{3\beta}{4}$; c $\alpha > \beta$; d $\alpha > \frac{\beta}{3}$.

5. $\lim_{x \rightarrow +\infty} \frac{e^{x+1} - x^2}{2^{2x} + e^x - 1} =$ a 0; b $+\infty$; c $\frac{1}{3}$; d $\frac{1}{2}$.

6. Quale delle seguenti figure rappresenta il grafico qualitativo per x vicino a 0 della soluzione del problema di Cauchy $\begin{cases} y' = xy - \frac{2x}{y} \\ y(0) = 1 \end{cases}$?



7. Sia $q : \mathbf{R} \rightarrow \mathbf{R}$ una funzione continua e tale che $q(0) = 0, q(1) = 1$. Per quale delle seguenti funzioni $p(x)$ l'equazione $q(x) - p(x) = 0$ ha soluzione nell'intervallo $[0, 1]$, per qualunque funzione q con le proprietà indicate? a $p(x) = \frac{1}{2} - x^2$; b $p(x) = x^2 + \frac{1}{2}$; c $p(x) = x^2 - \frac{1}{2}$; d $p(x) = -\frac{1}{2} - x^2$.

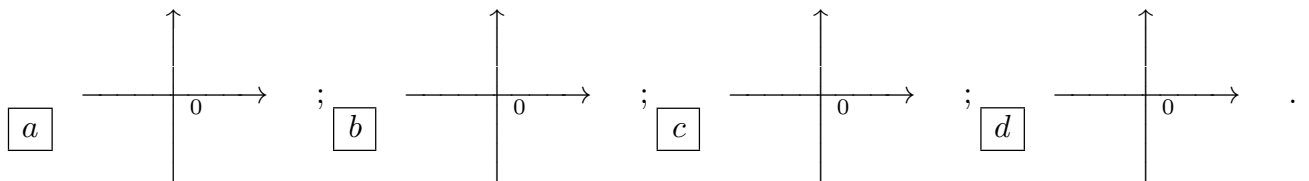
8. Qual è l'insieme dei valori $\alpha \in \mathbf{R}$ per cui la serie $\sum_{n=1}^{\infty} \frac{n^2 + n^\alpha}{n^4 + n^\alpha}$ è convergente?

a $\alpha < 5$; b $\alpha < 2$; c $\alpha < 4$; d $\alpha < 3$.

ANALISI MATEMATICA 1 - Secondo appello		14 febbraio 2019	
Cognome:	Nome:	Matricola:	
Corso di laurea:			
		Test	
		Es1	
		Es2	
		Es3	

- Una ed una sola delle quattro affermazioni è corretta. Indicarla con una croce.
- Per annullare una risposta ritenuta errata racchiuderla in un cerchio.
- Risposta corretta: +1.5. Risposta errata: -0.25.

1. Quale delle seguenti figure rappresenta il grafico qualitativo per x vicino a 0 della soluzione del problema di Cauchy $\begin{cases} y' = 2xy - \frac{x}{y} \\ y(0) = 1 \end{cases}$?



2. Le soluzioni $z \in \mathbf{C}$ dell'equazione $\bar{z}^2 + 3z^2 = 1 + i$ sono: a $z = \pm \left(\frac{\sqrt{6}}{2(\sqrt{10}-1)^{1/2}} + i \frac{(\sqrt{10}-1)^{1/2}}{\sqrt{6}} \right)$;
 b $z = \pm \left(\frac{\sqrt{6}}{2(\sqrt{10}-1)^{1/2}} - i \frac{(\sqrt{10}-1)^{1/2}}{\sqrt{6}} \right)$; c $z = \pm \left(\frac{1}{\sqrt{2}(\sqrt{5}-1)^{1/2}} + i \frac{(\sqrt{5}-1)^{1/2}}{2\sqrt{2}} \right)$; d $z = \pm \left(\frac{1}{\sqrt{2}(\sqrt{5}-1)^{1/2}} - i \frac{(\sqrt{5}-1)^{1/2}}{2\sqrt{2}} \right)$.

3. Siano $g : \mathbf{R} \rightarrow \mathbf{R}$ una funzione derivabile due volte, con g'' continua e tale che $g''(x) \neq 0$ per ogni $x \in \mathbf{R}$. Sia $y = mx + q$ l'equazione della retta tangente al grafico di g nel punto $(x_0, g(x_0))$. Qual è l'insieme dei valori $\alpha > 0$, $\beta > 0$ per cui $\lim_{x \rightarrow x_0} \frac{|g(x) - mx - q|^{\alpha/2}}{|x - x_0|^{\beta/3}} = 0$?
 a $\alpha > \frac{3\beta}{4}$; b $\alpha > \beta$; c $\alpha > \frac{\beta}{3}$; d $\alpha > \frac{\beta}{4}$.

4. Sia $q : \mathbf{R} \rightarrow \mathbf{R}$ una funzione continua e tale che $q(0) = 0$, $q(1) = -1$. Per quale delle seguenti funzioni $p(x)$ l'equazione $q(x) - p(x) = 0$ ha soluzione nell'intervallo $[0, 1]$, per qualunque funzione q con le proprietà indicate? a $p(x) = x^2 + \frac{1}{2}$; b $p(x) = x^2 - \frac{1}{2}$; c $p(x) = -\frac{1}{2} - x^2$; d $p(x) = \frac{1}{2} - x^2$.

5. Il massimo assoluto e il minimo assoluto della funzione $f(x) = 1 + 12x^2 - 6x^4 + 4x^6$ in $[-1, 1]$ sono: a $\max f = 6$, $\min f = 1$; b $\max f = 1$, $\min f = -4$; c $\max f = 11$, $\min f = 1$; d $\max f = 1$, $\min f = -9$.

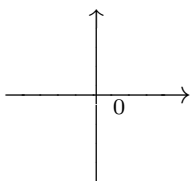
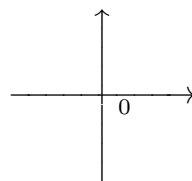
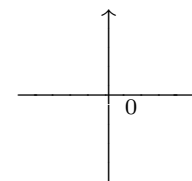
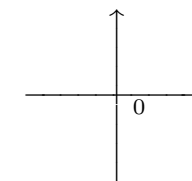
6. L'equazione della retta tangente al grafico della funzione $f(x) = \frac{x^2+3}{x^2+2}$ nel punto $(1, f(1))$ è: a $y = \frac{5}{8}x - \frac{7}{8}$; b $y = -\frac{2}{9}x + \frac{14}{9}$; c $y = \frac{10}{9}x - \frac{16}{9}$; d $y = -\frac{1}{2}x + 1$.

7. Qual è l'insieme dei valori $\alpha \in \mathbf{R}$ per cui la serie $\sum_{n=1}^{\infty} \frac{n^3 + n^\alpha}{n^5 + n^\alpha}$ è convergente?
 a $\alpha < 2$; b $\alpha < 4$; c $\alpha < 3$; d $\alpha < 5$.

8. $\lim_{x \rightarrow +\infty} \frac{x^2 + e^{1-x} + x}{2^{1-x} - x^3} =$ a $+\infty$; b $\frac{1}{3}$; c $\frac{1}{2}$; d 0 .

ANALISI MATEMATICA 1 - Secondo appello		14 febbraio 2019
Cognome:	Nome:	Matricola:
Corso di laurea:		Test Es1 Es2 Es3

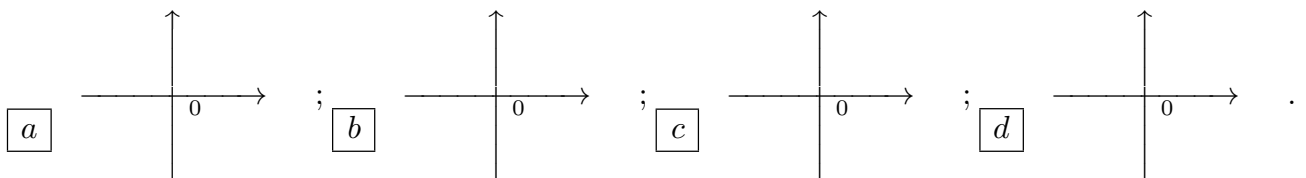
- Una ed una sola delle quattro affermazioni è corretta. Indicarla con una croce.
- Per annullare una risposta ritenuta errata racchiuderla in un cerchio.
- Risposta corretta: +1.5. Risposta errata: -0.25.

- L'equazione della retta tangente al grafico della funzione $f(x) = \frac{x^2-2}{x^2-3}$ nel punto $(1, f(1))$ è:
 a $y = -\frac{2}{9}x + \frac{14}{9}$; b $y = \frac{10}{9}x - \frac{16}{9}$; c $y = -\frac{1}{2}x + 1$; d $y = \frac{5}{8}x - \frac{7}{8}$.
- Siano $g : \mathbf{R} \rightarrow \mathbf{R}$ una funzione derivabile due volte, con g'' continua e tale che $g''(x) \neq 0$ per ogni $x \in \mathbf{R}$. Sia $y = mx + q$ l'equazione della retta tangente al grafico di g nel punto $(x_0, g(x_0))$. Qual è l'insieme dei valori $\alpha > 0, \beta > 0$ per cui $\lim_{x \rightarrow x_0} \frac{|g(x) - mx - q|^{\alpha/2}}{|x - x_0|^{\beta/4}} = 0$?
 a $\alpha > \beta$; b $\alpha > \frac{\beta}{3}$; c $\alpha > \frac{\beta}{4}$; d $\alpha > \frac{3\beta}{4}$.
- Sia $q : \mathbf{R} \rightarrow \mathbf{R}$ una funzione continua e tale che $q(0) = -1, q(1) = -1$. Per quale delle seguenti funzioni $p(x)$ l'equazione $q(x) - p(x) = 0$ ha soluzione nell'intervallo $[0, 1]$, per qualunque funzione q con le proprietà indicate? a $p(x) = x^2 - \frac{1}{2}$; b $p(x) = -\frac{1}{2} - x^2$; c $p(x) = \frac{1}{2} - x^2$; d $p(x) = x^2 + \frac{1}{2}$.
- Qual è l'insieme dei valori $\alpha \in \mathbf{R}$ per cui la serie $\sum_{n=1}^{\infty} \frac{n^4 + n^\alpha}{n^6 + n^\alpha}$ è convergente?
 a $\alpha < 4$; b $\alpha < 3$; c $\alpha < 5$; d $\alpha < 2$.
- Quale delle seguenti figure rappresenta il grafico qualitativo per x vicino a 0 della soluzione del problema di Cauchy $\begin{cases} y' = \frac{xy}{2} - \frac{x}{y} \\ y(0) = 1 \end{cases}$?
 a ; b ; c ; d .
- Le soluzioni $z \in \mathbf{C}$ dell'equazione $3\bar{z}^2 + z^2 = 1 + i$ sono: a $z = \pm \left(\frac{\sqrt{6}}{2(\sqrt{10}-1)^{1/2}} - i \frac{(\sqrt{10}-1)^{1/2}}{\sqrt{6}} \right)$;
 b $z = \pm \left(\frac{1}{\sqrt{2}(\sqrt{5}-1)^{1/2}} + i \frac{(\sqrt{5}-1)^{1/2}}{2\sqrt{2}} \right)$; c $z = \pm \left(\frac{1}{\sqrt{2}(\sqrt{5}-1)^{1/2}} - i \frac{(\sqrt{5}-1)^{1/2}}{2\sqrt{2}} \right)$; d $z = \pm \left(\frac{\sqrt{6}}{2(\sqrt{10}-1)^{1/2}} + i \frac{(\sqrt{10}-1)^{1/2}}{\sqrt{6}} \right)$.
- $\lim_{x \rightarrow +\infty} \frac{e^{1-x} + x^3}{3^{1-x} - x + x^2} =$ a $\frac{1}{3}$; b $\frac{1}{2}$; c 0; d $+\infty$.
- Il massimo assoluto e il minimo assoluto della funzione $f(x) = 1 - 12x^2 + 6x^4 - 4x^6$ in $[-1, 1]$ sono: a $\max f = 1, \min f = -4$; b $\max f = 11, \min f = 1$; c $\max f = 1, \min f = -9$; d $\max f = 6, \min f = 1$.

ANALISI MATEMATICA 1 - Secondo appello		14 febbraio 2019	
Cognome:	Nome:	Matricola:	
Corso di laurea:			
		Test	Es1 Es2 Es3

- Una ed una sola delle quattro affermazioni è corretta. Indicarla con una croce.
- Per annullare una risposta ritenuta errata racchiuderla in un cerchio.
- Risposta corretta: +1.5. Risposta errata: -0.25.

1. Le soluzioni $z \in \mathbf{C}$ dell'equazione $3\bar{z}^2 + z^2 = 1 + i$ sono: a $z = \pm \left(\frac{1}{\sqrt{2}(\sqrt{5}-1)^{1/2}} + i \frac{(\sqrt{5}-1)^{1/2}}{2\sqrt{2}} \right)$;
 b $z = \pm \left(\frac{1}{\sqrt{2}(\sqrt{5}-1)^{1/2}} - i \frac{(\sqrt{5}-1)^{1/2}}{2\sqrt{2}} \right)$; c $z = \pm \left(\frac{\sqrt{6}}{2(\sqrt{10}-1)^{1/2}} + i \frac{(\sqrt{10}-1)^{1/2}}{\sqrt{6}} \right)$; d $z = \pm \left(\frac{\sqrt{6}}{2(\sqrt{10}-1)^{1/2}} - i \frac{(\sqrt{10}-1)^{1/2}}{\sqrt{6}} \right)$.
2. Sia $q : \mathbf{R} \rightarrow \mathbf{R}$ una funzione continua e tale che $q(0) = 1$, $q(1) = 1$. Per quale delle seguenti funzioni $p(x)$ l'equazione $q(x) - p(x) = 0$ ha soluzione nell'intervallo $[0, 1]$, per qualunque funzione q con le proprietà indicate? a $p(x) = -\frac{1}{2} - x^2$; b $p(x) = \frac{1}{2} - x^2$; c $p(x) = x^2 + \frac{1}{2}$; d $p(x) = x^2 - \frac{1}{2}$.
3. Qual è l'insieme dei valori $\alpha \in \mathbf{R}$ per cui la serie $\sum_{n=1}^{\infty} \frac{n + n^\alpha}{n^3 + n^\alpha}$ è convergente?
 a $\alpha < 3$; b $\alpha < 5$; c $\alpha < 2$; d $\alpha < 4$.
4. $\lim_{x \rightarrow +\infty} \frac{e^{2x} - 3^x - x}{x^2 + 3^{x+1}} =$ a $\frac{1}{2}$; b 0 ; c $+\infty$; d $\frac{1}{3}$.
5. L'equazione della retta tangente al grafico della funzione $f(x) = \frac{x^2-3}{x^2+2}$ nel punto $(1, f(1))$ è:
 a $y = \frac{10}{9}x - \frac{16}{9}$; b $y = -\frac{1}{2}x + 1$; c $y = \frac{5}{8}x - \frac{7}{8}$; d $y = -\frac{2}{9}x + \frac{14}{9}$.
6. Siano $g : \mathbf{R} \rightarrow \mathbf{R}$ una funzione derivabile due volte, con g'' continua e tale che $g''(x) \neq 0$ per ogni $x \in \mathbf{R}$. Sia $y = mx + q$ l'equazione della retta tangente al grafico di g nel punto $(x_0, g(x_0))$. Qual è l'insieme dei valori $\alpha > 0$, $\beta > 0$ per cui $\lim_{x \rightarrow x_0} \frac{|g(x) - mx - q|^{\alpha/3}}{|x - x_0|^{\beta/2}} = 0$?
 a $\alpha > \frac{\beta}{3}$; b $\alpha > \frac{\beta}{4}$; c $\alpha > \frac{3\beta}{4}$; d $\alpha > \beta$.
7. Il massimo assoluto e il minimo assoluto della funzione $f(x) = 1 - 6x^2 + 3x^4 - 2x^6$ in $[-1, 1]$ sono: a $\max f = 11$, $\min f = 1$; b $\max f = 1$, $\min f = -9$; c $\max f = 6$, $\min f = 1$; d $\max f = 1$, $\min f = -4$.
8. Quale delle seguenti figure rappresenta il grafico qualitativo per x vicino a 0 della soluzione del problema di Cauchy $\begin{cases} y' = xy - \frac{x}{2y} \\ y(0) = 1 \end{cases}$?



ANALISI MATEMATICA 1 - Secondo appello		14 febbraio 2019	
Cognome:	Nome:	Matricola:	
Corso di laurea:			
		Test	Es1 Es2 Es3

- Una ed una sola delle quattro affermazioni è corretta. Indicarla con una croce.
- Per annullare una risposta ritenuta errata racchiuderla in un cerchio.
- Risposta corretta: +1.5. Risposta errata: -0.25.

1. Siano $g : \mathbf{R} \rightarrow \mathbf{R}$ una funzione derivabile due volte, con g'' continua e tale che $g''(x) \neq 0$ per ogni $x \in \mathbf{R}$. Sia $y = mx + q$ l'equazione della retta tangente al grafico di g nel punto $(x_0, g(x_0))$. Qual è l'insieme dei valori $\alpha > 0$, $\beta > 0$ per cui $\lim_{x \rightarrow x_0} \frac{|g(x) - mx - q|^{\alpha/4}}{|x - x_0|^{\beta/2}} = 0$?

a $\alpha > \frac{\beta}{4}$; b $\alpha > \frac{3\beta}{4}$; c $\alpha > \beta$; d $\alpha > \frac{\beta}{3}$.

2. Qual è l'insieme dei valori $\alpha \in \mathbf{R}$ per cui la serie $\sum_{n=1}^{\infty} \frac{n^4 + n^\alpha}{n^6 + n^\alpha}$ è convergente?

a $\alpha < 5$; b $\alpha < 2$; c $\alpha < 4$; d $\alpha < 3$.

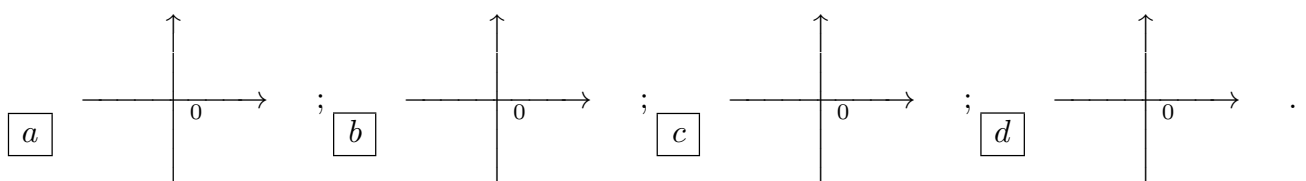
3. $\lim_{x \rightarrow +\infty} \frac{x^2 + e^{1-x} + x}{2^{1-x} - x^3} =$ a 0; b $+\infty$; c $\frac{1}{3}$; d $\frac{1}{2}$.

4. Il massimo assoluto e il minimo assoluto della funzione $f(x) = 1 + 6x^2 - 3x^4 + 2x^6$ in $[-1, 1]$ sono:
 a $\max f = 1$, $\min f = -9$; b $\max f = 6$, $\min f = 1$; c $\max f = 1$, $\min f = -4$;
 d $\max f = 11$, $\min f = 1$.

5. Le soluzioni $z \in \mathbf{C}$ dell'equazione $\bar{z}^2 + 3z^2 = 1 + i$ sono: a $z = \pm \left(\frac{1}{\sqrt{2}(\sqrt{5}-1)^{1/2}} - i \frac{(\sqrt{5}-1)^{1/2}}{2\sqrt{2}} \right)$;
 b $z = \pm \left(\frac{\sqrt{6}}{2(\sqrt{10}-1)^{1/2}} + i \frac{(\sqrt{10}-1)^{1/2}}{\sqrt{6}} \right)$; c $z = \pm \left(\frac{\sqrt{6}}{2(\sqrt{10}-1)^{1/2}} - i \frac{(\sqrt{10}-1)^{1/2}}{\sqrt{6}} \right)$; d $z = \pm \left(\frac{1}{\sqrt{2}(\sqrt{5}-1)^{1/2}} + i \frac{(\sqrt{5}-1)^{1/2}}{2\sqrt{2}} \right)$.

6. Sia $q : \mathbf{R} \rightarrow \mathbf{R}$ una funzione continua e tale che $q(0) = -1$, $q(1) = -1$. Per quale delle seguenti funzioni $p(x)$ l'equazione $q(x) - p(x) = 0$ ha soluzione nell'intervallo $[0, 1]$, per qualunque funzione q con le proprietà indicate? a $p(x) = \frac{1}{2} - x^2$; b $p(x) = x^2 + \frac{1}{2}$; c $p(x) = x^2 - \frac{1}{2}$; d $p(x) = -\frac{1}{2} - x^2$.

7. Quale delle seguenti figure rappresenta il grafico qualitativo per x vicino a 0 della soluzione del problema di Cauchy $\begin{cases} y' = 2xy - \frac{x}{y} \\ y(0) = 1 \end{cases}$?



8. L'equazione della retta tangente al grafico della funzione $f(x) = \frac{x^2-2}{x^2-3}$ nel punto $(1, f(1))$ è:
 a $y = -\frac{1}{2}x + 1$; b $y = \frac{5}{8}x - \frac{7}{8}$; c $y = -\frac{2}{9}x + \frac{14}{9}$; d $y = \frac{10}{9}x - \frac{16}{9}$.

ANALISI MATEMATICA 1 - Secondo appello		14 febbraio 2019
Cognome:	Nome:	Matricola:
Corso di laurea:		 Test Es1 Es2 Es3

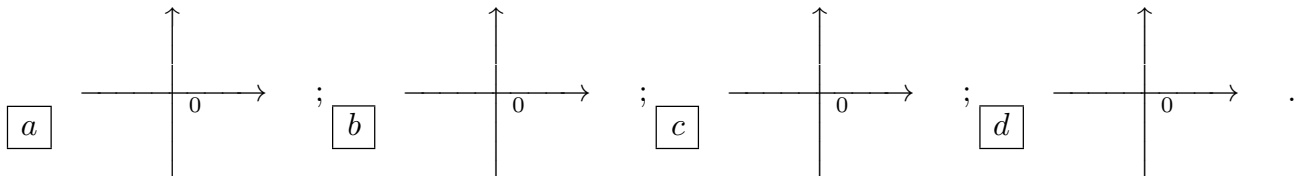
- Una ed una sola delle quattro affermazioni è corretta. Indicarla con una croce.
- Per annullare una risposta ritenuta errata racchiuderla in un cerchio.
- Risposta corretta: +1.5. Risposta errata: -0.25.

1. Sia $q : \mathbf{R} \rightarrow \mathbf{R}$ una funzione continua e tale che $q(0) = 0$, $q(1) = -1$. Per quale delle seguenti funzioni $p(x)$ l'equazione $q(x) - p(x) = 0$ ha soluzione nell'intervallo $[0, 1]$, per qualunque funzione q con le proprietà indicate? a $p(x) = x^2 + \frac{1}{2}$; b $p(x) = x^2 - \frac{1}{2}$; c $p(x) = -\frac{1}{2} - x^2$; d $p(x) = \frac{1}{2} - x^2$.

2. $\lim_{x \rightarrow +\infty} \frac{e^{x+1} - x^2}{2^{2x} + e^x - 1} =$ a $+\infty$; b $\frac{1}{3}$; c $\frac{1}{2}$; d 0 .

3. Il massimo assoluto e il minimo assoluto della funzione $f(x) = 1 - 12x^2 + 6x^4 - 4x^6$ in $[-1, 1]$ sono: a $\max f = 6$, $\min f = 1$; b $\max f = 1$, $\min f = -4$; c $\max f = 11$, $\min f = 1$; d $\max f = 1$, $\min f = -9$.

4. Quale delle seguenti figure rappresenta il grafico qualitativo per x vicino a 0 della soluzione del problema di Cauchy $\begin{cases} y' = \frac{xy}{2} - \frac{x}{y} \\ y(0) = 1 \end{cases}$?



5. Siano $g : \mathbf{R} \rightarrow \mathbf{R}$ una funzione derivabile due volte, con g'' continua e tale che $g''(x) \neq 0$ per ogni $x \in \mathbf{R}$. Sia $y = mx + q$ l'equazione della retta tangente al grafico di g nel punto $(x_0, g(x_0))$. Qual è l'insieme dei valori $\alpha > 0$, $\beta > 0$ per cui $\lim_{x \rightarrow x_0} \frac{|g(x) - mx - q|^{\alpha/2}}{|x - x_0|^{\beta/3}} = 0$? a $\alpha > \frac{3\beta}{4}$; b $\alpha > \beta$; c $\alpha > \frac{\beta}{3}$; d $\alpha > \frac{\beta}{4}$.

6. Qual è l'insieme dei valori $\alpha \in \mathbf{R}$ per cui la serie $\sum_{n=1}^{\infty} \frac{n^2 + n^\alpha}{n^4 + n^\alpha}$ è convergente? a $\alpha < 2$; b $\alpha < 4$; c $\alpha < 3$; d $\alpha < 5$.

7. L'equazione della retta tangente al grafico della funzione $f(x) = \frac{x^2-2}{x^2+3}$ nel punto $(1, f(1))$ è: a $y = \frac{5}{8}x - \frac{7}{8}$; b $y = -\frac{2}{9}x + \frac{14}{9}$; c $y = \frac{10}{9}x - \frac{16}{9}$; d $y = -\frac{1}{2}x + 1$.

8. Le soluzioni $z \in \mathbf{C}$ dell'equazione $2\bar{z}^2 + z^2 = 1 + i$ sono: a $z = \pm \left(\frac{\sqrt{6}}{2(\sqrt{10}-1)^{1/2}} + i \frac{(\sqrt{10}-1)^{1/2}}{\sqrt{6}} \right)$; b $z = \pm \left(\frac{\sqrt{6}}{2(\sqrt{10}-1)^{1/2}} - i \frac{(\sqrt{10}-1)^{1/2}}{\sqrt{6}} \right)$; c $z = \pm \left(\frac{1}{\sqrt{2}(\sqrt{5}-1)^{1/2}} + i \frac{(\sqrt{5}-1)^{1/2}}{2\sqrt{2}} \right)$; d $z = \pm \left(\frac{1}{\sqrt{2}(\sqrt{5}-1)^{1/2}} - i \frac{(\sqrt{5}-1)^{1/2}}{2\sqrt{2}} \right)$.

ANALISI MATEMATICA 1 - Secondo appello		14 febbraio 2019	
Cognome:	Nome:	Matricola:	
Corso di laurea:			
		Test	
		Es1	
		Es2	
		Es3	

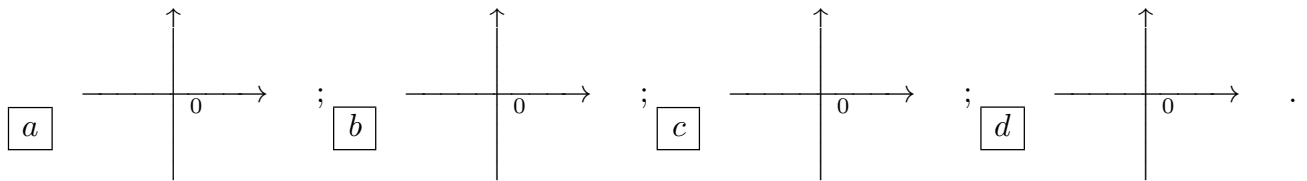
- Una ed una sola delle quattro affermazioni è corretta. Indicarla con una croce.
- Per annullare una risposta ritenuta errata racchiuderla in un cerchio.
- Risposta corretta: +1.5. Risposta errata: -0.25.

1. Qual è l'insieme dei valori $\alpha \in \mathbf{R}$ per cui la serie $\sum_{n=1}^{\infty} \frac{n^3 + n^\alpha}{n^5 + n^\alpha}$ è convergente?

a $\alpha < 4$; b $\alpha < 3$; c $\alpha < 5$; d $\alpha < 2$.

2. Il massimo assoluto e il minimo assoluto della funzione $f(x) = 1 + 12x^2 - 6x^4 + 4x^6$ in $[-1, 1]$ sono: a $\max f = 1, \min f = -4$; b $\max f = 11, \min f = 1$; c $\max f = 1, \min f = -9$; d $\max f = 6, \min f = 1$.

3. Quale delle seguenti figure rappresenta il grafico qualitativo per x vicino a 0 della soluzione del problema di Cauchy $\begin{cases} y' = xy - \frac{2x}{y} \\ y(0) = 1 \end{cases}$?



4. L'equazione della retta tangente al grafico della funzione $f(x) = \frac{x^2+3}{x^2+2}$ nel punto $(1, f(1))$ è: a $y = -\frac{2}{9}x + \frac{14}{9}$; b $y = \frac{10}{9}x - \frac{16}{9}$; c $y = -\frac{1}{2}x + 1$; d $y = \frac{5}{8}x - \frac{7}{8}$.

5. Sia $q : \mathbf{R} \rightarrow \mathbf{R}$ una funzione continua e tale che $q(0) = 0, q(1) = 1$. Per quale delle seguenti funzioni $p(x)$ l'equazione $q(x) - p(x) = 0$ ha soluzione nell'intervallo $[0, 1]$, per qualunque funzione q con le proprietà indicate? a $p(x) = x^2 - \frac{1}{2}$; b $p(x) = -\frac{1}{2} - x^2$; c $p(x) = \frac{1}{2} - x^2$; d $p(x) = x^2 + \frac{1}{2}$.

6. $\lim_{x \rightarrow +\infty} \frac{e^{1-x} + x^3}{3^{1-x} - x + x^2} =$ a $\frac{1}{3}$; b $\frac{1}{2}$; c 0 ; d $+\infty$.

7. Le soluzioni $z \in \mathbf{C}$ dell'equazione $\bar{z}^2 + 2z^2 = 1 + i$ sono: a $z = \pm \left(\frac{\sqrt{6}}{2(\sqrt{10}-1)^{1/2}} - i \frac{(\sqrt{10}-1)^{1/2}}{\sqrt{6}} \right)$; b $z = \pm \left(\frac{1}{\sqrt{2}(\sqrt{5}-1)^{1/2}} + i \frac{(\sqrt{5}-1)^{1/2}}{2\sqrt{2}} \right)$; c $z = \pm \left(\frac{1}{\sqrt{2}(\sqrt{5}-1)^{1/2}} - i \frac{(\sqrt{5}-1)^{1/2}}{2\sqrt{2}} \right)$; d $z = \pm \left(\frac{\sqrt{6}}{2(\sqrt{10}-1)^{1/2}} + i \frac{(\sqrt{10}-1)^{1/2}}{\sqrt{6}} \right)$.

8. Siano $g : \mathbf{R} \rightarrow \mathbf{R}$ una funzione derivabile due volte, con g'' continua e tale che $g''(x) \neq 0$ per ogni $x \in \mathbf{R}$. Sia $y = mx + q$ l'equazione della retta tangente al grafico di g nel punto $(x_0, g(x_0))$. Qual è l'insieme dei valori $\alpha > 0, \beta > 0$ per cui $\lim_{x \rightarrow x_0} \frac{|g(x) - mx - q|^{\alpha/2}}{|x - x_0|^{\beta/4}} = 0$?

a $\alpha > \beta$; b $\alpha > \frac{\beta}{3}$; c $\alpha > \frac{\beta}{4}$; d $\alpha > \frac{3\beta}{4}$.