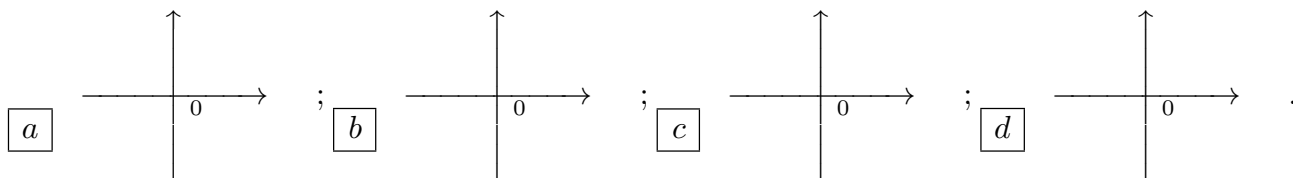


ANALISI MATEMATICA 1 - Terzo appello		20 giugno 2019			
Cognome:	Nome:	Matricola:			
Corso di laurea:		Test	Es1	Es2	Es3

- Una ed una sola delle quattro affermazioni è corretta. Indicarla con una croce.
- Per annullare una risposta ritenuta errata racchiuderla in un cerchio.
- Risposta corretta: +1.5. Risposta errata: -0.25.

1. $\lim_{x \rightarrow 0} \frac{x^2 + \sin(x^2)}{x - \frac{1}{2} \log(1 + 2x)} =$ a $\frac{1}{2}$; b 2; c -2; d $-\frac{1}{2}$.

2. Quale delle seguenti figure rappresenta il grafico qualitativo per x vicino a 0 della soluzione del problema di Cauchy $\begin{cases} y' = y^3 + x \\ y(0) = 1 \end{cases}$?



3. L'equazione della retta tangente al grafico della funzione $f(x) = e^{2 \log x} \sin(\sqrt{x})$ nel punto $(\frac{\pi^2}{4}, f(\frac{\pi^2}{4}))$ è: a $y = -2\pi^2 x + \pi^4$; b $y = -\frac{\pi^3}{2} x + \frac{\pi^5}{2}$; c $y = \frac{\pi^2}{2} x - \frac{\pi^4}{16}$; d $y = -\frac{\pi^3}{16} x + \frac{\pi^5}{64}$.

4. Sia $\frac{a_0}{2} + \sum_{k=1}^{\infty} [a_k \cos(kx) + b_k \sin(kx)]$ la serie di Fourier della funzione $f(x) = 5x$ nell'intervallo $(-\pi, \pi)$. Allora $b_2 =$ a $-\frac{3}{2}$; b $\frac{4}{5}$; c $\frac{8}{3}$; d -5.

5. Il raggio di convergenza della serie di potenze $\sum_{n=0}^{\infty} (n+3+e^{-2n^2})x^n$ è: a $\frac{1}{9}$; b $\frac{1}{4}$; c 1; d $\frac{1}{6}$.

6. Il massimo assoluto e il minimo assoluto della funzione $f(x) = \log(x^3 - 6x^2 - 15x + 90)$ in $[-2, 2]$ sono: a $\max f = \log 97$, $\min f = \log 65$; b $\max f = \log 87$, $\min f = \log 6$; c $\max f = \log 98$, $\min f = \log 44$; d $\max f = \log 72$, $\min f = \log 54$.

7. Siano $g : \mathbf{R} \rightarrow \mathbf{R}$ una funzione derivabile due volte, con derivata seconda continua. Se $g'(x_0) = 0$ e $g''(x_0) > 0$, allora: a x_0 non è né punto di massimo relativo né punto di minimo relativo per g ; b x_0 è punto di flesso orizzontale per g ; c x_0 è punto di massimo relativo per g ; d x_0 è punto di minimo relativo per g .

8. Sia $q : \mathbf{R} \rightarrow \mathbf{R}$ una funzione continua tale che $q(x) = x^3$ per $|x| \leq 1$, $q(x) \geq 1$ per $|x| \geq 2$. Allora, per qualunque funzione q con le proprietà indicate, si ha che: a q ha minimo su \mathbf{R} e $\min_{x \in \mathbf{R}} q(x) \geq 1$; b q ha massimo su \mathbf{R} e $\max_{x \in \mathbf{R}} q(x) \leq -1$; c q ha minimo su \mathbf{R} e $\min_{x \in \mathbf{R}} q(x) \leq -1$; d q ha massimo su \mathbf{R} e $\max_{x \in \mathbf{R}} q(x) \geq 1$.

ANALISI MATEMATICA 1 - Terzo appello		20 giugno 2019
Cognome:	Nome:	Matricola:
Corso di laurea:		 Test Es1 Es2 Es3

- Una ed una sola delle quattro affermazioni è corretta. Indicarla con una croce.
- Per annullare una risposta ritenuta errata racchiuderla in un cerchio.
- Risposta corretta: +1.5. Risposta errata: -0.25.

1. Il massimo assoluto e il minimo assoluto della funzione $f(x) = \log(x^3 + 7x^2 + 8x + 56)$ in $[-5, -1]$ sono: a $\max f = \log 87, \min f = \log 6$; b $\max f = \log 98, \min f = \log 44$; c $\max f = \log 72, \min f = \log 54$; d $\max f = \log 97, \min f = \log 65$.

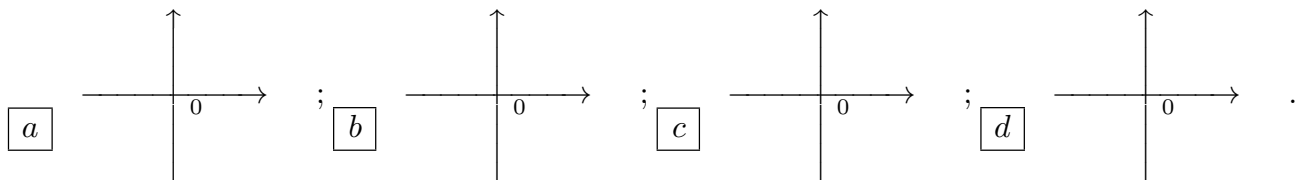
2. L'equazione della retta tangente al grafico della funzione $f(x) = e^{2 \log x} \cos(\sqrt{x})$ nel punto $(\frac{\pi^2}{4}, f(\frac{\pi^2}{4}))$ è: a $y = -\frac{\pi^3}{2}x + \frac{\pi^5}{2}$; b $y = \frac{\pi^2}{2}x - \frac{\pi^4}{16}$; c $y = -\frac{\pi^3}{16}x + \frac{\pi^5}{64}$; d $y = -2\pi^2x + \pi^4$.

3. Sia $\frac{a_0}{2} + \sum_{k=1}^{\infty} [a_k \cos(kx) + b_k \sin(kx)]$ la serie di Fourier della funzione $f(x) = 4x$ nell'intervallo $(-\pi, \pi)$. Allora $b_3 =$ a $\frac{4}{5}$; b $\frac{8}{3}$; c -5 ; d $-\frac{3}{2}$.

4. Siano $g : \mathbf{R} \rightarrow \mathbf{R}$ una funzione derivabile due volte, con derivata seconda continua. Se $g'(x_0) = 0$ e $g''(x_0) < 0$, allora: a x_0 è punto di flesso orizzontale per g ; b x_0 è punto di massimo relativo per g ; c x_0 è punto di minimo relativo per g ; d x_0 non è né punto di massimo relativo né punto di minimo relativo per g .

5. $\lim_{x \rightarrow 0} \frac{x + \frac{1}{2} \log(1 - 2x)}{x^2 + \tan(x^2)} =$ a 2 ; b -2 ; c $-\frac{1}{2}$; d $\frac{1}{2}$.

6. Quale delle seguenti figure rappresenta il grafico qualitativo per x vicino a 0 della soluzione del problema di Cauchy $\begin{cases} y' = y^3 - 4x \\ y(0) = 1 \end{cases}$?



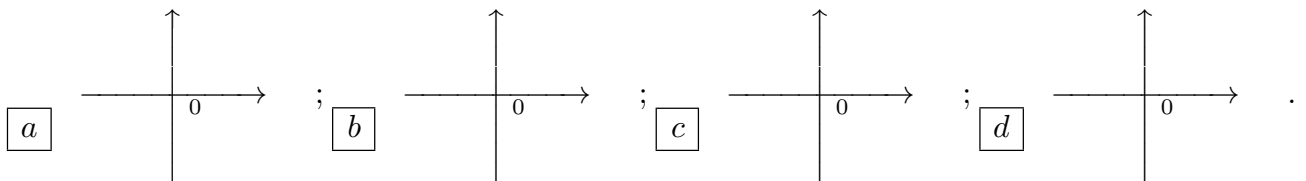
7. Sia $q : \mathbf{R} \rightarrow \mathbf{R}$ una funzione continua tale che $q(x) = x^3$ per $|x| \leq 1$, $q(x) \leq -1$ per $|x| \geq 2$. Allora, per qualunque funzione q con le proprietà indicate, si ha che: a q ha massimo su \mathbf{R} e $\max_{x \in \mathbf{R}} q(x) \leq -1$; b q ha minimo su \mathbf{R} e $\min_{x \in \mathbf{R}} q(x) \leq -1$; c q ha massimo su \mathbf{R} e $\max_{x \in \mathbf{R}} q(x) \geq 1$; d q ha minimo su \mathbf{R} e $\min_{x \in \mathbf{R}} q(x) \geq 1$.

8. Il raggio di convergenza della serie di potenze $\sum_{n=0}^{\infty} (n+2+e^{-3n^2})x^n$ è: a $\frac{1}{4}$; b 1 ; c $\frac{1}{6}$; d $\frac{1}{9}$.

ANALISI MATEMATICA 1 - Terzo appello		20 giugno 2019
Cognome:	Nome:	Matricola:
Corso di laurea:		Test Es1 Es2 Es3

- Una ed una sola delle quattro affermazioni è corretta. Indicarla con una croce.
- Per annullare una risposta ritenuta errata racchiuderla in un cerchio.
- Risposta corretta: +1.5. Risposta errata: -0.25.

1. Quale delle seguenti figure rappresenta il grafico qualitativo per x vicino a 0 della soluzione del problema di Cauchy $\begin{cases} y' = 2x - y^3 \\ y(0) = 1 \end{cases}$?



2. Sia $\frac{a_0}{2} + \sum_{k=1}^{\infty} [a_k \cos(kx) + b_k \sin(kx)]$ la serie di Fourier della funzione $f(x) = 3x$ nell'intervallo $(-\pi, \pi)$. Allora $b_4 =$ a $\frac{8}{3}$; b -5 ; c $-\frac{3}{2}$; d $\frac{4}{5}$.
3. Siano $g : \mathbf{R} \rightarrow \mathbf{R}$ una funzione derivabile due volte, con derivata seconda continua. Se $g'(x_0) > 0$ e $g''(x_0) = 0$, allora: a x_0 è punto di massimo relativo per g ; b x_0 è punto di minimo relativo per g ; c x_0 non è né punto di massimo relativo né punto di minimo relativo per g ; d x_0 è punto di flesso orizzontale per g .
4. Sia $q : \mathbf{R} \rightarrow \mathbf{R}$ una funzione continua tale che $q(x) = x^5$ per $|x| \leq 1$, $q(x) \geq 1$ per $|x| \geq 2$. Allora, per qualunque funzione q con le proprietà indicate, si ha che: a q ha minimo su \mathbf{R} e $\min_{x \in \mathbf{R}} q(x) \leq -1$; b q ha massimo su \mathbf{R} e $\max_{x \in \mathbf{R}} q(x) \geq 1$; c q ha minimo su \mathbf{R} e $\min_{x \in \mathbf{R}} q(x) \geq 1$; d q ha massimo su \mathbf{R} e $\max_{x \in \mathbf{R}} q(x) \leq -1$.
5. Il massimo assoluto e il minimo assoluto della funzione $f(x) = \log(x^3 - 9x^2 + 15x + 80)$ in $[-2, 2]$ sono: a $\max f = \log 98$, $\min f = \log 44$; b $\max f = \log 72$, $\min f = \log 54$; c $\max f = \log 97$, $\min f = \log 65$; d $\max f = \log 87$, $\min f = \log 6$.
6. L'equazione della retta tangente al grafico della funzione $f(x) = e^{2 \log x} \cos(\sqrt{x})$ nel punto $(\pi^2, f(\pi^2))$ è: a $y = \frac{\pi^2}{2}x - \frac{\pi^4}{16}$; b $y = -\frac{\pi^3}{16}x + \frac{\pi^5}{64}$; c $y = -2\pi^2x + \pi^4$; d $y = -\frac{\pi^3}{2}x + \frac{\pi^5}{2}$.
7. Il raggio di convergenza della serie di potenze $\sum_{n=0}^{\infty} (n+3+e^{-3n^2})x^n$ è: a 1; b $\frac{1}{6}$; c $\frac{1}{9}$; d $\frac{1}{4}$.
8. $\lim_{x \rightarrow 0} \frac{x - \log(1+x)}{e^{x^2} - \cos(x^2)} =$ a -2; b $-\frac{1}{2}$; c $\frac{1}{2}$; d 2.

ANALISI MATEMATICA 1 - Terzo appello		20 giugno 2019
Cognome:	Nome:	Matricola:
Corso di laurea:		 Test Es1 Es2 Es3

- Una ed una sola delle quattro affermazioni è corretta. Indicarla con una croce.
- Per annullare una risposta ritenuta errata racchiuderla in un cerchio.
- Risposta corretta: +1.5. Risposta errata: -0.25.

- L'equazione della retta tangente al grafico della funzione $f(x) = e^{2 \log x} \sin(\sqrt{x})$ nel punto $(\pi^2, f(\pi^2))$ è: a $y = -\frac{\pi^3}{16}x + \frac{\pi^5}{64}$; b $y = -2\pi^2x + \pi^4$; c $y = -\frac{\pi^3}{2}x + \frac{\pi^5}{2}$; d $y = \frac{\pi^2}{2}x - \frac{\pi^4}{16}$.
- Siano $g : \mathbf{R} \rightarrow \mathbf{R}$ una funzione derivabile due volte, con derivata seconda continua. Se $g'(x_0) < 0$ e $g''(x_0) = 0$, allora: a x_0 è punto di minimo relativo per g ; b x_0 non è né punto di massimo relativo né punto di minimo relativo per g ; c x_0 è punto di flesso orizzontale per g ; d x_0 è punto di massimo relativo per g .
- Sia $q : \mathbf{R} \rightarrow \mathbf{R}$ una funzione continua tale che $q(x) = x^5$ per $|x| \leq 1$, $q(x) \leq -1$ per $|x| \geq 2$. Allora, per qualunque funzione q con le proprietà indicate, si ha che: a q ha massimo su \mathbf{R} e $\max_{x \in \mathbf{R}} q(x) \geq 1$; b q ha minimo su \mathbf{R} e $\min_{x \in \mathbf{R}} q(x) \geq 1$; c q ha massimo su \mathbf{R} e $\max_{x \in \mathbf{R}} q(x) \leq -1$; d q ha minimo su \mathbf{R} e $\min_{x \in \mathbf{R}} q(x) \leq -1$.
- Il raggio di convergenza della serie di potenze $\sum_{n=0}^{\infty} (n + 2 + e^{-2n^2})x^n$ è: a $\frac{1}{6}$; b $\frac{1}{9}$; c $\frac{1}{4}$; d 1.
- Quale delle seguenti figure rappresenta il grafico qualitativo per x vicino a 0 della soluzione del problema di Cauchy $\begin{cases} y' = -5x - y^3 \\ y(0) = 1 \end{cases}$?

a

b

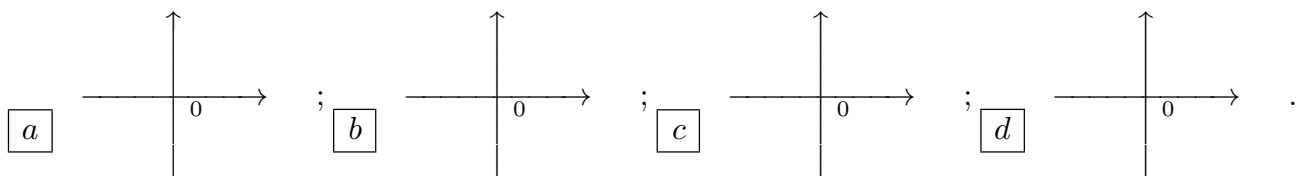
c

d
- Sia $\frac{a_0}{2} + \sum_{k=1}^{\infty} [a_k \cos(kx) + b_k \sin(kx)]$ la serie di Fourier della funzione $f(x) = 2x$ nell'intervallo $(-\pi, \pi)$. Allora $b_5 =$ a -5; b $-\frac{3}{2}$; c $\frac{4}{5}$; d $\frac{8}{3}$.
- $\lim_{x \rightarrow 0} \frac{\cos(x^2) - e^{-x^2}}{x + \log(1-x)}$ = a $-\frac{1}{2}$; b $\frac{1}{2}$; c 2; d -2.
- Il massimo assoluto e il minimo assoluto della funzione $f(x) = \log(x^3 + 3x^2 - 9x + 70)$ in $[-5, -1]$ sono: a $\max f = \log 72$, $\min f = \log 54$; b $\max f = \log 97$, $\min f = \log 65$; c $\max f = \log 87$, $\min f = \log 6$; d $\max f = \log 98$, $\min f = \log 44$.

ANALISI MATEMATICA 1 - Terzo appello		20 giugno 2019
Cognome:	Nome:	Matricola:
Corso di laurea:		 Test Es1 Es2 Es3

- Una ed una sola delle quattro affermazioni è corretta. Indicarla con una croce.
- Per annullare una risposta ritenuta errata racchiuderla in un cerchio.
- Risposta corretta: +1.5. Risposta errata: -0.25.

- Sia $\frac{a_0}{2} + \sum_{k=1}^{\infty} [a_k \cos(kx) + b_k \sin(kx)]$ la serie di Fourier della funzione $f(x) = 3x$ nell'intervallo $(-\pi, \pi)$. Allora $b_4 =$ a $-\frac{3}{2}$; b $\frac{4}{5}$; c $\frac{8}{3}$; d -5 .
- Sia $q : \mathbf{R} \rightarrow \mathbf{R}$ una funzione continua tale che $q(x) = x^3$ per $|x| \leq 1$, $q(x) \leq -1$ per $|x| \geq 2$. Allora, per qualunque funzione q con le proprietà indicate, si ha che: a q ha minimo su \mathbf{R} e $\min_{x \in \mathbf{R}} q(x) \geq 1$; b q ha massimo su \mathbf{R} e $\max_{x \in \mathbf{R}} q(x) \leq -1$; c q ha minimo su \mathbf{R} e $\min_{x \in \mathbf{R}} q(x) \leq -1$; d q ha massimo su \mathbf{R} e $\max_{x \in \mathbf{R}} q(x) \geq 1$.
- Il raggio di convergenza della serie di potenze $\sum_{n=0}^{\infty} (n+3+e^{-2n^2})x^n$ è: a $\frac{1}{9}$; b $\frac{1}{4}$; c 1 ; d $\frac{1}{6}$.
- $\lim_{x \rightarrow 0} \frac{x + \frac{1}{2} \log(1-2x)}{x^2 + \tan(x^2)} =$ a $\frac{1}{2}$; b 2 ; c -2 ; d $-\frac{1}{2}$.
- L'equazione della retta tangente al grafico della funzione $f(x) = e^{2 \log x} \sin(\sqrt{x})$ nel punto $(\frac{\pi^2}{4}, f(\frac{\pi^2}{4}))$ è: a $y = -2\pi^2 x + \pi^4$; b $y = -\frac{\pi^3}{2} x + \frac{\pi^5}{2}$; c $y = \frac{\pi^2}{2} x - \frac{\pi^4}{16}$; d $y = -\frac{\pi^3}{16} x + \frac{\pi^5}{64}$.
- Siano $g : \mathbf{R} \rightarrow \mathbf{R}$ una funzione derivabile due volte, con derivata seconda continua. Se $g'(x_0) = 0$ e $g''(x_0) < 0$, allora: a x_0 non è né punto di massimo relativo né punto di minimo relativo per g ; b x_0 è punto di flesso orizzontale per g ; c x_0 è punto di massimo relativo per g ; d x_0 è punto di minimo relativo per g .
- Il massimo assoluto e il minimo assoluto della funzione $f(x) = \log(x^3 + 7x^2 + 8x + 56)$ in $[-5, -1]$ sono: a $\max f = \log 97, \min f = \log 65$; b $\max f = \log 87, \min f = \log 6$; c $\max f = \log 98, \min f = \log 44$; d $\max f = \log 72, \min f = \log 54$.
- Quale delle seguenti figure rappresenta il grafico qualitativo per x vicino a 0 della soluzione del problema di Cauchy $\begin{cases} y' = -5x - y^3 \\ y(0) = 1 \end{cases}$?



ANALISI MATEMATICA 1 - Terzo appello		20 giugno 2019
Cognome:	Nome:	Matricola:
Corso di laurea:		 Test Es1 Es2 Es3

- Una ed una sola delle quattro affermazioni è corretta. Indicarla con una croce.
- Per annullare una risposta ritenuta errata racchiuderla in un cerchio.
- Risposta corretta: +1.5. Risposta errata: -0.25.

1. Siano $g : \mathbf{R} \rightarrow \mathbf{R}$ una funzione derivabile due volte, con derivata seconda continua. Se $g'(x_0) > 0$ e $g''(x_0) = 0$, allora: a x_0 è punto di flesso orizzontale per g ; b x_0 è punto di massimo relativo per g ; c x_0 è punto di minimo relativo per g ; d x_0 non è né punto di massimo relativo né punto di minimo relativo per g .

2. Il raggio di convergenza della serie di potenze $\sum_{n=0}^{\infty} (n+3+e^{-3n^2})x^n$ è: a $\frac{1}{4}$; b 1; c $\frac{1}{6}$; d $\frac{1}{9}$.

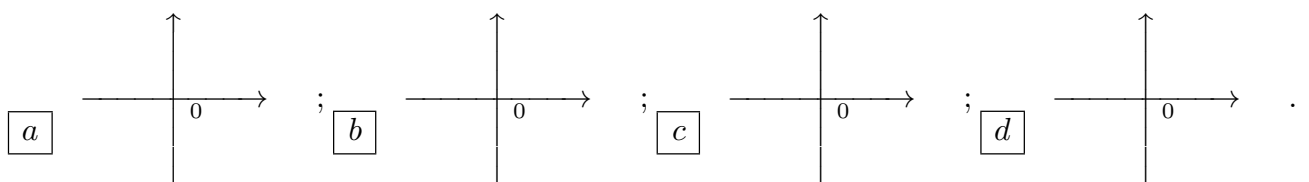
3. $\lim_{x \rightarrow 0} \frac{x^2 + \sin(x^2)}{x - \frac{1}{2} \log(1+2x)} =$ a 2; b -2; c $-\frac{1}{2}$; d $\frac{1}{2}$.

4. Il massimo assoluto e il minimo assoluto della funzione $f(x) = \log(x^3 - 9x^2 + 15x + 80)$ in $[-2, 2]$ sono: a $\max f = \log 87$, $\min f = \log 6$; b $\max f = \log 98$, $\min f = \log 44$; c $\max f = \log 72$, $\min f = \log 54$; d $\max f = \log 97$, $\min f = \log 65$.

5. Sia $\frac{a_0}{2} + \sum_{k=1}^{\infty} [a_k \cos(kx) + b_k \sin(kx)]$ la serie di Fourier della funzione $f(x) = 4x$ nell'intervallo $(-\pi, \pi)$. Allora $b_3 =$ a $\frac{4}{5}$; b $\frac{8}{3}$; c -5; d $-\frac{3}{2}$.

6. Sia $q : \mathbf{R} \rightarrow \mathbf{R}$ una funzione continua tale che $q(x) = x^5$ per $|x| \leq 1$, $q(x) \geq 1$ per $|x| \geq 2$. Allora, per qualunque funzione q con le proprietà indicate, si ha che: a q ha massimo su \mathbf{R} e $\max_{x \in \mathbf{R}} q(x) \leq -1$; b q ha minimo su \mathbf{R} e $\min_{x \in \mathbf{R}} q(x) \leq -1$; c q ha massimo su \mathbf{R} e $\max_{x \in \mathbf{R}} q(x) \geq 1$; d q ha minimo su \mathbf{R} e $\min_{x \in \mathbf{R}} q(x) \geq 1$.

7. Quale delle seguenti figure rappresenta il grafico qualitativo per x vicino a 0 della soluzione del problema di Cauchy $\begin{cases} y' = 2x - y^3 \\ y(0) = 1 \end{cases}$?



8. L'equazione della retta tangente al grafico della funzione $f(x) = e^{2 \log x} \cos(\sqrt{x})$ nel punto $(\frac{\pi^2}{4}, f(\frac{\pi^2}{4}))$ è: a $y = -\frac{\pi^3}{2}x + \frac{\pi^5}{2}$; b $y = \frac{\pi^2}{2}x - \frac{\pi^4}{16}$; c $y = -\frac{\pi^3}{16}x + \frac{\pi^5}{64}$; d $y = -2\pi^2x + \pi^4$.

ANALISI MATEMATICA 1 - Terzo appello		20 giugno 2019
Cognome:	Nome:	Matricola:
Corso di laurea:		 Test Es1 Es2 Es3

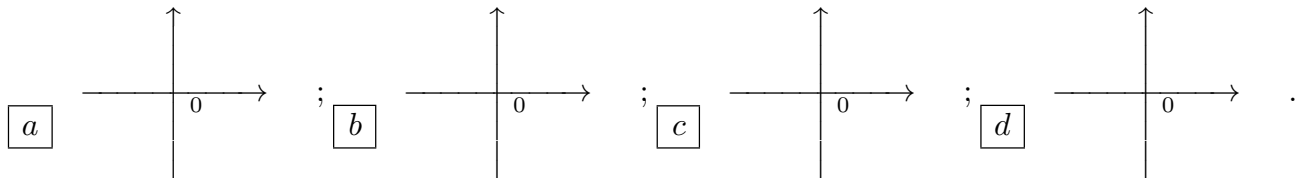
- Una ed una sola delle quattro affermazioni è corretta. Indicarla con una croce.
- Per annullare una risposta ritenuta errata racchiuderla in un cerchio.
- Risposta corretta: +1.5. Risposta errata: -0.25.

1. Sia $q : \mathbf{R} \rightarrow \mathbf{R}$ una funzione continua tale che $q(x) = x^3$ per $|x| \leq 1$, $q(x) \geq 1$ per $|x| \geq 2$. Allora, per qualunque funzione q con le proprietà indicate, si ha che: a q ha minimo su \mathbf{R} e $\min_{x \in \mathbf{R}} q(x) \leq -1$; b q ha massimo su \mathbf{R} e $\max_{x \in \mathbf{R}} q(x) \geq 1$; c q ha minimo su \mathbf{R} e $\min_{x \in \mathbf{R}} q(x) \geq 1$; d q ha massimo su \mathbf{R} e $\max_{x \in \mathbf{R}} q(x) \leq -1$.

2. $\lim_{x \rightarrow 0} \frac{\cos(x^2) - e^{-x^2}}{x + \log(1-x)} =$ a -2 ; b $-\frac{1}{2}$; c $\frac{1}{2}$; d 2 .

3. Il massimo assoluto e il minimo assoluto della funzione $f(x) = \log(x^3 - 6x^2 - 15x + 90)$ in $[-2, 2]$ sono: a $\max f = \log 98$, $\min f = \log 44$; b $\max f = \log 72$, $\min f = \log 54$; c $\max f = \log 97$, $\min f = \log 65$; d $\max f = \log 87$, $\min f = \log 6$.

4. Quale delle seguenti figure rappresenta il grafico qualitativo per x vicino a 0 della soluzione del problema di Cauchy $\begin{cases} y' = y^3 - 4x \\ y(0) = 1 \end{cases}$?



5. Siano $g : \mathbf{R} \rightarrow \mathbf{R}$ una funzione derivabile due volte, con derivata seconda continua. Se $g'(x_0) = 0$ e $g''(x_0) > 0$, allora: a x_0 è punto di massimo relativo per g ; b x_0 è punto di minimo relativo per g ; c x_0 non è né punto di massimo relativo né punto di minimo relativo per g ; d x_0 è punto di flesso orizzontale per g .

6. Il raggio di convergenza della serie di potenze $\sum_{n=0}^{\infty} (n+2+e^{-2n^2})x^n$ è: a 1 ; b $\frac{1}{6}$; c $\frac{1}{9}$; d $\frac{1}{4}$.

7. L'equazione della retta tangente al grafico della funzione $f(x) = e^{2 \log x} \cos(\sqrt{x})$ nel punto $(\pi^2, f(\pi^2))$ è: a $y = \frac{\pi^2}{2}x - \frac{\pi^4}{16}$; b $y = -\frac{\pi^3}{16}x + \frac{\pi^5}{64}$; c $y = -2\pi^2x + \pi^4$; d $y = -\frac{\pi^3}{2}x + \frac{\pi^5}{2}$.

8. Sia $\frac{a_0}{2} + \sum_{k=1}^{\infty} [a_k \cos(kx) + b_k \sin(kx)]$ la serie di Fourier della funzione $f(x) = 2x$ nell'intervallo $(-\pi, \pi)$. Allora $b_5 =$ a $\frac{8}{3}$; b -5 ; c $-\frac{3}{2}$; d $\frac{4}{5}$.

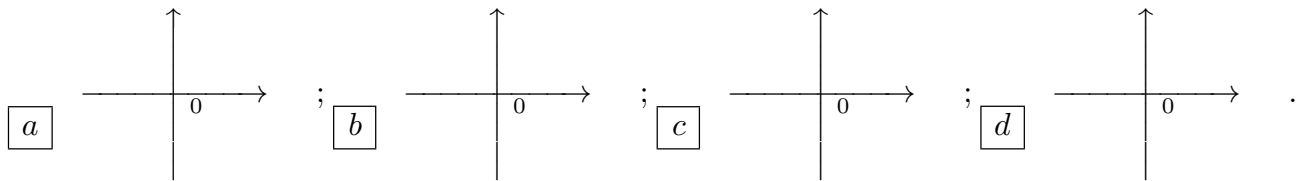
ANALISI MATEMATICA 1 - Terzo appello		20 giugno 2019
Cognome:	Nome:	Matricola:
Corso di laurea:		 Test Es1 Es2 Es3

- Una ed una sola delle quattro affermazioni è corretta. Indicarla con una croce.
- Per annullare una risposta ritenuta errata racchiuderla in un cerchio.
- Risposta corretta: +1.5. Risposta errata: -0.25.

1. Il raggio di convergenza della serie di potenze $\sum_{n=0}^{\infty} (n+2 + e^{-3n^2})x^n$ è: a $\frac{1}{6}$; b $\frac{1}{9}$; c $\frac{1}{4}$; d 1.

2. Il massimo assoluto e il minimo assoluto della funzione $f(x) = \log(x^3 + 3x^2 - 9x + 70)$ in $[-5, -1]$ sono: a $\max f = \log 72, \min f = \log 54$; b $\max f = \log 97, \min f = \log 65$; c $\max f = \log 87, \min f = \log 6$; d $\max f = \log 98, \min f = \log 44$.

3. Quale delle seguenti figure rappresenta il grafico qualitativo per x vicino a 0 della soluzione del problema di Cauchy $\begin{cases} y' = y^3 + x \\ y(0) = 1 \end{cases}$?



4. L'equazione della retta tangente al grafico della funzione $f(x) = e^{2 \log x} \sin(\sqrt{x})$ nel punto $(\pi^2, f(\pi^2))$ è: a $y = -\frac{\pi^3}{16}x + \frac{\pi^5}{64}$; b $y = -2\pi^2x + \pi^4$; c $y = -\frac{\pi^3}{2}x + \frac{\pi^5}{2}$; d $y = \frac{\pi^2}{2}x - \frac{\pi^4}{16}$.

5. Sia $q : \mathbf{R} \rightarrow \mathbf{R}$ una funzione continua tale che $q(x) = x^5$ per $|x| \leq 1$, $q(x) \leq -1$ per $|x| \geq 2$. Allora, per qualunque funzione q con le proprietà indicate, si ha che: a q ha massimo su \mathbf{R} e $\max_{x \in \mathbf{R}} q(x) \geq 1$; b q ha minimo su \mathbf{R} e $\min_{x \in \mathbf{R}} q(x) \geq 1$; c q ha massimo su \mathbf{R} e $\max_{x \in \mathbf{R}} q(x) \leq -1$; d q ha minimo su \mathbf{R} e $\min_{x \in \mathbf{R}} q(x) \leq -1$.

6. $\lim_{x \rightarrow 0} \frac{x - \log(1+x)}{e^{x^2} - \cos(x^2)} =$ a $-\frac{1}{2}$; b $\frac{1}{2}$; c 2; d -2.

7. Sia $\frac{a_0}{2} + \sum_{k=1}^{\infty} [a_k \cos(kx) + b_k \sin(kx)]$ la serie di Fourier della funzione $f(x) = 5x$ nell'intervallo $(-\pi, \pi)$. Allora $b_2 =$ a -5; b $-\frac{3}{2}$; c $\frac{4}{5}$; d $\frac{8}{3}$.

8. Siano $g : \mathbf{R} \rightarrow \mathbf{R}$ una funzione derivabile due volte, con derivata seconda continua. Se $g'(x_0) < 0$ e $g''(x_0) = 0$, allora: a x_0 è punto di minimo relativo per g ; b x_0 non è né punto di massimo relativo né punto di minimo relativo per g ; c x_0 è punto di flesso orizzontale per g ; d x_0 è punto di massimo relativo per g .