

ANALISI MATEMATICA 1 - Primo appello		23 gennaio 2012
Cognome:	Nome:	Matricola:
Corso di laurea:		 Test Es1 Es2 Es3

- Una ed una sola delle quattro affermazioni è corretta. Indicarla con una croce.
- Per annullare una risposta ritenuta errata racchiuderla in un cerchio.
- Risposta corretta: +1.5. Risposta errata: -0.25.

1. Sia $z = x + iy \in \mathbf{C}$. L'insieme $\{z \in \mathbf{C} : |\sqrt{2}z - 1| \geq |\sqrt{2}z + 1|\}$ è: a $\{z \in \mathbf{C} : x \geq 0\}$; b $\{z \in \mathbf{C} : x \geq 1/2\}$; c $\{z \in \mathbf{C} : x \leq 0\}$; d $\{z \in \mathbf{C} : x \leq 1/2\}$.

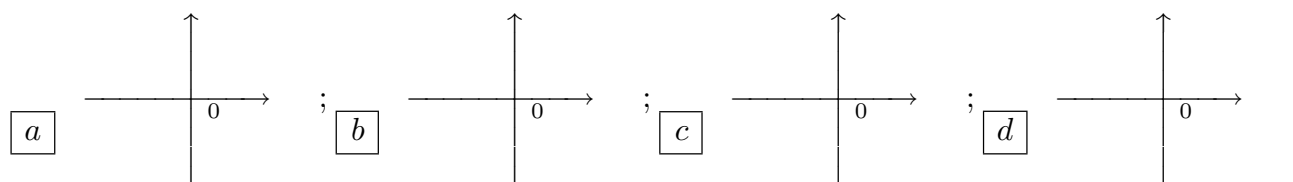
2. Sia $g : \mathbf{R} \rightarrow \mathbf{R}$ una funzione derivabile con derivata continua, tale che $g(1) = 0$. Allora $\int_0^1 \frac{g(x)}{x+1} dx =$ a $-\int_0^1 g(x) \log(x+1) dx$; b $\int_0^1 g(x) \log(x+1) dx$; c $-\int_0^1 g'(x) \log(x+1) dx$; d $\int_0^1 g'(x) \log(x+1) dx$.

3. $f : \mathbf{R} \rightarrow \mathbf{R}$ è continua e $\lim_{x \rightarrow +\infty} f(x) = \lim_{x \rightarrow -\infty} f(x) = +\infty$. Allora è sempre vero che: a $\int_0^{+\infty} \frac{1}{[f(x)]^2 + 1} dx$ è convergente; b f è crescente per x grande ; c f ha minimo in \mathbf{R} ; d f è convessa in \mathbf{R} .

4. $\sum_{n=1}^{+\infty} \frac{1}{(n+3)(n+2)} =$ a $\frac{1}{3}$; b $\frac{1}{4}$; c 1 ; d $\frac{1}{2}$.

5. La funzione f , definita da $f(x) = |x|(e^x - 1)$, a è discontinua ma limitata in un intorno di $x = 0$; b ha una discontinuità eliminabile per $x = 0$; c è derivabile in $x = 0$; d è continua ma non derivabile in $x = 0$.

6. Vicino all'origine il grafico del polinomio di Taylor di secondo grado e centro $x_0 = 0$ di $f(x) = \log(1 - 2 \sin x)$ è:



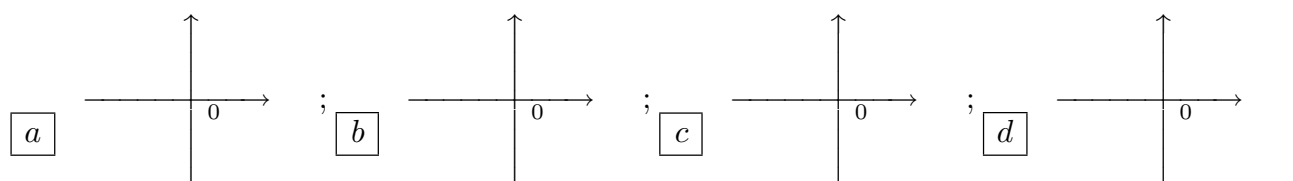
7. $\lim_{n \rightarrow +\infty} \frac{(n+2)!}{n!} \log\left(\frac{2n^2}{2n^2-1}\right) =$ a $\frac{1}{2}$; b $+\infty$; c 1 ; d 2 .

8. Se $y(x)$ è la soluzione del problema di Cauchy $\begin{cases} y' = y^{-1} \sin x \\ y(0) = 1 \end{cases}$. Allora $y(\pi) =$ a $\sqrt{3}$; b 1 ; c $\sqrt{5}$; d $\sqrt{2}$.

ANALISI MATEMATICA 1 - Primo appello		23 gennaio 2012								
Cognome:	Nome:	Matricola:								
Corso di laurea:		<table style="margin: auto; border-collapse: collapse;"> <tr> <td style="border: 1px solid black; padding: 2px;">Test</td> <td style="border: 1px solid black; padding: 2px;"> </td> <td style="border: 1px solid black; padding: 2px;">Es1</td> <td style="border: 1px solid black; padding: 2px;"> </td> <td style="border: 1px solid black; padding: 2px;">Es2</td> <td style="border: 1px solid black; padding: 2px;"> </td> <td style="border: 1px solid black; padding: 2px;">Es3</td> <td style="border: 1px solid black; padding: 2px;"> </td> </tr> </table>	Test		Es1		Es2		Es3	
Test		Es1		Es2		Es3				

- Una ed una sola delle quattro affermazioni è corretta. Indicarla con una croce.
- Per annullare una risposta ritenuta errata racchiuderla in un cerchio.
- Risposta corretta: +1.5. Risposta errata: -0.25.

1. Vicino all'origine il grafico del polinomio di Taylor di secondo grado e centro $x_0 = 0$ di $f(x) = \log(1 + 3 \sin x)$ è:



2. $f : \mathbf{R} \rightarrow \mathbf{R}$ è continua e $\lim_{x \rightarrow +\infty} f(x) = \lim_{x \rightarrow -\infty} f(x) = -\infty$. Allora è sempre vero che:

- a f è decrescente per x grande ; b f ha massimo in \mathbf{R} ; c f è concava in \mathbf{R} ;
 d $\int_0^{+\infty} \frac{1}{[f(x)]^2 + 1} dx$ è convergente.

3. $\sum_{n=1}^{+\infty} \frac{1}{(n+3)(n+4)} =$ a $\frac{1}{4}$; b 1; c $\frac{1}{2}$; d $\frac{1}{3}$.

4. $\lim_{n \rightarrow +\infty} \frac{(n+3)!}{(n+1)!} \log\left(\frac{n^2}{n^2-1}\right) =$ a $+\infty$; b 1; c 2; d $\frac{1}{2}$.

5. Sia $z = x + iy \in \mathbf{C}$. L'insieme $\{z \in \mathbf{C} : |z-2| \geq |z+1|\}$ è: a $\{z \in \mathbf{C} : x \geq 1/2\}$;
 b $\{z \in \mathbf{C} : x \leq 0\}$; c $\{z \in \mathbf{C} : x \leq 1/2\}$; d $\{z \in \mathbf{C} : x \geq 0\}$.

6. Sia $g : \mathbf{R} \rightarrow \mathbf{R}$ una funzione derivabile con derivata continua, tale che $g(0) = 0$. Allora $\int_0^1 \frac{g(x)}{2-x} dx =$ a $\int_0^1 g(x) \log(2-x) dx$; b $-\int_0^1 g'(x) \log(2-x) dx$;
 c $\int_0^1 g'(x) \log(2-x) dx$; d $-\int_0^1 g(x) \log(2-x) dx$.

7. Se $y(x)$ è la soluzione del problema di Cauchy $\begin{cases} y' = y^{-1} \cos x \\ y(0) = 1 \end{cases}$. Allora $y(\frac{\pi}{2}) =$ a 1;
 b $\sqrt{5}$; c $\sqrt{2}$; d $\sqrt{3}$.

8. La funzione f , definita da $f(x) = |x| \sin x$, a ha una discontinuità eliminabile per $x = 0$;
 b è derivabile in $x = 0$; c è continua ma non derivabile in $x = 0$; d è discontinua ma limitata in un intorno di $x = 0$.

ANALISI MATEMATICA 1 - Primo appello		23 gennaio 2012
Cognome:	Nome:	Matricola:
Corso di laurea:		 Test Es1 Es2 Es3

- Una ed una sola delle quattro affermazioni è corretta. Indicarla con una croce.
- Per annullare una risposta ritenuta errata racchiuderla in un cerchio.
- Risposta corretta: +1.5. Risposta errata: -0.25.

1. Sia $g : \mathbf{R} \rightarrow \mathbf{R}$ una funzione derivabile con derivata continua, tale che $g(1) = 0$. Allora

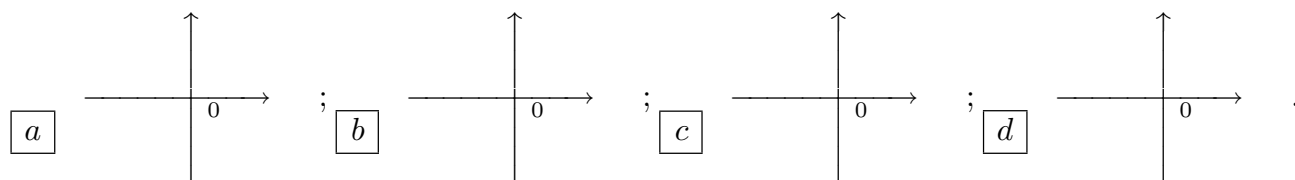
$$\int_0^1 \frac{g(x)}{(x+1)^2} dx = \boxed{a} g(0) + \int_0^1 \frac{g'(x)}{(x+1)} dx \quad ; \quad \boxed{b} g(0) - \int_0^1 \frac{g'(x)}{(x+1)} dx \quad ; \quad \boxed{c} g'(0) - \int_0^1 \frac{g(x)}{(x+1)} dx \quad ; \quad \boxed{d} g'(0) - \int_0^1 \frac{g'(x)}{(x+1)} dx \quad .$$

2. $\sum_{n=1}^{+\infty} \frac{1}{(n+3)(n+2)} = \boxed{a} 1; \boxed{b} \frac{1}{2}; \boxed{c} \frac{1}{3}; \boxed{d} \frac{1}{4}.$

3. $\lim_{n \rightarrow +\infty} \frac{(n+4)!}{(n+2)!} \log\left(\frac{n^2}{n^2-2}\right) = \boxed{a} 1; \boxed{b} 2; \boxed{c} \frac{1}{2}; \boxed{d} +\infty.$

4. Se $y(x)$ è la soluzione del problema di Cauchy $\begin{cases} y' = y^{-1} \sin(2x) \\ y(0) = 1 \end{cases}$. Allora $y(\frac{\pi}{4}) = \boxed{a} \sqrt{5}; \boxed{b} \sqrt{2}; \boxed{c} \sqrt{3}; \boxed{d} 1.$

5. Vicino all'origine il grafico del polinomio di Taylor di secondo grado e centro $x_0 = 0$ di $f(x) = \log(1 + \sin(2x))$ è:



6. $f : \mathbf{R} \rightarrow \mathbf{R}$ è continua e $\lim_{x \rightarrow +\infty} f(x) = \lim_{x \rightarrow -\infty} f(x) = +\infty$. Allora è sempre vero che: $\boxed{a} f$ ha minimo in \mathbf{R} ; $\boxed{b} f$ è convessa in \mathbf{R} ; $\boxed{c} \int_0^{+\infty} \frac{1}{[f(x)]^2 + 1} dx$ è convergente; $\boxed{d} f$ è crescente per x grande .

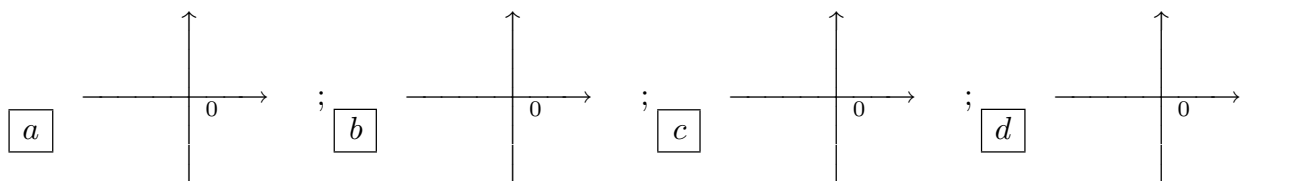
7. La funzione f , definita da $f(x) = \frac{e^x - 1}{|x|}$ per $x \neq 0$ e $f(0) = 0$, \boxed{a} è derivabile in $x = 0$; \boxed{b} è continua ma non derivabile in $x = 0$; \boxed{c} è discontinua ma limitata in un intorno di $x = 0$; \boxed{d} ha una discontinuità eliminabile per $x = 0$.

8. Sia $z = x + iy \in \mathbf{C}$. L'insieme $\{z \in \mathbf{C} : |-z - \sqrt{2}| \leq |-z + \sqrt{2}|\}$ è: $\boxed{a} \{z \in \mathbf{C} : x \leq 0\}$; $\boxed{b} \{z \in \mathbf{C} : x \leq 1/2\}$; $\boxed{c} \{z \in \mathbf{C} : x \geq 0\}$; $\boxed{d} \{z \in \mathbf{C} : x \geq 1/2\}$.

ANALISI MATEMATICA 1 - Primo appello		23 gennaio 2012								
Cognome:	Nome:	Matricola:								
Corso di laurea:		<table style="margin: auto; border-collapse: collapse;"> <tr> <td style="border: 1px solid black; width: 20px; height: 20px;"></td> <td style="border: 1px solid black; width: 20px; height: 20px;"></td> <td style="border: 1px solid black; width: 20px; height: 20px;"></td> <td style="border: 1px solid black; width: 20px; height: 20px;"></td> </tr> <tr> <td style="text-align: center;">Test</td> <td style="text-align: center;">Es1</td> <td style="text-align: center;">Es2</td> <td style="text-align: center;">Es3</td> </tr> </table>					Test	Es1	Es2	Es3
Test	Es1	Es2	Es3							

- Una ed una sola delle quattro affermazioni è corretta. Indicarla con una croce.
- Per annullare una risposta ritenuta errata racchiuderla in un cerchio.
- Risposta corretta: +1.5. Risposta errata: -0.25.

- $f : \mathbf{R} \rightarrow \mathbf{R}$ è continua e $\lim_{x \rightarrow +\infty} f(x) = \lim_{x \rightarrow -\infty} f(x) = -\infty$. Allora è sempre vero che: a f è concava in \mathbf{R} ; b $\int_0^{+\infty} \frac{1}{[f(x)]^2 + 1} dx$ è convergente; c f è decrescente per x grande; d f ha massimo in \mathbf{R} .
- $\lim_{n \rightarrow +\infty} \frac{(n+3)!}{n!} \log\left(\frac{n^2}{n^2-1}\right) =$ a 2; b $\frac{1}{2}$; c $+\infty$; d 1.
- Se $y(x)$ è la soluzione del problema di Cauchy $\begin{cases} y' = y^{-1} \cos(2x) \\ y(0) = 1 \end{cases}$. Allora $y(\frac{\pi}{2}) =$ a $\sqrt{2}$; b $\sqrt{3}$; c 1; d $\sqrt{5}$.
- La funzione f , definita da $f(x) = \frac{\sin x}{|x|}$ per $x \neq 0$ e $f(0) = 0$, a è continua ma non derivabile in $x = 0$; b è discontinua ma limitata in un intorno di $x = 0$; c ha una discontinuità eliminabile per $x = 0$; d è derivabile in $x = 0$.
- Sia $g : \mathbf{R} \rightarrow \mathbf{R}$ una funzione derivabile con derivata continua, tale che $g(0) = 0$. Allora $\int_0^1 \frac{g(x)}{(2-x)^2} dx =$ a $g(1) + \int_0^1 \frac{g'(x)}{(2-x)} dx$; b $g'(1) + \int_0^1 \frac{g(x)}{(2-x)} dx$; c $g'(1) + \int_0^1 \frac{g'(x)}{(2-x)} dx$; d $g(1) - \int_0^1 \frac{g'(x)}{(2-x)} dx$.
- $\sum_{n=1}^{+\infty} \frac{1}{(n+3)(n+4)} =$ a $\frac{1}{2}$; b $\frac{1}{3}$; c $\frac{1}{4}$; d 1.
- Sia $z = x + iy \in \mathbf{C}$. L'insieme $\{z \in \mathbf{C} : |\bar{z} - 2| \leq |z + 1|\}$ è: a $\{z \in \mathbf{C} : x \leq 1/2\}$; b $\{z \in \mathbf{C} : x \geq 0\}$; c $\{z \in \mathbf{C} : x \geq 1/2\}$; d $\{z \in \mathbf{C} : x \leq 0\}$.
- Vicino all'origine il grafico del polinomio di Taylor di secondo grado e centro $x_0 = 0$ di $f(x) = \log(1 - \sin(3x))$ è:



ANALISI MATEMATICA 1 - Primo appello		23 gennaio 2012								
Cognome:	Nome:	Matricola:								
Corso di laurea:		<table style="margin: auto; border-collapse: collapse;"> <tr> <td style="border: 1px solid black; padding: 2px;"> </td> <td style="border: 1px solid black; padding: 2px;"> </td> <td style="border: 1px solid black; padding: 2px;"> </td> <td style="border: 1px solid black; padding: 2px;"> </td> </tr> <tr> <td style="border: 1px solid black; padding: 2px;">Test</td> <td style="border: 1px solid black; padding: 2px;">Es1</td> <td style="border: 1px solid black; padding: 2px;">Es2</td> <td style="border: 1px solid black; padding: 2px;">Es3</td> </tr> </table>					Test	Es1	Es2	Es3
Test	Es1	Es2	Es3							

- Una ed una sola delle quattro affermazioni è corretta. Indicarla con una croce.
- Per annullare una risposta ritenuta errata racchiuderla in un cerchio.
- Risposta corretta: +1.5. Risposta errata: -0.25.

1. $\sum_{n=1}^{+\infty} \frac{1}{(n+3)(n+2)} = \boxed{a} \frac{1}{3}; \boxed{b} \frac{1}{4}; \boxed{c} 1; \boxed{d} \frac{1}{2}.$

2. Se $y(x)$ è la soluzione del problema di Cauchy $\begin{cases} y' = y^{-1} \cos x \\ y(0) = 1 \end{cases}$. Allora $y(\frac{\pi}{2}) = \boxed{a} \sqrt{3};$
 $\boxed{b} 1; \boxed{c} \sqrt{5}; \boxed{d} \sqrt{2}.$

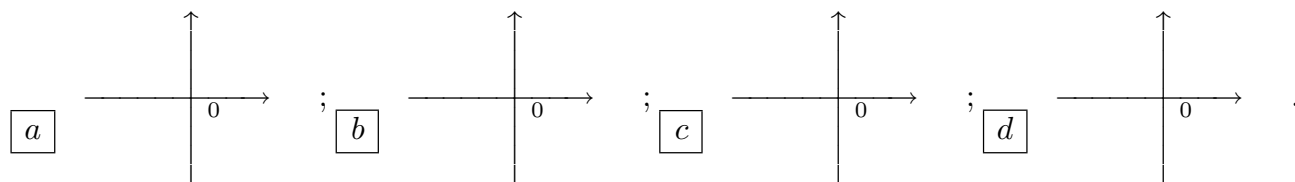
3. La funzione f , definita da $f(x) = |x|(e^x - 1)$, \boxed{a} è discontinua ma limitata in un intorno di $x = 0$; \boxed{b} ha una discontinuità eliminabile per $x = 0$; \boxed{c} è derivabile in $x = 0$; \boxed{d} è continua ma non derivabile in $x = 0$.

4. Sia $z = x + iy \in \mathbf{C}$. L'insieme $\{z \in \mathbf{C} : |\sqrt{2}z - 1| \geq |\sqrt{2}z + 1|\}$ è: $\boxed{a} \{z \in \mathbf{C} : x \geq 0\};$
 $\boxed{b} \{z \in \mathbf{C} : x \geq 1/2\}; \boxed{c} \{z \in \mathbf{C} : x \leq 0\}; \boxed{d} \{z \in \mathbf{C} : x \leq 1/2\}.$

5. $f : \mathbf{R} \rightarrow \mathbf{R}$ è continua e $\lim_{x \rightarrow +\infty} f(x) = \lim_{x \rightarrow -\infty} f(x) = +\infty$. Allora è sempre vero che:
 $\boxed{a} \int_0^{+\infty} \frac{1}{[f(x)]^2 + 1} dx$ è convergente; $\boxed{b} f$ è crescente per x grande; $\boxed{c} f$ ha minimo in \mathbf{R} ; $\boxed{d} f$ è convessa in \mathbf{R} .

6. $\lim_{n \rightarrow +\infty} \frac{(n+2)!}{n!} \log\left(\frac{2n^2}{2n^2-1}\right) = \boxed{a} \frac{1}{2}; \boxed{b} +\infty; \boxed{c} 1; \boxed{d} 2.$

7. Vicino all'origine il grafico del polinomio di Taylor di secondo grado e centro $x_0 = 0$ di $f(x) = \log(1 + 3 \sin x)$ è:



8. Sia $g : \mathbf{R} \rightarrow \mathbf{R}$ una funzione derivabile con derivata continua, tale che $g(1) = 0$. Allora $\int_0^1 \frac{g(x)}{x+1} dx = \boxed{a} - \int_0^1 g(x) \log(x+1) dx$; $\boxed{b} \int_0^1 g(x) \log(x+1) dx$;
 $\boxed{c} - \int_0^1 g'(x) \log(x+1) dx$; $\boxed{d} \int_0^1 g'(x) \log(x+1) dx$.

ANALISI MATEMATICA 1 - Primo appello		23 gennaio 2012								
Cognome:	Nome:	Matricola:								
Corso di laurea:		<table border="1" style="margin: auto;"> <tr> <td style="width: 20px; height: 20px;"></td> <td style="width: 20px; height: 20px;"></td> <td style="width: 20px; height: 20px;"></td> <td style="width: 20px; height: 20px;"></td> </tr> <tr> <td style="text-align: center;">Test</td> <td style="text-align: center;">Es1</td> <td style="text-align: center;">Es2</td> <td style="text-align: center;">Es3</td> </tr> </table>					Test	Es1	Es2	Es3
Test	Es1	Es2	Es3							

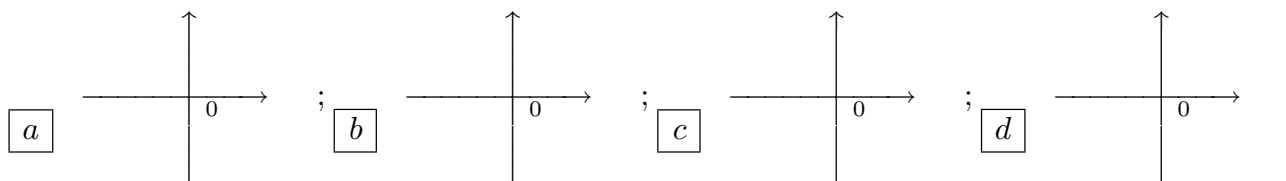
- Una ed una sola delle quattro affermazioni è corretta. Indicarla con una croce.
- Per annullare una risposta ritenuta errata racchiuderla in un cerchio.
- Risposta corretta: +1.5. Risposta errata: -0.25.

1. $\lim_{n \rightarrow +\infty} \frac{(n+3)!}{(n+1)!} \log\left(\frac{n^2}{n^2-1}\right) = \boxed{a} +\infty; \boxed{b} 1; \boxed{c} 2; \boxed{d} \frac{1}{2}.$

2. La funzione f , definita da $f(x) = |x| \sin x$, \boxed{a} ha una discontinuità eliminabile per $x = 0$; \boxed{b} è derivabile in $x = 0$; \boxed{c} è continua ma non derivabile in $x = 0$; \boxed{d} è discontinua ma limitata in un intorno di $x = 0$.

3. Sia $z = x + iy \in \mathbf{C}$. L'insieme $\{z \in \mathbf{C} : |z-2| \geq |z+1|\}$ è: $\boxed{a} \{z \in \mathbf{C} : x \geq 1/2\}$; $\boxed{b} \{z \in \mathbf{C} : x \leq 0\}$; $\boxed{c} \{z \in \mathbf{C} : x \leq 1/2\}$; $\boxed{d} \{z \in \mathbf{C} : x \geq 0\}$.

4. Vicino all'origine il grafico del polinomio di Taylor di secondo grado e centro $x_0 = 0$ di $f(x) = \log(1 - 2 \sin x)$ è:



5. $\sum_{n=1}^{+\infty} \frac{1}{(n+3)(n+4)} = \boxed{a} \frac{1}{4}; \boxed{b} 1; \boxed{c} \frac{1}{2}; \boxed{d} \frac{1}{3}.$

6. Se $y(x)$ è la soluzione del problema di Cauchy $\begin{cases} y' = y^{-1} \sin(2x) \\ y(0) = 1 \end{cases}$. Allora $y(\frac{\pi}{4}) = \boxed{a} 1$; $\boxed{b} \sqrt{5}$; $\boxed{c} \sqrt{2}$; $\boxed{d} \sqrt{3}$.

7. Sia $g : \mathbf{R} \rightarrow \mathbf{R}$ una funzione derivabile con derivata continua, tale che $g(0) = 0$. Allora $\int_0^1 \frac{g(x)}{2-x} dx = \boxed{a} \int_0^1 g(x) \log(2-x) dx$; $\boxed{b} - \int_0^1 g'(x) \log(2-x) dx$; $\boxed{c} \int_0^1 g'(x) \log(2-x) dx$; $\boxed{d} - \int_0^1 g(x) \log(2-x) dx$.

8. $f : \mathbf{R} \rightarrow \mathbf{R}$ è continua e $\lim_{x \rightarrow +\infty} f(x) = \lim_{x \rightarrow -\infty} f(x) = -\infty$. Allora è sempre vero che: $\boxed{a} f$ è decrescente per x grande ; $\boxed{b} f$ ha massimo in \mathbf{R} ; $\boxed{c} f$ è concava in \mathbf{R} ; $\boxed{d} \int_0^{+\infty} \frac{1}{[f(x)]^2 + 1} dx$ è convergente.

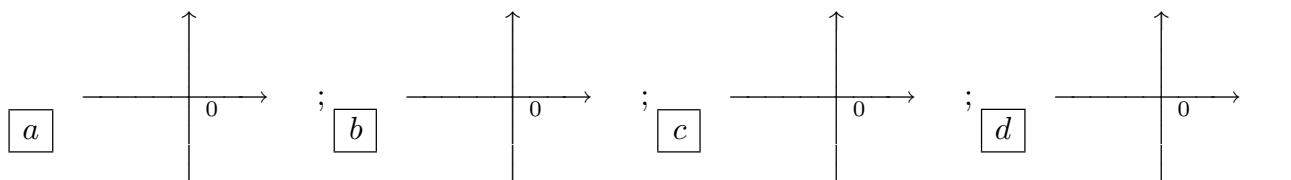
ANALISI MATEMATICA 1 - Primo appello		23 gennaio 2012								
Cognome:	Nome:	Matricola:								
Corso di laurea:		<table style="margin-left: auto; margin-right: auto;"> <tr> <td style="border: none;"> </td> <td style="border: none;"> </td> <td style="border: none;"> </td> <td style="border: none;"> </td> </tr> <tr> <td style="border: none;">Test</td> <td style="border: none;"> Es1</td> <td style="border: none;"> Es2</td> <td style="border: none;"> Es3</td> </tr> </table>					Test	Es1	Es2	Es3
Test	Es1	Es2	Es3							

- Una ed una sola delle quattro affermazioni è corretta. Indicarla con una croce.
- Per annullare una risposta ritenuta errata racchiuderla in un cerchio.
- Risposta corretta: +1.5. Risposta errata: -0.25.

1. Se $y(x)$ è la soluzione del problema di Cauchy $\begin{cases} y' = y^{-1} \sin x \\ y(0) = 1 \end{cases}$. Allora $y(\pi) = \boxed{a} \sqrt{5}$;
 $\boxed{b} \sqrt{2}$; $\boxed{c} \sqrt{3}$; $\boxed{d} 1$.

2. Sia $z = x + iy \in \mathbf{C}$. L'insieme $\{z \in \mathbf{C} : |-z - \sqrt{2}| \leq |-z + \sqrt{2}|\}$ è: $\boxed{a} \{z \in \mathbf{C} : x \leq 0\}$;
 $\boxed{b} \{z \in \mathbf{C} : x \leq 1/2\}$; $\boxed{c} \{z \in \mathbf{C} : x \geq 0\}$; $\boxed{d} \{z \in \mathbf{C} : x \geq 1/2\}$.

3. Vicino all'origine il grafico del polinomio di Taylor di secondo grado e centro $x_0 = 0$ di $f(x) = \log(1 + \sin(2x))$ è:



4. Sia $g : \mathbf{R} \rightarrow \mathbf{R}$ una funzione derivabile con derivata continua, tale che $g(1) = 0$. Allora
 $\int_0^1 \frac{g(x)}{(x+1)^2} dx = \boxed{a} g(0) + \int_0^1 \frac{g'(x)}{(x+1)} dx$; $\boxed{b} g(0) - \int_0^1 \frac{g'(x)}{(x+1)} dx$; $\boxed{c} g'(0) - \int_0^1 \frac{g(x)}{(x+1)} dx$; $\boxed{d} g'(0) - \int_0^1 \frac{g'(x)}{(x+1)} dx$.

5. $\lim_{n \rightarrow +\infty} \frac{(n+4)!}{(n+2)!} \log\left(\frac{n^2}{n^2-1}\right) = \boxed{a} 1$; $\boxed{b} 2$; $\boxed{c} \frac{1}{2}$; $\boxed{d} +\infty$.

6. La funzione f , definita da $f(x) = \frac{e^x - 1}{|x|}$ per $x \neq 0$ e $f(0) = 0$, \boxed{a} è derivabile in $x = 0$;
 \boxed{b} è continua ma non derivabile in $x = 0$; \boxed{c} è discontinua ma limitata in un intorno di $x = 0$; \boxed{d} ha una discontinuità eliminabile per $x = 0$.

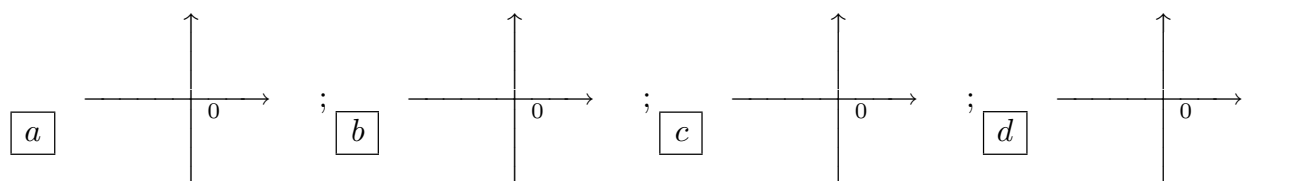
7. $f : \mathbf{R} \rightarrow \mathbf{R}$ è continua e $\lim_{x \rightarrow +\infty} f(x) = \lim_{x \rightarrow -\infty} f(x) = +\infty$. Allora è sempre vero che: \boxed{a} f
ha minimo in \mathbf{R} ; \boxed{b} f è convessa in \mathbf{R} ; \boxed{c} $\int_0^{+\infty} \frac{1}{[f(x)]^2 + 1} dx$ è convergente; \boxed{d} f è
crescente per x grande .

8. $\sum_{n=1}^{+\infty} \frac{1}{(n+3)(n+2)} = \boxed{a} 1$; $\boxed{b} \frac{1}{2}$; $\boxed{c} \frac{1}{3}$; $\boxed{d} \frac{1}{4}$.

ANALISI MATEMATICA 1 - Primo appello		23 gennaio 2012								
Cognome:	Nome:	Matricola:								
Corso di laurea:		<table style="margin: auto; border-collapse: collapse;"> <tr> <td style="border: 1px solid black; padding: 2px;"> </td> <td style="border: 1px solid black; padding: 2px;"> </td> <td style="border: 1px solid black; padding: 2px;"> </td> <td style="border: 1px solid black; padding: 2px;"> </td> </tr> <tr> <td style="padding: 2px;">Test</td> <td style="padding: 2px;"> Es1</td> <td style="padding: 2px;"> Es2</td> <td style="padding: 2px;"> Es3</td> </tr> </table>					Test	Es1	Es2	Es3
Test	Es1	Es2	Es3							

- Una ed una sola delle quattro affermazioni è corretta. Indicarla con una croce.
- Per annullare una risposta ritenuta errata racchiuderla in un cerchio.
- Risposta corretta: +1.5. Risposta errata: -0.25.

1. La funzione f , definita da $f(x) = \frac{\sin x}{|x|}$ per $x \neq 0$ e $f(0) = 0$, a è continua ma non derivabile in $x = 0$; b è discontinua ma limitata in un intorno di $x = 0$; c ha una discontinuità eliminabile per $x = 0$; d è derivabile in $x = 0$.
2. Vicino all'origine il grafico del polinomio di Taylor di secondo grado e centro $x_0 = 0$ di $f(x) = \log(1 - \sin(3x))$ è:



3. Sia $g : \mathbf{R} \rightarrow \mathbf{R}$ una funzione derivabile con derivata continua, tale che $g(0) = 0$. Allora $\int_0^1 \frac{g(x)}{(2-x)^2} dx =$ a $g(1) + \int_0^1 \frac{g'(x)}{(2-x)} dx$; b $g'(1) + \int_0^1 \frac{g(x)}{(2-x)} dx$; c $g'(1) + \int_0^1 \frac{g'(x)}{(2-x)} dx$; d $g(1) - \int_0^1 \frac{g'(x)}{(2-x)} dx$.
4. $f : \mathbf{R} \rightarrow \mathbf{R}$ è continua e $\lim_{x \rightarrow +\infty} f(x) = \lim_{x \rightarrow -\infty} f(x) = -\infty$. Allora è sempre vero che: a f è concava in \mathbf{R} ; b $\int_0^{+\infty} \frac{1}{[f(x)]^2 + 1} dx$ è convergente; c f è decrescente per x grande ; d f ha massimo in \mathbf{R} .
5. Se $y(x)$ è la soluzione del problema di Cauchy $\begin{cases} y' = y^{-1} \cos(2x) \\ y(0) = 1 \end{cases}$. Allora $y(\frac{\pi}{2}) =$ a $\sqrt{2}$; b $\sqrt{3}$; c 1; d $\sqrt{5}$.
6. Sia $z = x + iy \in \mathbf{C}$. L'insieme $\{z \in \mathbf{C} : |\bar{z} - 2| \leq |z + 1|\}$ è: a $\{z \in \mathbf{C} : x \leq 1/2\}$; b $\{z \in \mathbf{C} : x \geq 0\}$; c $\{z \in \mathbf{C} : x \geq 1/2\}$; d $\{z \in \mathbf{C} : x \leq 0\}$.
7. $\sum_{n=1}^{+\infty} \frac{1}{(n+3)(n+4)} =$ a $\frac{1}{2}$; b $\frac{1}{3}$; c $\frac{1}{4}$; d 1.
8. $\lim_{n \rightarrow +\infty} \frac{(n+3)!}{n!} \log\left(\frac{n^2}{n^2-3}\right) =$ a 2; b $\frac{1}{2}$; c $+\infty$; d 1.