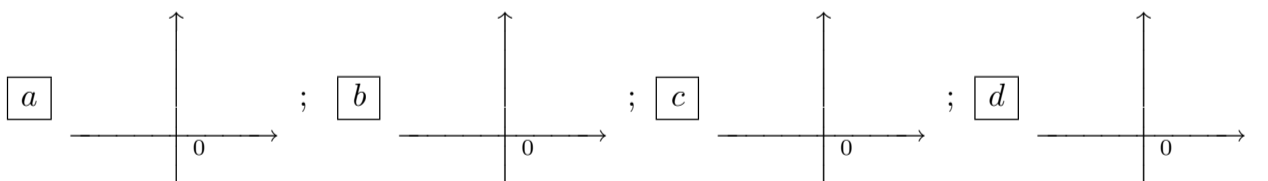


ANALISI MATEMATICA 1		8 gennaio 2010
Cognome:	Nome:	Matricola:

- Una ed una sola delle quattro affermazioni è corretta. Indicarla con una croce.
- Per annullare una risposta ritenuta errata racchiuderla in un cerchio.
- Risposta corretta: +1.5. Risposta errata: -0.25.

1. Siano $a_n > 0$ per ogni $n \geq 0$ e $\lim_{n \rightarrow \infty} \left(\frac{a_n}{a_{n+1}} \right)^{1/n} = \frac{1}{2}$. Allora è necessariamente vero che $\sum_{n=0}^{\infty} a_n$ a è divergente positivamente; b è divergente negativamente; c è convergente; d non è convergente né divergente.
2. Lo sviluppo in serie nell'intervallo $(-1, 1)$ e con centro in 0 della funzione $\frac{x^2}{1-x^2}$ è: a $\sum_{k=1}^{\infty} x^k$; b $\sum_{k=2}^{\infty} x^k$; c $\sum_{k=0}^{\infty} x^{2k+1}$; d $\sum_{k=1}^{\infty} x^{2k}$.
3. $\lim_{x \rightarrow 2} \frac{1}{x-2} \int_{x^2}^4 \frac{dt}{\sin t} =$ a $\frac{-4}{\cos 4}$; b $\frac{4}{\cos 4}$; c $\frac{-4}{\sin 4}$; d $\frac{4}{\sin 4}$.
4. Se $\int_0^2 f(x) dx = \int_0^3 g(x) dx$, allora esistono due numeri $x_1, x_2 \in [0, 3]$ tali che a $\frac{1}{3}f(x_1) = \frac{1}{4}g(x_2)$; b $\frac{1}{4}f(x_1) = \frac{1}{3}g(x_2)$; c $\frac{1}{3}f(x_1) = \frac{1}{2}g(x_2)$; d $\frac{1}{2}f(x_1) = \frac{1}{3}g(x_2)$.
5. Per quali $\alpha \in \mathbf{R}$ le soluzioni di $y'' + (4 - \alpha^2)y = 0$ sono funzioni limitate? a $|\alpha| < 2$; b $|\alpha| > 2$; c per nessun valore di α ; d $|\alpha| = 2$.
6. Indicate quale grafico rappresenta la soluzione del problema di Cauchy

$$\begin{cases} y' = y + e^{ty} \\ y(0) = 1. \end{cases}$$



7. Per quali $\alpha \in \mathbf{R}$ l'integrale $\int_1^{+\infty} t^\alpha (1+t^2)^\alpha dt$ è convergente? a $\alpha < -1/3$; b $\alpha < -1/5$; c $\alpha < -1$; d $\alpha < -1/2$.

8.

$$\int_{-2}^{-1} \frac{f(x^2)}{x} dx =$$

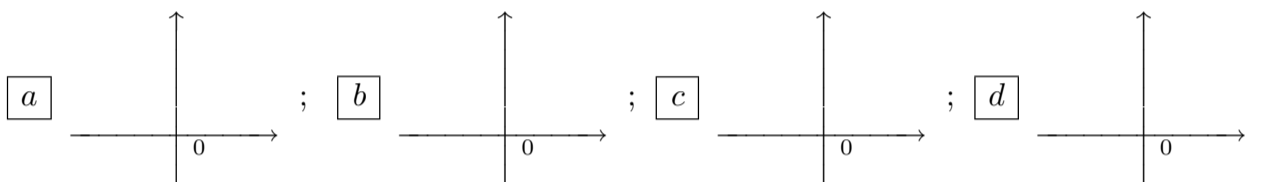
a $-\frac{1}{2} \int_1^4 \frac{f(t)}{t} dt$; b $-\frac{1}{4} \int_1^4 \frac{f(t)}{t^2} dt$; c $-\frac{1}{4} \int_1^4 \frac{f(t)}{t} dt$; d $-\frac{1}{2} \int_1^4 \frac{f(t)}{t^2} dt$.

ANALISI MATEMATICA 1		8 gennaio 2010
Cognome:	Nome:	Matricola:

- Una ed una sola delle quattro affermazioni è corretta. Indicarla con una croce.
- Per annullare una risposta ritenuta errata racchiuderla in un cerchio.
- Risposta corretta: +1.5. Risposta errata: -0.25.

1. Indicate quale grafico rappresenta la soluzione del problema di Cauchy

$$\begin{cases} y' = y + e^{-4ty} \\ y(0) = 1. \end{cases}$$



2. $\lim_{x \rightarrow -2} \frac{1}{x+2} \int_{x^2}^4 \frac{dt}{\sin t} =$ **a** $\frac{4}{\cos 4}$; **b** $\frac{-4}{\sin 4}$; **c** $\frac{4}{\sin 4}$; **d** $\frac{-4}{\cos 4}$.

3. Se $\int_0^3 f(x) dx = \int_0^2 g(x) dx$, allora esistono due numeri $x_1, x_2 \in [0, 3]$ tali che
 a $\frac{1}{4}f(x_1) = \frac{1}{3}g(x_2)$; **b** $\frac{1}{3}f(x_1) = \frac{1}{2}g(x_2)$; **c** $\frac{1}{2}f(x_1) = \frac{1}{3}g(x_2)$; **d** $\frac{1}{3}f(x_1) = \frac{1}{4}g(x_2)$.

4. Per quali $\alpha \in \mathbf{R}$ l'integrale $\int_1^{+\infty} t^\alpha (1+t^4)^\alpha dt$ è convergente?
 a $\alpha < -1/5$; **b** $\alpha < -1$; **c** $\alpha < -1/2$; **d** $\alpha < -1/3$.

5. Siano $a_n > 0$ per ogni $n \geq 0$ e $\lim_{n \rightarrow \infty} \left(\frac{a_n}{a_{n+1}} \right)^{1/n} = 2$. Allora è necessariamente vero che $\sum_{n=0}^{\infty} a_n$
 a è divergente negativamente; **b** è convergente; **c** non è convergente né divergente;
 d è divergente positivamente.

6. Lo sviluppo in serie nell'intervallo $(-1, 1)$ e con centro in 0 della funzione $\frac{x}{1-x^2}$ è:

a $\sum_{k=2}^{\infty} x^k$; **b** $\sum_{k=0}^{\infty} x^{2k+1}$; **c** $\sum_{k=1}^{\infty} x^{2k}$; **d** $\sum_{k=1}^{\infty} x^k$.

7.

$$\int_{-2}^{-1} \frac{f(x^2)}{2x} dx =$$

a $-\frac{1}{4} \int_1^4 \frac{f(t)}{t^2} dt$; **b** $-\frac{1}{4} \int_1^4 \frac{f(t)}{t} dt$; **c** $-\frac{1}{2} \int_1^4 \frac{f(t)}{t^2} dt$; **d** $-\frac{1}{2} \int_1^4 \frac{f(t)}{t} dt$.

8. Per quali $\alpha \in \mathbf{R}$ le soluzioni di $y'' - (4 - \alpha^2)y = 0$ sono funzioni limitate? **a** $|\alpha| > 2$;
 b per nessun valore di α ; **c** $|\alpha| = 2$; **d** $|\alpha| < 2$.

ANALISI MATEMATICA 1		8 gennaio 2010
Cognome:	Nome:	Matricola:

- Una ed una sola delle quattro affermazioni è corretta. Indicarla con una croce.
- Per annullare una risposta ritenuta errata racchiuderla in un cerchio.
- Risposta corretta: +1.5. Risposta errata: -0.25.

1. Lo sviluppo in serie nell'intervallo $(-1, 1)$ e con centro in 0 della funzione $\frac{x^2}{1-x}$ è:

a $\sum_{k=0}^{\infty} x^{2k+1}$; b $\sum_{k=1}^{\infty} x^{2k}$; c $\sum_{k=1}^{\infty} x^k$; d $\sum_{k=2}^{\infty} x^k$.

2. Se $\int_0^4 f(x) dx = \int_0^3 g(x) dx$, allora esistono due numeri $x_1, x_2 \in [0, 4]$ tali che
 a $\frac{1}{3}f(x_1) = \frac{1}{2}g(x_2)$; b $\frac{1}{2}f(x_1) = \frac{1}{3}g(x_2)$; c $\frac{1}{3}f(x_1) = \frac{1}{4}g(x_2)$; d $\frac{1}{4}f(x_1) = \frac{1}{3}g(x_2)$.

3. Per quali $\alpha \in \mathbf{R}$ l'integrale $\int_1^{+\infty} \frac{(1+t^2)^\alpha}{t^\alpha} dt$ è convergente?
 a $\alpha < -1$; b $\alpha < -1/2$; c $\alpha < -1/3$; d $\alpha < -1/5$.

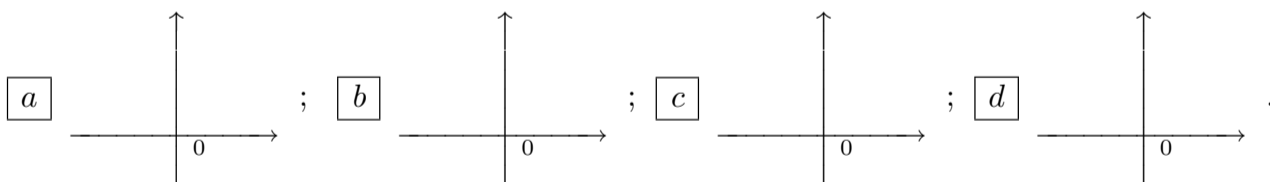
4.

$$\int_{-2}^{-1} \frac{f(x^2)}{x^3} dx =$$

a $-\frac{1}{4} \int_1^4 \frac{f(t)}{t} dt$; b $-\frac{1}{2} \int_1^4 \frac{f(t)}{t^2} dt$; c $-\frac{1}{2} \int_1^4 \frac{f(t)}{t} dt$; d $-\frac{1}{4} \int_1^4 \frac{f(t)}{t^2} dt$.

5. Indicate quale grafico rappresenta la soluzione del problema di Cauchy

$$\begin{cases} y' = y - e^{ty} \\ y(0) = 1. \end{cases}$$



6. $\lim_{x \rightarrow 2} \frac{1}{x-2} \int_{x^2}^4 \frac{dt}{\cos t} =$ a $\frac{-4}{\sin 4}$; b $\frac{4}{\sin 4}$; c $\frac{-4}{\cos 4}$; d $\frac{4}{\cos 4}$.

7. Per quali $\alpha \in \mathbf{R}$ le soluzioni di $y'' + (1 - \alpha^2)y = 0$ sono funzioni limitate? a per nessun valore di α ; b $|\alpha| = 1$; c $|\alpha| < 1$; d $|\alpha| > 1$.

8. Siano $a_n > 0$ per ogni $n \geq 0$ e $\lim_{n \rightarrow \infty} \left(\frac{a_n}{a_{n+1}} \right)^{1/n} = 0$. Allora è necessariamente vero che $\sum_{n=0}^{\infty} a_n$

a è convergente; b non è convergente né divergente; c è divergente positivamente; d è divergente negativamente.

ANALISI MATEMATICA 1		8 gennaio 2010
Cognome:	Nome:	Matricola:

- Una ed una sola delle quattro affermazioni è corretta. Indicarla con una croce.
- Per annullare una risposta ritenuta errata racchiuderla in un cerchio.
- Risposta corretta: +1.5. Risposta errata: -0.25.

1. $\lim_{x \rightarrow -2} \frac{1}{x+2} \int_{x^2}^4 \frac{dt}{\cos t} =$ a $\frac{4}{\sin 4}$; b $\frac{-4}{\cos 4}$; c $\frac{4}{\cos 4}$; d $\frac{-4}{\sin 4}$.

2. Per quali $\alpha \in \mathbf{R}$ l'integrale $\int_1^{+\infty} \frac{(1+t^4)^\alpha}{t^{2\alpha}} dt$ è convergente?
 a $\alpha < -1/2$; b $\alpha < -1/3$; c $\alpha < -1/5$; d $\alpha < -1$.

3.

$$\int_{-2}^{-1} \frac{f(x^2)}{2x^3} dx =$$

a $-\frac{1}{2} \int_1^4 \frac{f(t)}{t^2} dt$; b $-\frac{1}{2} \int_1^4 \frac{f(t)}{t} dt$; c $-\frac{1}{4} \int_1^4 \frac{f(t)}{t^2} dt$; d $-\frac{1}{4} \int_1^4 \frac{f(t)}{t} dt$.

4. Per quali $\alpha \in \mathbf{R}$ le soluzioni di $y'' - (1 - \alpha^2)y = 0$ sono funzioni limitate? a $|\alpha| = 1$;
 b $|\alpha| < 1$; c $|\alpha| > 1$; d per nessun valore di α .

5. Lo sviluppo in serie nell'intervallo $(-1, 1)$ e con centro in 0 della funzione $\frac{x}{1-x}$ è:

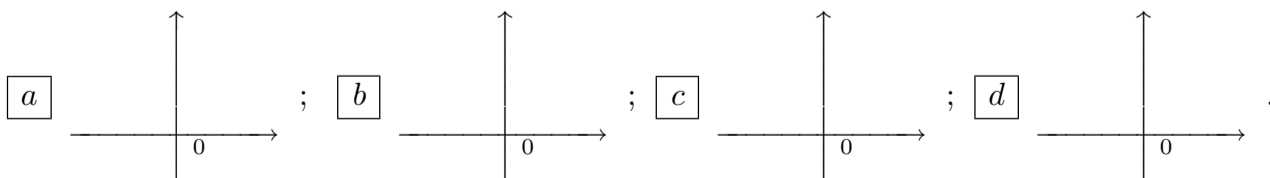
a $\sum_{k=1}^{\infty} x^{2k}$; b $\sum_{k=1}^{\infty} x^k$; c $\sum_{k=2}^{\infty} x^k$; d $\sum_{k=0}^{\infty} x^{2k+1}$.

6. Se $\int_0^3 f(x) dx = \int_0^4 g(x) dx$, allora esistono due numeri $x_1, x_2 \in [0, 4]$ tali che
 a $\frac{1}{2}f(x_1) = \frac{1}{3}g(x_2)$; b $\frac{1}{3}f(x_1) = \frac{1}{4}g(x_2)$; c $\frac{1}{4}f(x_1) = \frac{1}{3}g(x_2)$; d $\frac{1}{3}f(x_1) = \frac{1}{2}g(x_2)$.

7. Siano $a_n > 0$ per ogni $n \geq 0$ e $\lim_{n \rightarrow \infty} \left(\frac{a_n}{a_{n+1}} \right)^{1/n} = +\infty$. Allora è necessariamente vero che $\sum_{n=0}^{\infty} a_n$ a non è convergente né divergente; b è divergente positivamente; c è divergente negativamente; d è convergente.

8. Indicate quale grafico rappresenta la soluzione del problema di Cauchy

$$\begin{cases} y' = y - e^{-ty} \\ y(0) = 1. \end{cases}$$



ANALISI MATEMATICA 1		8 gennaio 2010
Cognome:	Nome:	Matricola:

- Una ed una sola delle quattro affermazioni è corretta. Indicarla con una croce.
- Per annullare una risposta ritenuta errata racchiuderla in un cerchio.
- Risposta corretta: +1.5. Risposta errata: -0.25.

1. Se $\int_0^4 f(x) dx = \int_0^3 g(x) dx$, allora esistono due numeri $x_1, x_2 \in [0, 4]$ tali che
 a $\frac{1}{3}f(x_1) = \frac{1}{4}g(x_2)$; b $\frac{1}{4}f(x_1) = \frac{1}{3}g(x_2)$; c $\frac{1}{3}f(x_1) = \frac{1}{2}g(x_2)$; d $\frac{1}{2}f(x_1) = \frac{1}{3}g(x_2)$.

2.

$$\int_{-2}^{-1} \frac{f(x^2)}{x} dx =$$

a $-\frac{1}{2} \int_1^4 \frac{f(t)}{t} dt$; b $-\frac{1}{4} \int_1^4 \frac{f(t)}{t^2} dt$; c $-\frac{1}{4} \int_1^4 \frac{f(t)}{t} dt$; d $-\frac{1}{2} \int_1^4 \frac{f(t)}{t^2} dt$.

3. Per quali $\alpha \in \mathbf{R}$ le soluzioni di $y'' + (4 - \alpha^2)y = 0$ sono funzioni limitate? a $|\alpha| < 2$;
 b $|\alpha| > 2$; c per nessun valore di α ; d $|\alpha| = 2$.

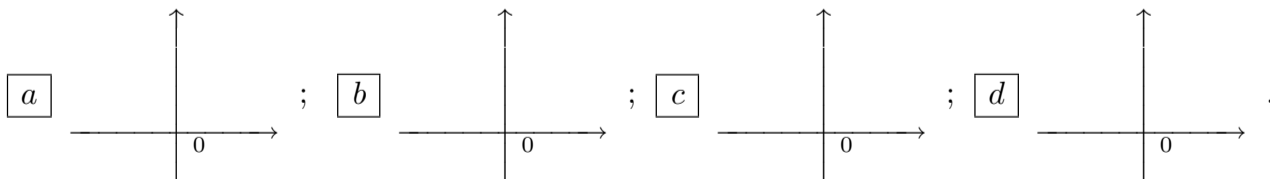
4. Siano $a_n > 0$ per ogni $n \geq 0$ e $\lim_{n \rightarrow \infty} \left(\frac{a_n}{a_{n+1}}\right)^{1/n} = 2$. Allora è necessariamente vero che
 $\sum_{n=0}^{\infty} a_n$ a è divergente positivamente; b è divergente negativamente; c è convergente;
 d non è convergente né divergente.

5. $\lim_{x \rightarrow 2} \frac{1}{x-2} \int_{x^2}^4 \frac{dt}{\sin t} =$ a $\frac{-4}{\cos 4}$; b $\frac{4}{\cos 4}$; c $\frac{-4}{\sin 4}$; d $\frac{4}{\sin 4}$.

6. Per quali $\alpha \in \mathbf{R}$ l'integrale $\int_1^{+\infty} t^\alpha (1+t^2)^\alpha dt$ è convergente?
 a $\alpha < -1/3$; b $\alpha < -1/5$; c $\alpha < -1$; d $\alpha < -1/2$.

7. Indicate quale grafico rappresenta la soluzione del problema di Cauchy

$$\begin{cases} y' = y + e^{ty} \\ y(0) = 1. \end{cases}$$



8. Lo sviluppo in serie nell'intervallo $(-1, 1)$ e con centro in 0 della funzione $\frac{x^2}{1-x^2}$ è:

a $\sum_{k=1}^{\infty} x^k$; b $\sum_{k=2}^{\infty} x^k$; c $\sum_{k=0}^{\infty} x^{2k+1}$; d $\sum_{k=1}^{\infty} x^{2k}$.

ANALISI MATEMATICA 1		8 gennaio 2010
Cognome:	Nome:	Matricola:

- Una ed una sola delle quattro affermazioni è corretta. Indicarla con una croce.
- Per annullare una risposta ritenuta errata racchiuderla in un cerchio.
- Risposta corretta: +1.5. Risposta errata: -0.25.

1. Per quali $\alpha \in \mathbf{R}$ l'integrale $\int_1^{+\infty} t^\alpha (1+t^4)^\alpha dt$ è convergente?

- a $\alpha < -1/5$; b $\alpha < -1$; c $\alpha < -1/2$; d $\alpha < -1/3$.

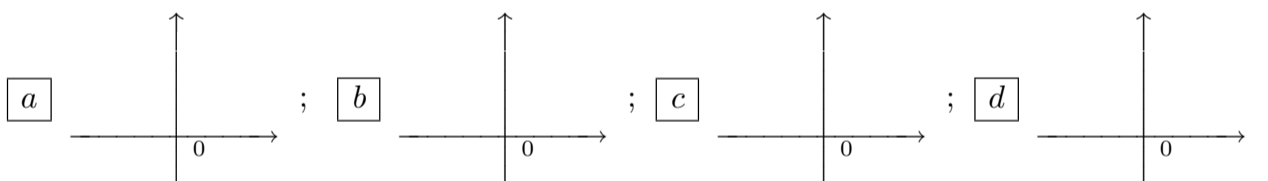
2. Per quali $\alpha \in \mathbf{R}$ le soluzioni di $y'' - (4 - \alpha^2)y = 0$ sono funzioni limitate? a $|\alpha| > 2$;
 b per nessun valore di α ; c $|\alpha| = 2$; d $|\alpha| < 2$.

3. Siano $a_n > 0$ per ogni $n \geq 0$ e $\lim_{n \rightarrow \infty} \left(\frac{a_n}{a_{n+1}} \right)^{1/n} = 0$. Allora è necessariamente vero che $\sum_{n=0}^{\infty} a_n$

- a è divergente negativamente; b è convergente; c non è convergente né divergente;
 d è divergente positivamente.

4. Indicate quale grafico rappresenta la soluzione del problema di Cauchy

$$\begin{cases} y' = y + e^{-4ty} \\ y(0) = 1. \end{cases}$$



5. Se $\int_0^2 f(x) dx = \int_0^3 g(x) dx$, allora esistono due numeri $x_1, x_2 \in [0, 3]$ tali che
 a $\frac{1}{4}f(x_1) = \frac{1}{3}g(x_2)$; b $\frac{1}{3}f(x_1) = \frac{1}{2}g(x_2)$; c $\frac{1}{2}f(x_1) = \frac{1}{3}g(x_2)$; d $\frac{1}{3}f(x_1) = \frac{1}{4}g(x_2)$.

6.

$$\int_{-2}^{-1} \frac{f(x^2)}{2x} dx =$$

- a $-\frac{1}{4} \int_1^4 \frac{f(t)}{t^2} dt$; b $-\frac{1}{4} \int_1^4 \frac{f(t)}{t} dt$; c $-\frac{1}{2} \int_1^4 \frac{f(t)}{t^2} dt$; d $-\frac{1}{2} \int_1^4 \frac{f(t)}{t} dt$.

7. Lo sviluppo in serie nell'intervallo $(-1, 1)$ e con centro in 0 della funzione $\frac{x}{1-x^2}$ è:

- a $\sum_{k=2}^{\infty} x^k$; b $\sum_{k=0}^{\infty} x^{2k+1}$; c $\sum_{k=1}^{\infty} x^{2k}$; d $\sum_{k=1}^{\infty} x^k$.

8. $\lim_{x \rightarrow -2} \frac{1}{x+2} \int_{x^2}^4 \frac{dt}{\sin t} =$ a $\frac{4}{\cos 4}$; b $\frac{-4}{\sin 4}$; c $\frac{4}{\sin 4}$; d $\frac{-4}{\cos 4}$.

ANALISI MATEMATICA 1		8 gennaio 2010
Cognome:	Nome:	Matricola:

- Una ed una sola delle quattro affermazioni è corretta. Indicarla con una croce.
- Per annullare una risposta ritenuta errata racchiuderla in un cerchio.
- Risposta corretta: +1.5. Risposta errata: -0.25.

1.

$$\int_{-2}^{-1} \frac{f(x^2)}{x^3} dx =$$

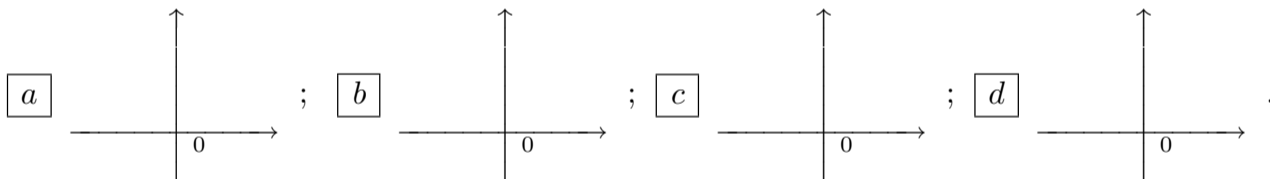
$$\boxed{a} \quad -\frac{1}{4} \int_1^4 \frac{f(t)}{t} dt; \quad \boxed{b} \quad -\frac{1}{2} \int_1^4 \frac{f(t)}{t^2} dt; \quad \boxed{c} \quad -\frac{1}{2} \int_1^4 \frac{f(t)}{t} dt; \quad \boxed{d} \quad -\frac{1}{4} \int_1^4 \frac{f(t)}{t^2} dt.$$

2. Siano $a_n > 0$ per ogni $n \geq 0$ e $\lim_{n \rightarrow \infty} \left(\frac{a_n}{a_{n+1}} \right)^{1/n} = \frac{1}{2}$. Allora è necessariamente vero che $\sum_{n=0}^{\infty} a_n$

\boxed{a} è convergente; \boxed{b} non è convergente né divergente; \boxed{c} è divergente positivamente; \boxed{d} è divergente negativamente.

3. Indicate quale grafico rappresenta la soluzione del problema di Cauchy

$$\begin{cases} y' = y - e^{ty} \\ y(0) = 1. \end{cases}$$



4. Lo sviluppo in serie nell'intervallo $(-1, 1)$ e con centro in 0 della funzione $\frac{x^2}{1-x}$ è:

$$\boxed{a} \quad \sum_{k=0}^{\infty} x^{2k+1}; \quad \boxed{b} \quad \sum_{k=1}^{\infty} x^{2k}; \quad \boxed{c} \quad \sum_{k=1}^{\infty} x^k; \quad \boxed{d} \quad \sum_{k=2}^{\infty} x^k.$$

5. Per quali $\alpha \in \mathbf{R}$ l'integrale $\int_1^{+\infty} \frac{(1+t^2)^\alpha}{t^\alpha} dt$ è convergente?

$$\boxed{a} \quad \alpha < -1; \quad \boxed{b} \quad \alpha < -1/2; \quad \boxed{c} \quad \alpha < -1/3; \quad \boxed{d} \quad \alpha < -1/5.$$

6. Per quali $\alpha \in \mathbf{R}$ le soluzioni di $y'' + (1 - \alpha^2)y = 0$ sono funzioni limitate? \boxed{a} per nessun valore di α ; \boxed{b} $|\alpha| = 1$; \boxed{c} $|\alpha| < 1$; \boxed{d} $|\alpha| > 1$.

$$7. \lim_{x \rightarrow 2} \frac{1}{x-2} \int_{x^2}^4 \frac{dt}{\cos t} = \boxed{a} \quad \frac{-4}{\sin 4}; \quad \boxed{b} \quad \frac{4}{\sin 4}; \quad \boxed{c} \quad \frac{-4}{\cos 4}; \quad \boxed{d} \quad \frac{4}{\cos 4}.$$

8. Se $\int_0^3 f(x) dx = \int_0^4 g(x) dx$, allora esistono due numeri $x_1, x_2 \in [0, 4]$ tali che

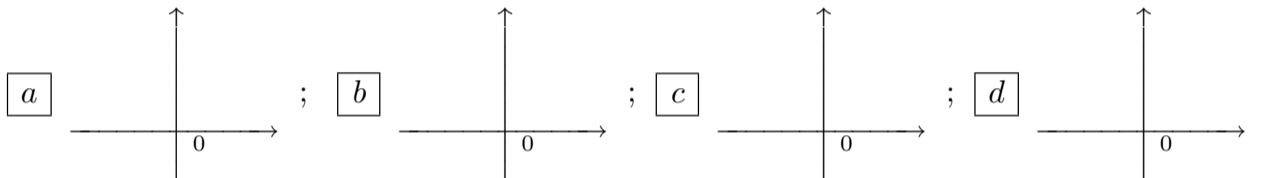
$$\boxed{a} \quad \frac{1}{3}f(x_1) = \frac{1}{2}g(x_2); \quad \boxed{b} \quad \frac{1}{2}f(x_1) = \frac{1}{3}g(x_2); \quad \boxed{c} \quad \frac{1}{3}f(x_1) = \frac{1}{4}g(x_2); \quad \boxed{d} \quad \frac{1}{4}f(x_1) = \frac{1}{3}g(x_2).$$

ANALISI MATEMATICA 1		8 gennaio 2010
Cognome:	Nome:	Matricola:

- Una ed una sola delle quattro affermazioni è corretta. Indicarla con una croce.
- Per annullare una risposta ritenuta errata racchiuderla in un cerchio.
- Risposta corretta: +1.5. Risposta errata: -0.25.

1. Per quali $\alpha \in \mathbf{R}$ le soluzioni di $y'' - (1 - \alpha^2)y = 0$ sono funzioni limitate? $|\alpha| = 1$; $|\alpha| < 1$; $|\alpha| > 1$; per nessun valore di α .
2. Indicate quale grafico rappresenta la soluzione del problema di Cauchy

$$\begin{cases} y' = y - e^{-ty} \\ y(0) = 1. \end{cases}$$



3. Lo sviluppo in serie nell'intervallo $(-1, 1)$ e con centro in 0 della funzione $\frac{x}{1-x}$ è:

$$\text{a) } \sum_{k=1}^{\infty} x^{2k}; \quad \text{b) } \sum_{k=1}^{\infty} x^k; \quad \text{c) } \sum_{k=2}^{\infty} x^k; \quad \text{d) } \sum_{k=0}^{\infty} x^{2k+1}.$$

4. $\lim_{x \rightarrow -2} \frac{1}{x+2} \int_{x^2}^4 \frac{dt}{\cos t} =$ $\frac{4}{\sin 4}$; $\frac{-4}{\cos 4}$; $\frac{4}{\cos 4}$; $\frac{-4}{\sin 4}$.

5.

$$\int_{-2}^{-1} \frac{f(x^2)}{2x^3} dx =$$

$$\text{a) } -\frac{1}{2} \int_1^4 \frac{f(t)}{t^2} dt; \quad \text{b) } -\frac{1}{2} \int_1^4 \frac{f(t)}{t} dt; \quad \text{c) } -\frac{1}{4} \int_1^4 \frac{f(t)}{t^2} dt; \quad \text{d) } -\frac{1}{4} \int_1^4 \frac{f(t)}{t} dt.$$

6. Siano $a_n > 0$ per ogni $n \geq 0$ e $\lim_{n \rightarrow \infty} \left(\frac{a_n}{a_{n+1}} \right)^{1/n} = +\infty$. Allora è necessariamente vero che $\sum_{n=0}^{\infty} a_n$ non è convergente né divergente; è divergente positivamente; è divergente negativamente; è convergente.

7. Se $\int_0^3 f(x) dx = \int_0^2 g(x) dx$, allora esistono due numeri $x_1, x_2 \in [0, 3]$ tali che $\frac{1}{2}f(x_1) = \frac{1}{3}g(x_2)$; $\frac{1}{3}f(x_1) = \frac{1}{4}g(x_2)$; $\frac{1}{4}f(x_1) = \frac{1}{3}g(x_2)$; $\frac{1}{3}f(x_1) = \frac{1}{2}g(x_2)$.

8. Per quali $\alpha \in \mathbf{R}$ l'integrale $\int_1^{+\infty} \frac{(1+t^4)^\alpha}{t^{2\alpha}} dt$ è convergente? $\alpha < -1/2$; $\alpha < -1/3$; $\alpha < -1/5$; $\alpha < -1$.