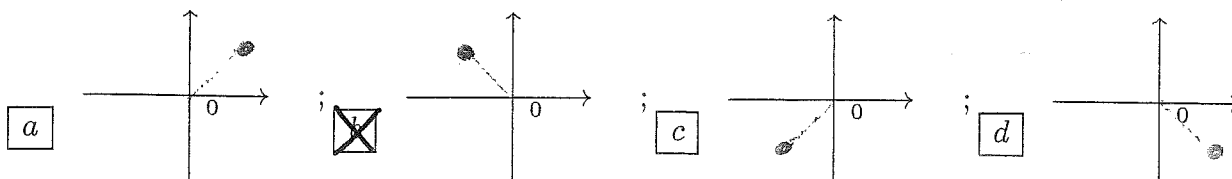


ANALISI MATEMATICA 1 - Quinto appello		10 settembre 2014	
Cognome:	Nome:	Matricola:	
Corso di laurea:		Test	Es1 Es2 Es3

- Una ed una sola delle quattro affermazioni è corretta. Indicarla con una croce.
- Per annullare una risposta ritenuta errata racchiuderla in un cerchio.
- Risposta corretta: +1.5. Risposta errata: -0.25.

1. Se $z = 1 - i$, allora z^5 è:



2. L'area compresa tra il grafico di $f(x) = 3 \sin x - \frac{3\sqrt{3}}{2}$ e l'asse delle ascisse, con $x \in [0, \pi/2]$, è:
 a $\frac{\sqrt{3}}{6}\pi$; b $2\sqrt{3} - 2 - \frac{\pi}{6}$; c $\frac{\sqrt{3}}{4}\pi$; d $3\sqrt{3} - 3 - \frac{\pi}{4}$.

3. Se $\lim_{x \rightarrow +\infty} f(x) = M > 0$ e $\lim_{x \rightarrow +\infty} g(x) = -\infty$, allora è vero che: a $\exists P > 0$ tale che $\forall Q > 0$ se $x > Q$ allora $f(x)g(x) < -P$; b $\forall P > 0 \exists Q > 0$ tale che se $x > Q$ allora $f(x)g(x) > P$; c $\forall P > 0 \exists Q > 0$ tale che se $x > Q$ allora $f(x)g(x) < -P$; d $\exists P > 0$ tale che $\forall Q > 0$ se $x > Q$ allora $f(x)g(x) > P$.

4. Sia $f(x) = x^4$ e $g(x) = \sin x$. Calcolare il valore della derivata di $f(g(x))$ in $x = \pi/4$.
 a -1; b $\frac{3\sqrt{2}}{4}$; c 1; d $-\frac{3\sqrt{2}}{4}$.

5. Il raggio di convergenza della serie di potenze $\sum_{n=0}^{\infty} \frac{3n-2}{4n^2+1} x^n$ è: a $\frac{1}{2}$; b 1; c $\frac{3}{4}$;
 d $\frac{2}{3}$.

6. Sia $f: \mathbf{R} \rightarrow \mathbf{R}$ una funzione strettamente concava, e sia $x_0 \in \mathbf{R}$ tale che f è derivabile in x_0 . Allora si può affermare con certezza che: a x_0 è un punto di massimo assoluto per f su \mathbf{R} ; b $(x - x_0)f'(x_0) + f(x_0) < f(x)$ per ogni $x \neq x_0$; c $f(x) < (x - x_0)f'(x_0) + f(x_0)$ per ogni $x \neq x_0$; d x_0 è un punto di minimo assoluto per f su \mathbf{R} .

7. $\lim_{x \rightarrow 0} \frac{x^6 + 3x^7}{\sin(x^6) - (1 - \cos x)^3} =$ a $-\frac{8}{7}$; b $\frac{7}{8}$; c $\frac{8}{7}$; d $-\frac{7}{8}$.

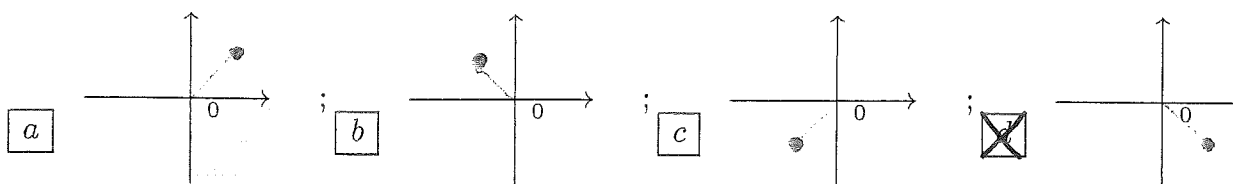
8. L'insieme dei valori $x \in \mathbf{R}$ per i quali la funzione $f(x) = \frac{1-3x}{2+x^2}$ è strettamente crescente è: a $-\frac{\sqrt{22}+2}{6} < x < \frac{\sqrt{22}-2}{6}$; b $-\frac{\sqrt{5}+1}{2} < x < \frac{\sqrt{5}-1}{2}$; c $x < \frac{1-\sqrt{19}}{3}, x > \frac{1+\sqrt{19}}{3}$;
 d $x < \frac{1-\sqrt{3}}{2}, x > \frac{1+\sqrt{3}}{2}$.

ANALISI MATEMATICA 1 - Quinto appello		10 settembre 2014			
Cognome:	Nome:	Matricola:			
Corso di laurea:		Test	Es1	Es2	Es3

- Una ed una sola delle quattro affermazioni è corretta. Indicarla con una croce.
- Per annullare una risposta ritenuta errata racchiuderla in un cerchio.
- Risposta corretta: +1.5. Risposta errata: -0.25.

1. L'insieme dei valori $x \in \mathbf{R}$ per i quali la funzione $f(x) = \frac{1+3x}{1+2x^2}$ è strettamente crescente è: a $x < \frac{1-\sqrt{19}}{3}, x > \frac{1+\sqrt{19}}{3}$; b $x < \frac{1-\sqrt{3}}{2}, x > \frac{1+\sqrt{3}}{2}$; c $-\frac{\sqrt{22}+2}{6} < x < \frac{\sqrt{22}-2}{6}$; d $-\frac{\sqrt{5}+1}{2} < x < \frac{\sqrt{5}-1}{2}$.

2. Se $z = -1 + i$, allora z^5 è:



3. Sia $f : \mathbf{R} \rightarrow \mathbf{R}$ una funzione strettamente concava, e sia $x_0 \in \mathbf{R}$ tale che f è derivabile in x_0 . Allora si può affermare con certezza che: a $f(x) < (x - x_0)f'(x_0) + f(x_0)$ per ogni $x \neq x_0$; b x_0 è un punto di minimo assoluto per f su \mathbf{R} ; c x_0 è un punto di massimo assoluto per f su \mathbf{R} ; d $(x - x_0)f'(x_0) + f(x_0) < f(x)$ per ogni $x \neq x_0$.

4. L'area compresa tra il grafico di $f(x) = 2 \cos x - \sqrt{3}$ e l'asse delle ascisse, con $x \in [0, \pi/2]$, è: a $\frac{\sqrt{3}}{4}\pi$; b $3\sqrt{3} - 3 - \frac{\pi}{4}$; c $\frac{\sqrt{3}}{6}\pi$; d $2\sqrt{3} - 2 - \frac{\pi}{6}$.

5. $\lim_{x \rightarrow 0} \frac{(1 - \cos x)^3 - \sin(x^6)}{x^6 + 3x^7} =$ a $\frac{8}{7}$; b $-\frac{7}{8}$; c $-\frac{8}{7}$; d $\frac{7}{8}$.

6. Il raggio di convergenza della serie di potenze $\sum_{n=0}^{\infty} \frac{2(n+1)!}{4n! + n + 1} x^n$ è: a $\frac{3}{4}$; b $\frac{2}{3}$; c $\frac{1}{2}$; d 1.

7. Se $\lim_{x \rightarrow +\infty} f(x) = L > 0$ e $\lim_{x \rightarrow +\infty} g(x) = +\infty$, allora è vero che: a $\forall P > 0 \exists Q > 0$ tale che se $x > Q$ allora $f(x)g(x) < -P$; b $\exists P > 0$ tale che $\forall Q > 0$ se $x > Q$ allora $f(x)g(x) > P$; c $\exists P > 0$ tale che $\forall Q > 0$ se $x > Q$ allora $f(x)g(x) < -P$; d $\forall P > 0 \exists Q > 0$ tale che se $x > Q$ allora $f(x)g(x) > P$.

8. Sia $f(x) = x^3$ e $g(x) = \sin x$. Calcolare il valore della derivata di $f(g(x))$ in $x = \pi/4$. a 1; b $-\frac{3\sqrt{2}}{4}$; c -1; d $\frac{3\sqrt{2}}{4}$.

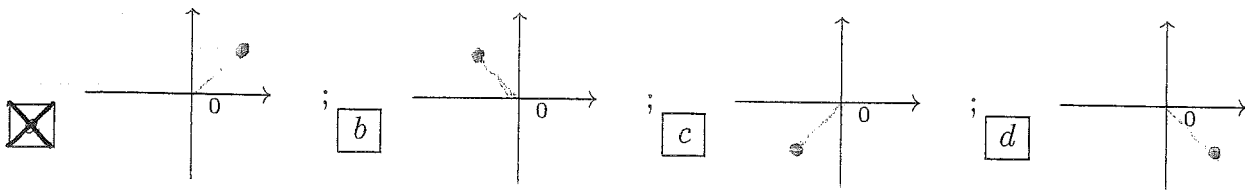
ANALISI MATEMATICA 1 - Quinto appello		10 settembre 2014			
Cognome:	Nome:	Matricola:			
Corso di laurea:		Test	Es1	Es2	Es3

- Una ed una sola delle quattro affermazioni è corretta. Indicarla con una croce.
- Per annullare una risposta ritenuta errata racchiuderla in un cerchio.
- Risposta corretta: +1.5. Risposta errata: -0.25.

1. $\lim_{x \rightarrow 0} \frac{x^6 + 3x^7}{(1 - \cos x)^3 - \sin(x^6)} =$ a $\frac{7}{8}$; b $\frac{8}{7}$; c $-\frac{7}{8}$; $-\frac{8}{7}$.

2. Il raggio di convergenza della serie di potenze $\sum_{n=0}^{\infty} \frac{2n^2 - 1}{3n + 2} x^n$ è: a 1; b $\frac{3}{4}$; c $\frac{2}{3}$; d $\frac{1}{2}$.

3. Se $z = -1 - i$, allora z^5 è:



4. Sia $f: \mathbf{R} \rightarrow \mathbf{R}$ una funzione convessa, e sia $x_0 \in \mathbf{R}$ tale che f è derivabile in x_0 e $f'(x_0) = 0$. Allora si può affermare con certezza che: a $(x - x_0)f'(x_0) + f(x_0) < f(x)$ per ogni $x \neq x_0$; b $f(x) < (x - x_0)f'(x_0) + f(x_0)$ per ogni $x \neq x_0$; c x_0 è un punto di minimo assoluto per f su \mathbf{R} ; d x_0 è un punto di massimo assoluto per f su \mathbf{R} .

5. Sia $f(x) = x^3$ e $g(x) = \cos x$. Calcolare il valore della derivata di $f(g(x))$ in $x = \pi/4$. a $\frac{3\sqrt{2}}{4}$; b 1; c $-\frac{3\sqrt{2}}{4}$; d -1.

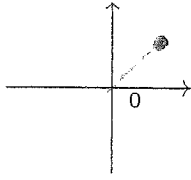
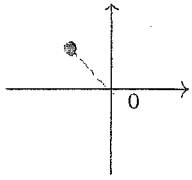
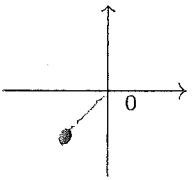
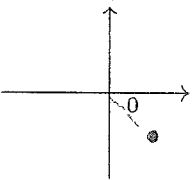
6. L'insieme dei valori $x \in \mathbf{R}$ per i quali la funzione $f(x) = \frac{1-3x}{2+x^2}$ è strettamente crescente è: a $-\frac{\sqrt{5}+1}{2} < x < \frac{\sqrt{5}-1}{2}$; b $x < \frac{1-\sqrt{19}}{3}, x > \frac{1+\sqrt{19}}{3}$; c $x < \frac{1-\sqrt{3}}{2}, x > \frac{1+\sqrt{3}}{2}$; d $-\frac{\sqrt{22}+2}{6} < x < \frac{\sqrt{22}-2}{6}$.

7. L'area compresa tra il grafico di $f(x) = 3 \sin x - \frac{3\sqrt{3}}{2}$ e l'asse delle ascisse, con $x \in [0, \pi/2]$, è: a $2\sqrt{3} - 2 - \frac{\pi}{6}$; b $\frac{\sqrt{3}}{4}\pi$; c $3\sqrt{3} - 3 - \frac{\pi}{4}$; d $\frac{\sqrt{3}}{6}\pi$.

8. Se $\lim_{x \rightarrow +\infty} f(x) = M < 0$ e $\lim_{x \rightarrow +\infty} g(x) = +\infty$, allora è vero che: a $\forall P > 0 \exists Q > 0$ tale che se $x > Q$ allora $f(x)g(x) > P$; b $\forall P > 0 \exists Q > 0$ tale che se $x > Q$ allora $f(x)g(x) < -P$; c $\exists P > 0$ tale che $\forall Q > 0$ se $x > Q$ allora $f(x)g(x) > P$; d $\exists P > 0$ tale che $\forall Q > 0$ se $x > Q$ allora $f(x)g(x) < -P$.

ANALISI MATEMATICA 1 - Quinto appello		10 settembre 2014			
Cognome:	Nome:	Matricola:			
Corso di laurea:		Test	Es1	Es2	Es3

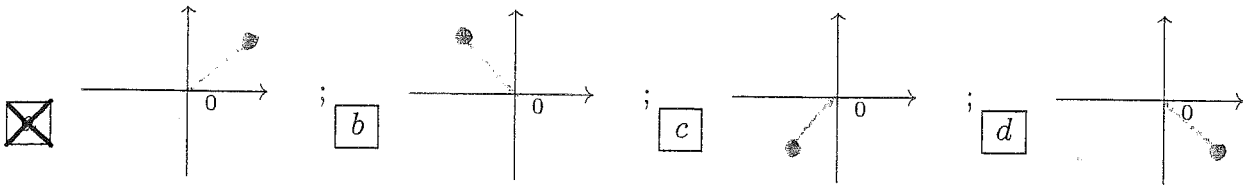
- Una ed una sola delle quattro affermazioni è corretta. Indicarla con una croce.
- Per annullare una risposta ritenuta errata racchiuderla in un cerchio.
- Risposta corretta: +1.5. Risposta errata: -0.25.

1. Sia $f(x) = x^4$ e $g(x) = \cos x$. Calcolare il valore della derivata di $f(g(x))$ in $x = \pi/4$.
 a) -1; b) $\frac{3\sqrt{2}}{4}$; c) 1; d) $-\frac{3\sqrt{2}}{4}$.
2. L'insieme dei valori $x \in \mathbf{R}$ per i quali la funzione $f(x) = \frac{1-2x}{2x^2+1}$ è strettamente crescente è:
 a) $-\frac{\sqrt{22}+2}{6} < x < \frac{\sqrt{22}-2}{6}$; b) $-\frac{\sqrt{5}+1}{2} < x < \frac{\sqrt{5}-1}{2}$; c) $x < \frac{1-\sqrt{19}}{3}, x > \frac{1+\sqrt{19}}{3}$;
 d) $x < \frac{1-\sqrt{3}}{2}, x > \frac{1+\sqrt{3}}{2}$.
3. Il raggio di convergenza della serie di potenze $\sum_{n=0}^{\infty} \frac{3n! + n + 2}{6(n+1)!} x^n$ è: a) $\frac{1}{2}$; b) 1; c) $\frac{3}{4}$;
 d) $\frac{2}{3}$.
4. Se $z = 1 + i$, allora z^5 è:
- a)  ; b)  ; c)  ; d) 
5. Se $\lim_{x \rightarrow +\infty} f(x) = L < 0$ e $\lim_{x \rightarrow +\infty} g(x) = -\infty$, allora è vero che: a) $\exists P > 0$ tale che $\forall Q > 0$ se $x > Q$ allora $f(x)g(x) < -P$; b) $\forall P > 0 \exists Q > 0$ tale che se $x > Q$ allora $f(x)g(x) > P$; c) $\forall P > 0 \exists Q > 0$ tale che se $x > Q$ allora $f(x)g(x) < -P$; d) $\exists P > 0$ tale che $\forall Q > 0$ se $x > Q$ allora $f(x)g(x) > P$.
6. $\lim_{x \rightarrow 0} \frac{x^6 + 3x^7}{\sin(x^6) - (1 - \cos x)^3} =$ a) $-\frac{8}{7}$; b) $\frac{7}{8}$; c) $\frac{8}{7}$; d) $-\frac{7}{8}$.
7. Sia $f: \mathbf{R} \rightarrow \mathbf{R}$ una funzione concava, e sia $x_0 \in \mathbf{R}$ tale che f è derivabile in x_0 e $f'(x_0) = 0$. Allora si può affermare con certezza che: a) x_0 è un punto di massimo assoluto per f su \mathbf{R} ; b) $(x - x_0)f'(x_0) + f(x_0) < f(x)$ per ogni $x \neq x_0$; c) $f(x) < (x - x_0)f'(x_0) + f(x_0)$ per ogni $x \neq x_0$; d) x_0 è un punto di minimo assoluto per f su \mathbf{R} .
8. L'area compresa tra il grafico di $f(x) = 3 \cos x - \frac{3}{2}$ e l'asse delle ascisse, con $x \in [0, \pi/2]$, è:
 a) $\frac{\sqrt{3}}{6}\pi$; b) $2\sqrt{3} - 2 - \frac{\pi}{6}$; c) $\frac{\sqrt{3}}{4}\pi$; d) $3\sqrt{3} - 3 - \frac{\pi}{4}$.

ANALISI MATEMATICA 1 - Quinto appello		10 settembre 2014	
Cognome:	Nome:	Matricola:	
Corso di laurea:		Test	Es1 Es2 Es3

- Una ed una sola delle quattro affermazioni è corretta. Indicarla con una croce.
- Per annullare una risposta ritenuta errata racchiuderla in un cerchio.
- Risposta corretta: +1.5. Risposta errata: -0.25.

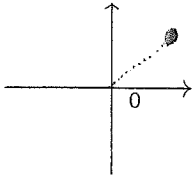
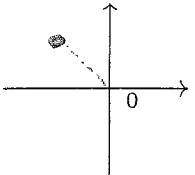
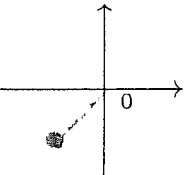
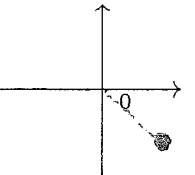
1. Sia $f : \mathbf{R} \rightarrow \mathbf{R}$ una funzione convessa, e sia $x_0 \in \mathbf{R}$ tale che f è derivabile in x_0 e $f'(x_0) = 0$. Allora si può affermare con certezza che: a $(x - x_0)f'(x_0) + f(x_0) < f(x)$ per ogni $x \neq x_0$; b $f(x) < (x - x_0)f'(x_0) + f(x_0)$ per ogni $x \neq x_0$; c x_0 è un punto di minimo assoluto per f su \mathbf{R} ; d x_0 è un punto di massimo assoluto per f su \mathbf{R} .
2. Se $\lim_{x \rightarrow +\infty} f(x) = L < 0$ e $\lim_{x \rightarrow +\infty} g(x) = -\infty$, allora è vero che: a $\forall P > 0 \exists Q > 0$ tale che se $x > Q$ allora $f(x)g(x) > P$; b $\forall P > 0 \exists Q > 0$ tale che se $x > Q$ allora $f(x)g(x) < -P$; c $\exists P > 0$ tale che $\forall Q > 0$ se $x > Q$ allora $f(x)g(x) > P$; d $\exists P > 0$ tale che $\forall Q > 0$ se $x > Q$ allora $f(x)g(x) < -P$.
3. Sia $f(x) = x^3$ e $g(x) = \cos x$. Calcolare il valore della derivata di $f(g(x))$ in $x = \pi/4$. a $\frac{3\sqrt{2}}{4}$; b 1; c $-\frac{3\sqrt{2}}{4}$; d -1.
4. $\lim_{x \rightarrow 0} \frac{(1 - \cos x)^3 - \sin(x^6)}{x^6 + 3x^7} =$ a $\frac{7}{8}$; b $\frac{8}{7}$; c $-\frac{7}{8}$; d $-\frac{8}{7}$.
5. Se $z = -1 - i$, allora z^5 è:



6. L'area compresa tra il grafico di $f(x) = 3 \cos x - \frac{3}{2}$ e l'asse delle ascisse, con $x \in [0, \pi/2]$, è: a $2\sqrt{3} - 2 - \frac{\pi}{6}$; b $\frac{\sqrt{3}}{4}\pi$; c $3\sqrt{3} - 3 - \frac{\pi}{4}$; d $\frac{\sqrt{3}}{6}\pi$.
7. L'insieme dei valori $x \in \mathbf{R}$ per i quali la funzione $f(x) = \frac{1-2x}{2x^2+1}$ è strettamente crescente è: a $-\frac{\sqrt{5}+1}{2} < x < \frac{\sqrt{5}-1}{2}$; b $x < \frac{1-\sqrt{19}}{3}, x > \frac{1+\sqrt{19}}{3}$; c $x < \frac{1-\sqrt{3}}{2}, x > \frac{1+\sqrt{3}}{2}$; d $-\frac{\sqrt{22}+2}{6} < x < \frac{\sqrt{22}-2}{6}$.
8. Il raggio di convergenza della serie di potenze $\sum_{n=0}^{\infty} \frac{2(n+1)!}{4n! + n + 1} x^n$ è: a 1; b $\frac{3}{4}$; c $\frac{2}{3}$; d $\frac{1}{2}$.

ANALISI MATEMATICA 1 - Quinto appello		10 settembre 2014			
Cognome:	Nome:	Matricola:			
Corso di laurea:		Test	Es1	Es2	Es3

- Una ed una sola delle quattro affermazioni è corretta. Indicarla con una croce.
- Per annullare una risposta ritenuta errata racchiuderla in un cerchio.
- Risposta corretta: +1.5. Risposta errata: -0.25.

1. Il raggio di convergenza della serie di potenze $\sum_{n=0}^{\infty} \frac{2n^2 - 1}{3n + 2} x^n$ è: a $\frac{2}{3}$; b $\frac{1}{2}$; c 1; d $\frac{3}{4}$.
2. Sia $f : \mathbf{R} \rightarrow \mathbf{R}$ una funzione strettamente convessa, e sia $x_0 \in \mathbf{R}$ tale che f è derivabile in x_0 . Allora si può affermare con certezza che: a x_0 è un punto di minimo assoluto per f su \mathbf{R} ; b x_0 è un punto di massimo assoluto per f su \mathbf{R} ; c $(x - x_0)f'(x_0) + f(x_0) < f(x)$ per ogni $x \neq x_0$; d $f(x) < (x - x_0)f'(x_0) + f(x_0)$ per ogni $x \neq x_0$.
3. L'area compresa tra il grafico di $f(x) = 2 \sin x - 1$ e l'asse delle ascisse, con $x \in [0, \pi/2]$, è: a $3\sqrt{3} - 3 - \frac{\pi}{4}$; b $\frac{\sqrt{3}}{6}\pi$; c $2\sqrt{3} - 2 - \frac{\pi}{6}$; d $\frac{\sqrt{3}}{4}\pi$.
4. Se $\lim_{x \rightarrow +\infty} f(x) = L > 0$ e $\lim_{x \rightarrow +\infty} g(x) = +\infty$, allora è vero che: a $\exists P > 0$ tale che $\forall Q > 0$ se $x > Q$ allora $f(x)g(x) > P$; b $\exists P > 0$ tale che $\forall Q > 0$ se $x > Q$ allora $f(x)g(x) < -P$; c $\forall P > 0 \exists Q > 0$ tale che se $x > Q$ allora $f(x)g(x) > P$; d $\forall P > 0 \exists Q > 0$ tale che se $x > Q$ allora $f(x)g(x) < -P$.
5. L'insieme dei valori $x \in \mathbf{R}$ per i quali la funzione $f(x) = \frac{2x+1}{x^2+1}$ è strettamente crescente è: a $x < \frac{1-\sqrt{3}}{2}, x > \frac{1+\sqrt{3}}{2}$; b $-\frac{\sqrt{22}+2}{6} < x < \frac{\sqrt{22}-2}{6}$; c $-\frac{\sqrt{5}+1}{2} < x < \frac{\sqrt{5}-1}{2}$; d $x < \frac{1-\sqrt{19}}{3}, x > \frac{1+\sqrt{19}}{3}$.
6. Se $z = 1 + i$, allora z^5 è:
- a  ; b  ; c  ; d 
7. Sia $f(x) = x^3$ e $g(x) = \sin x$. Calcolare il valore della derivata di $f(g(x))$ in $x = \pi/4$. a $-\frac{3\sqrt{2}}{4}$; b -1 ; c $\frac{3\sqrt{2}}{4}$; d 1.
8. $\lim_{x \rightarrow 0} \frac{\sin(x^6) - (1 - \cos x)^3}{x^6 + 3x^7} =$ a $-\frac{7}{8}$; b $-\frac{8}{7}$; c $\frac{7}{8}$; d $\frac{8}{7}$.

ANALISI MATEMATICA 1 - Quinto appello		10 settembre 2014	
Cognome:	Nome:	Matricola:	
Corso di laurea:		Test	Es1 Es2 Es3

- Una ed una sola delle quattro affermazioni è corretta. Indicarla con una croce.
- Per annullare una risposta ritenuta errata racchiuderla in un cerchio.
- Risposta corretta: +1.5. Risposta errata: -0.25.

1. Se $\lim_{x \rightarrow +\infty} f(x) = M > 0$ e $\lim_{x \rightarrow +\infty} g(x) = -\infty$, allora è vero che: a $\exists P > 0$ tale che $\forall Q > 0$ se $x > Q$ allora $f(x)g(x) > P$; b $\exists P > 0$ tale che $\forall Q > 0$ se $x > Q$ allora $f(x)g(x) < -P$; c $\forall P > 0 \exists Q > 0$ tale che se $x > Q$ allora $f(x)g(x) > P$; d $\forall P > 0 \exists Q > 0$ tale che se $x > Q$ allora $f(x)g(x) < -P$.

2. $\lim_{x \rightarrow 0} \frac{\sin(x^6) - (1 - \cos x)^3}{x^6 + 3x^7} =$ a $-\frac{7}{8}$; b $-\frac{8}{7}$; c $\frac{7}{8}$; d $\frac{8}{7}$.

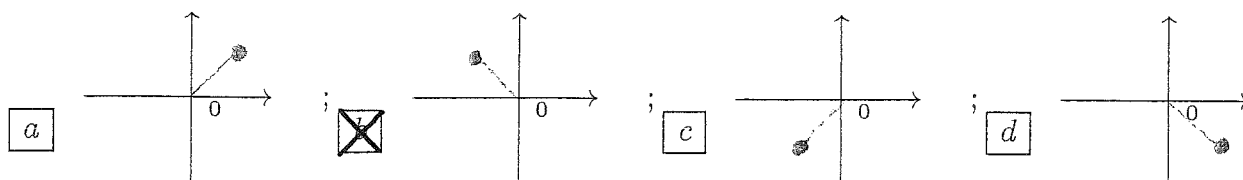
3. L'insieme dei valori $x \in \mathbb{R}$ per i quali la funzione $f(x) = \frac{2x+1}{x^2+1}$ è strettamente crescente è: a $x < \frac{1-\sqrt{3}}{2}, x > \frac{1+\sqrt{3}}{2}$; b $-\frac{\sqrt{22}+2}{6} < x < \frac{\sqrt{22}-2}{6}$; c $-\frac{\sqrt{5}+1}{2} < x < \frac{\sqrt{5}-1}{2}$; d $x < \frac{1-\sqrt{19}}{3}, x > \frac{1+\sqrt{19}}{3}$.

4. Il raggio di convergenza della serie di potenze $\sum_{n=0}^{\infty} \frac{3n-2}{4n^2+1} x^n$ è: a $\frac{2}{3}$; b $\frac{1}{2}$; c 1; d $\frac{3}{4}$.

5. L'area compresa tra il grafico di $f(x) = 2\sin x - 1$ e l'asse delle ascisse, con $x \in [0, \pi/2]$, è: a $3\sqrt{3} - 3 - \frac{\pi}{4}$; b $\frac{\sqrt{3}}{6}\pi$; c $2\sqrt{3} - 2 - \frac{\pi}{6}$; d $\frac{\sqrt{3}}{4}\pi$.

6. Sia $f(x) = x^4$ e $g(x) = \sin x$. Calcolare il valore della derivata di $f(g(x))$ in $x = \pi/4$. a $-\frac{3\sqrt{2}}{4}$; b -1; c $\frac{3\sqrt{2}}{4}$; d 1.

7. Se $z = 1 - i$, allora z^5 è:



8. Sia $f: \mathbb{R} \rightarrow \mathbb{R}$ una funzione strettamente convessa, e sia $x_0 \in \mathbb{R}$ tale che f è derivabile in x_0 . Allora si può affermare con certezza che: a x_0 è un punto di minimo assoluto per f su \mathbb{R} ; b x_0 è un punto di massimo assoluto per f su \mathbb{R} ; c $(x - x_0)f'(x_0) + f(x_0) < f(x)$ per ogni $x \neq x_0$; d $f(x) < (x - x_0)f'(x_0) + f(x_0)$ per ogni $x \neq x_0$.

ANALISI MATEMATICA 1 - Quinto appello		10 settembre 2014			
Cognome:	Nome:	Matricola:			
Corso di laurea:		Test	Es1	Es2	Es3

- Una ed una sola delle quattro affermazioni è corretta. Indicarla con una croce.
- Per annullare una risposta ritenuta errata racchiuderla in un cerchio.
- Risposta corretta: +1.5. Risposta errata: -0.25.

1. L'area compresa tra il grafico di $f(x) = 2 \cos x - \sqrt{3}$ e l'asse delle ascisse, con $x \in [0, \pi/2]$, è:
 a $\frac{\sqrt{3}}{4}\pi$; b $3\sqrt{3} - 3 - \frac{\pi}{4}$; c $\frac{\sqrt{3}}{6}\pi$; d $2\sqrt{3} - 2 - \frac{\pi}{6}$.
2. Sia $f(x) = x^4$ e $g(x) = \cos x$. Calcolare il valore della derivata di $f(g(x))$ in $x = \pi/4$. a 1;
 b $-\frac{3\sqrt{2}}{4}$; c -1; d $\frac{3\sqrt{2}}{4}$.
3. $\lim_{x \rightarrow 0} \frac{x^6 + 3x^7}{(1 - \cos x)^3 - \sin(x^6)} =$ a $\frac{8}{7}$; b $-\frac{7}{8}$; c $-\frac{8}{7}$; d $\frac{7}{8}$.
4. L'insieme dei valori $x \in \mathbf{R}$ per i quali la funzione $f(x) = \frac{1+3x}{1+2x^2}$ è strettamente crescente è:
 a $x < \frac{1-\sqrt{19}}{3}, x > \frac{1+\sqrt{19}}{3}$; b $x < \frac{1-\sqrt{3}}{2}, x > \frac{1+\sqrt{3}}{2}$; c $-\frac{\sqrt{22}+2}{6} < x < \frac{\sqrt{22}-2}{6}$;
 d $-\frac{\sqrt{5}+1}{2} < x < \frac{\sqrt{5}-1}{2}$.
5. Sia $f: \mathbf{R} \rightarrow \mathbf{R}$ una funzione concava, e sia $x_0 \in \mathbf{R}$ tale che f è derivabile in x_0 e $f'(x_0) = 0$. Allora si può affermare con certezza che:
 a $f(x) < (x-x_0)f'(x_0) + f(x_0)$ per ogni $x \neq x_0$;
 b x_0 è un punto di minimo assoluto per f su \mathbf{R} ; c x_0 è un punto di massimo assoluto per f su \mathbf{R} ;
 d $(x-x_0)f'(x_0) + f(x_0) < f(x)$ per ogni $x \neq x_0$.
6. Se $\lim_{x \rightarrow +\infty} f(x) = M < 0$ e $\lim_{x \rightarrow +\infty} g(x) = +\infty$, allora è vero che: a $\forall P > 0 \exists Q > 0$ tale che se $x > Q$ allora $f(x)g(x) < -P$;
 b $\exists P > 0$ tale che $\forall Q > 0$ se $x > Q$ allora $f(x)g(x) > P$;
 c $\exists P > 0$ tale che $\forall Q > 0$ se $x > Q$ allora $f(x)g(x) < -P$;
 d $\forall P > 0 \exists Q > 0$ tale che se $x > Q$ allora $f(x)g(x) > P$.
7. Il raggio di convergenza della serie di potenze $\sum_{n=0}^{\infty} \frac{3n! + n + 2}{6(n+1)!} x^n$ è: a $\frac{3}{4}$; b $\frac{2}{3}$; c $\frac{1}{2}$;
 d 1.
8. Se $z = -1 + i$, allora z^5 è:

