

Cognome:

Nome:

Matricola:

- Una ed una sola delle quattro affermazioni è corretta. Indicarla con una croce.
- Per annullare una risposta ritenuta errata racchiuderla in un cerchio.
- Risposta corretta: +1.5. Risposta errata: -0.25.

1. Per quali $\alpha \in \mathbf{R}$ l'integrale $\int_1^{+\infty} t^\alpha (1+t^4)^\alpha dt$ è convergente?

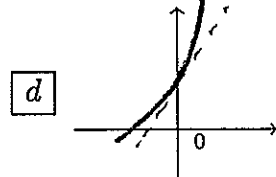
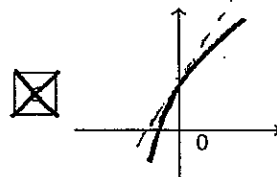
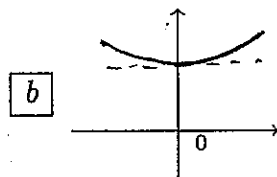
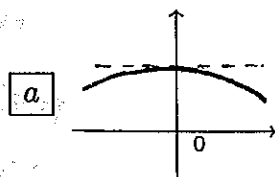
$\alpha < -1/5$; $\alpha < -1$; $\alpha < -1/2$; $\alpha < -1/3$.

2. Per quali $\alpha \in \mathbf{R}$ le soluzioni di $y'' - (4 - \alpha^2)y = 0$ sono funzioni limitate? $|\alpha| > 2$;
 per nessun valore di α ; $|\alpha| = 2$; $|\alpha| < 2$.

3. Siano $a_n > 0$ per ogni $n \geq 0$ e $\lim_{n \rightarrow \infty} \left(\frac{a_n}{a_{n+1}} \right)^{1/n} = 0$. Allora è necessariamente vero che $\sum_{n=0}^{\infty} a_n$
 a è divergente negativamente; b è convergente; c non è convergente né divergente;
 d è divergente positivamente.

4. Indicate quale grafico rappresenta la soluzione del problema di Cauchy

$$\begin{cases} y' = y + e^{-4ty} \\ y(0) = 1. \end{cases}$$



5. Se $\int_0^2 f(x) dx = \int_0^3 g(x) dx$, allora esistono due numeri $x_1, x_2 \in [0, 3]$ tali che
 a $\frac{1}{4}f(x_1) = \frac{1}{3}g(x_2)$; b $\frac{1}{3}f(x_1) = \frac{1}{2}g(x_2)$; c $\frac{1}{2}f(x_1) = \frac{1}{3}g(x_2)$; d $\frac{1}{3}f(x_1) = \frac{1}{4}g(x_2)$.

6.

$$\int_{-2}^{-1} \frac{f(x^2)}{2x} dx =$$

a $-\frac{1}{4} \int_1^4 \frac{f(t)}{t^2} dt$; b $-\frac{1}{4} \int_1^4 \frac{f(t)}{t} dt$; c $-\frac{1}{2} \int_1^4 \frac{f(t)}{t^2} dt$; d $-\frac{1}{2} \int_1^4 \frac{f(t)}{t} dt$.

7. Lo sviluppo in serie nell'intervallo $(-1, 1)$ e con centro in 0 della funzione $\frac{x}{1-x^2}$ è:

a $\sum_{k=2}^{\infty} x^k$; b $\sum_{k=0}^{\infty} x^{2k+1}$; c $\sum_{k=1}^{\infty} x^{2k}$; d $\sum_{k=1}^{\infty} x^k$.

8. $\lim_{x \rightarrow -2} \frac{1}{x+2} \int_{x^2}^4 \frac{dt}{\sin t} =$ a $\frac{4}{\cos 4}$; b $\frac{-4}{\sin 4}$; c $\frac{4}{\sin 4}$; d $\frac{-4}{\cos 4}$.

1. (6 punti)

Si determini il raggio di convergenza r della serie di potenze

$$\sum_{n=2}^{\infty} \frac{\log n}{3^n - n^2} x^n.$$

Si determini inoltre se la serie converge o non converge per $x = -r$ ed $x = r$.

Il raggio di convergenza r è dato da $\frac{1}{L}$, ove $L = \lim_{n \rightarrow \infty} \left| \frac{a_{n+1}}{a_n} \right|$.

Qui si ha $a_n = \frac{\log n}{3^n - n^2}$, $n \geq 2$, per cui $a_n > 0$, e dunque

$$L = \lim_{n \rightarrow \infty} \left(\frac{\log(n+1)}{3^{n+1} - (n+1)^2} \cdot \frac{3^n - n^2}{\log n} \right) = \lim_{n \rightarrow \infty} \frac{\log(n+1)}{\log n} \cdot \lim_{n \rightarrow \infty} \frac{3^n - n^2}{3^{n+1} - (n+1)^2}.$$

Siccome 3^n tende più velocemente all'infinito di n^2 , e siccome

$$\lim_{n \rightarrow \infty} \frac{\log(n+1)}{\log n} = \lim_{x \rightarrow \infty} \frac{\log(x+1)}{\log x} \stackrel{\text{H\^opital}}{=} \lim_{x \rightarrow \infty} \frac{1/x+1}{1/x} = 1,$$

si ha

$$L = \lim_{n \rightarrow \infty} \frac{3^n}{3^{n+1}} = \frac{1}{3}, \text{ e quindi } r = 3.$$

Per $x = 3$ la serie diventa $\sum_{n=2}^{\infty} \frac{\log n}{3^n - n^2} \cdot 3^n$, e $\lim_{n \rightarrow \infty} \frac{\log n}{3^n - n^2} \cdot 3^n = +\infty$,

per cui la serie non converge (diverge, essendo a termini positivi).

Per $x = -3$ la serie diventa $\sum_{n=2}^{\infty} \frac{\log n}{3^n - n^2} \cdot (-1)^n 3^n$, e $\lim_{n \rightarrow \infty} \left| \frac{\log n}{3^n - n^2} \cdot (-1)^n 3^n \right| = +\infty$,

per cui il termine generale non tende a 0, e la serie non converge.

2. (6 punti)

Si calcoli il volume del solido ottenuto facendo ruotare attorno all'asse Y l'insieme

$$A = \{(x, y) \mid 0 \leq x \leq 1, 2-x \leq y \leq xe^{2x} + 2+x\}.$$

Il volume è dato da

$$\begin{aligned}
 V &= 2\pi \int_0^1 x [(xe^{2x} + 2+x) - (2-x)] dx = 2\pi \int_0^1 (x^2e^{2x} + 2x^2) dx = \\
 &= 2\pi \left[\frac{x^2}{2} e^{2x} \Big|_0^1 - \frac{1}{2} \int_0^1 2x e^{2x} dx + \frac{2}{3} x^3 \Big|_0^1 \right] = \begin{array}{l} \text{per parti il} \\ \text{primo} \\ \text{addendo} \end{array} \\
 &= 2\pi \left[\frac{x^2}{2} e^{2x} \Big|_0^1 - \frac{1}{2} x e^{2x} \Big|_0^1 + \frac{1}{2} \int_0^1 e^{2x} dx + \frac{2}{3} x^3 \Big|_0^1 \right] = \begin{array}{l} \text{per parti il} \\ \text{secondo} \\ \text{addendo} \end{array} \\
 &= 2\pi \left[\frac{x^2}{2} e^{2x} \Big|_0^1 - \frac{1}{2} x e^{2x} \Big|_0^1 + \frac{1}{4} e^{2x} \Big|_0^1 + \frac{2}{3} x^3 \Big|_0^1 \right] = \\
 &= 2\pi \left(\frac{e^2}{2} - \frac{1}{2} e^2 + \frac{1}{4} e^2 - \frac{1}{4} + \frac{2}{3} \right) = \pi \left(\frac{e^2}{2} + \frac{5}{6} \right).
 \end{aligned}$$

3. (6 punti)

Risolvete, in funzione di $\beta \in \mathbb{R}$, il problema di Cauchy

$$\begin{cases} y'' - 3y' = e^{-3t}, \\ y(0) = 2, \\ y'(0) = \beta. \end{cases}$$

Per quale valore di β vale che $\lim_{t \rightarrow +\infty} y(t) \neq \pm\infty$?

È un'equazione lineare, del 2° ordine, a coefficienti costanti, non-omogenea.

Il polinomio associato è $r^2 - 3r$, che ha radici $r=0$ ed $r=3$.

La soluzione dell'omogenea è dunque

$$y_0(t) = c_1 + c_2 e^{3t}.$$

Una soluzione particolare della non-omogenea ha la forma

$$y_*(t) = A e^{-3t}. \text{ Si ha}$$

$$y_*'(t) = -3A e^{-3t}, \quad y_*''(t) = 9A e^{-3t},$$

per cui si vuole

$$9A e^{-3t} - 3(-3A e^{-3t}) = e^{-3t}, \text{ cioè } 18A = 1, \quad A = \frac{1}{18}.$$

La soluzione dell'equazione è dunque

$$y(t) = c_1 + c_2 e^{3t} + \frac{1}{18} e^{-3t}.$$

Per risolvere il problema di Cauchy calcolò $y'(t) = 3c_2 e^{3t} - \frac{1}{6} e^{-3t}$,

per cui voglio

$$\begin{cases} 2 = y(0) = c_1 + c_2 + \frac{1}{18} \\ \beta = y'(0) = 3c_2 - \frac{1}{6} \end{cases} \rightarrow c_2 = \beta/3 + 1/18 \rightarrow c_1 = \frac{17}{9} - \frac{\beta}{3}.$$

Si ha quindi

$$y(t) = \frac{17}{9} - \frac{\beta}{3} + \left(\frac{\beta}{3} + \frac{1}{18}\right) e^{3t} + \frac{1}{18} e^{-3t}.$$

Affinché si abbia $\lim_{t \rightarrow +\infty} y(t) \neq \pm\infty$ bisogna che scompaia il termine che contiene e^{3t} , dunque occorre $\beta/3 + 1/18 = 0$, cioè

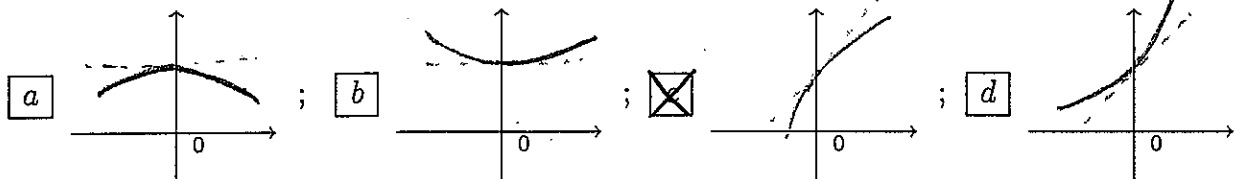
$$\underline{\beta = -1/6}.$$

ANALISI MATEMATICA 1		8 gennaio 2010
Cognome:	Nome:	Matricola:

- Una ed una sola delle quattro affermazioni è corretta. Indicarla con una croce.
- Per annullare una risposta ritenuta errata racchiuderla in un cerchio.
- Risposta corretta: +1.5. Risposta errata: -0.25.

1. Indicate quale grafico rappresenta la soluzione del problema di Cauchy

$$\begin{cases} y' = y + e^{-4ty} \\ y(0) = 1. \end{cases}$$



2. $\lim_{x \rightarrow -2} \frac{1}{x+2} \int_{x^2}^4 \frac{dt}{\sin t} =$ a $\frac{4}{\cos 4}$; b $\frac{-4}{\sin 4}$; c $\frac{4}{\sin 4}$; d $\frac{-4}{\cos 4}$.

3. Se $\int_0^3 f(x) dx = \int_0^2 g(x) dx$, allora esistono due numeri $x_1, x_2 \in [0, 3]$ tali che
 a $\frac{1}{4}f(x_1) = \frac{1}{3}g(x_2)$; b $\frac{1}{3}f(x_1) = \frac{1}{2}g(x_2)$; c $\frac{1}{2}f(x_1) = \frac{1}{3}g(x_2)$; d $\frac{1}{3}f(x_1) = \frac{1}{4}g(x_2)$.

4. Per quali $\alpha \in \mathbf{R}$ l'integrale $\int_1^{+\infty} t^\alpha (1+t^4)^\alpha dt$ è convergente?
 a $\alpha < -1/5$; b $\alpha < -1$; c $\alpha < -1/2$; d $\alpha < -1/3$.

5. Siano $a_n > 0$ per ogni $n \geq 0$ e $\lim_{n \rightarrow \infty} \left(\frac{a_n}{a_{n+1}} \right)^{1/n} = 2$. Allora è necessariamente vero che $\sum_{n=0}^{\infty} a_n$
 a è divergente negativamente; b è convergente; c non è convergente né divergente;
 d è divergente positivamente.

6. Lo sviluppo in serie nell'intervallo $(-1, 1)$ e con centro in 0 della funzione $\frac{x}{1-x^2}$ è:
 a $\sum_{k=2}^{\infty} x^k$; b $\sum_{k=0}^{\infty} x^{2k+1}$; c $\sum_{k=1}^{\infty} x^{2k}$; d $\sum_{k=1}^{\infty} x^k$.

7. $\int_{-2}^{-1} \frac{f(x^2)}{2x} dx =$
 a $-\frac{1}{4} \int_1^4 \frac{f(t)}{t^2} dt$; b $-\frac{1}{4} \int_1^4 \frac{f(t)}{t} dt$; c $-\frac{1}{2} \int_1^4 \frac{f(t)}{t^2} dt$; d $-\frac{1}{2} \int_1^4 \frac{f(t)}{t} dt$.

8. Per quali $\alpha \in \mathbf{R}$ le soluzioni di $y'' - (4 - \alpha^2)y = 0$ sono funzioni limitate?
 a $|\alpha| > 2$; b per nessun valore di α ; c $|\alpha| = 2$; d $|\alpha| < 2$.

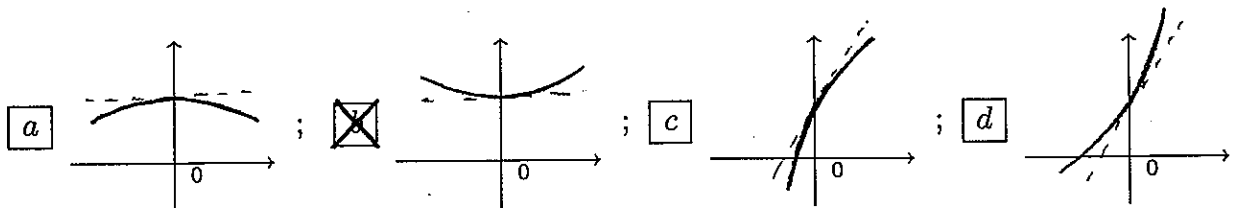
ANALISI MATEMATICA 1		8 gennaio 2010
Cognome:	Nome:	Matricola:

- Una ed una sola delle quattro affermazioni è corretta. Indicarla con una croce.
- Per annullare una risposta ritenuta errata racchiuderla in un cerchio.
- Risposta corretta: +1.5. Risposta errata: -0.25.

1. Per quali $\alpha \in \mathbf{R}$ le soluzioni di $y'' - (1 - \alpha^2)y = 0$ sono funzioni limitate? a $|\alpha| = 1$; b $|\alpha| < 1$; c $|\alpha| > 1$; d per nessun valore di α .

2. Indicate quale grafico rappresenta la soluzione del problema di Cauchy

$$\begin{cases} y' = y - e^{-ty} \\ y(0) = 1. \end{cases}$$



3. Lo sviluppo in serie nell'intervallo $(-1, 1)$ e con centro in 0 della funzione $\frac{x}{1-x}$ è:

a $\sum_{k=1}^{\infty} x^{2k}$; b $\sum_{k=1}^{\infty} x^k$; c $\sum_{k=2}^{\infty} x^k$; d $\sum_{k=0}^{\infty} x^{2k+1}$.

4. $\lim_{x \rightarrow -2} \frac{1}{x+2} \int_{x^2}^4 \frac{dt}{\cos t} =$ a $\frac{4}{\sin 4}$; b $\frac{-4}{\cos 4}$; c $\frac{4}{\cos 4}$; d $\frac{-4}{\sin 4}$.

5. $\int_{-2}^{-1} \frac{f(x^2)}{2x^3} dx =$

a $-\frac{1}{2} \int_1^4 \frac{f(t)}{t^2} dt$; b $-\frac{1}{2} \int_1^4 \frac{f(t)}{t} dt$; c $-\frac{1}{4} \int_1^4 \frac{f(t)}{t^2} dt$; d $-\frac{1}{4} \int_1^4 \frac{f(t)}{t} dt$.

6. Siano $a_n > 0$ per ogni $n \geq 0$ e $\lim_{n \rightarrow \infty} \left(\frac{a_n}{a_{n+1}} \right)^{1/n} = +\infty$. Allora è necessariamente vero che $\sum_{n=0}^{\infty} a_n$ a non è convergente né divergente; b è divergente positivamente; c è divergente negativamente; d è convergente.

7. Se $\int_0^3 f(x) dx = \int_0^2 g(x) dx$, allora esistono due numeri $x_1, x_2 \in [0, 3]$ tali che a $\frac{1}{2}f(x_1) = \frac{1}{3}g(x_2)$; b $\frac{1}{3}f(x_1) = \frac{1}{4}g(x_2)$; c $\frac{1}{4}f(x_1) = \frac{1}{3}g(x_2)$; d $\frac{1}{3}f(x_1) = \frac{1}{2}g(x_2)$.

8. Per quali $\alpha \in \mathbf{R}$ l'integrale $\int_1^{+\infty} \frac{(1+t^4)^\alpha}{t^{2\alpha}} dt$ è convergente? a $\alpha < -1/2$; b $\alpha < -1/3$; c $\alpha < -1/5$; d $\alpha < -1$.

ANALISI MATEMATICA 1		8 gennaio 2010
Cognome:	Nome:	Matricola:

- Una ed una sola delle quattro affermazioni è corretta. Indicarla con una croce.
- Per annullare una risposta ritenuta errata racchiuderla in un cerchio.
- Risposta corretta: +1.5. Risposta errata: -0.25.

1.

$$\int_{-2}^{-1} \frac{f(x^2)}{x^3} dx =$$

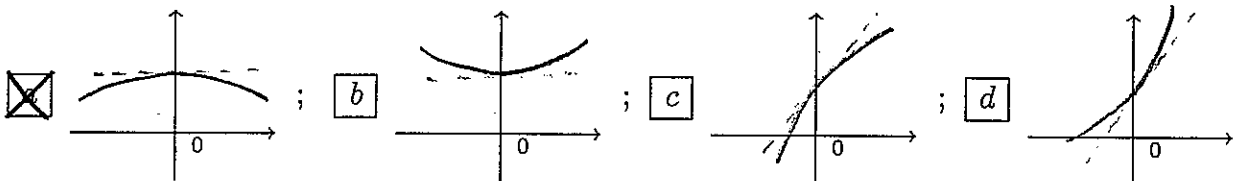
a $-\frac{1}{4} \int_1^4 \frac{f(t)}{t} dt$; b $-\frac{1}{2} \int_1^4 \frac{f(t)}{t^2} dt$; c $-\frac{1}{2} \int_1^4 \frac{f(t)}{t} dt$; d $-\frac{1}{4} \int_1^4 \frac{f(t)}{t^2} dt$.

2. Siano $a_n > 0$ per ogni $n \geq 0$ e $\lim_{n \rightarrow \infty} \left(\frac{a_n}{a_{n+1}} \right)^{1/n} = \frac{1}{2}$. Allora è necessariamente vero che $\sum_{n=0}^{\infty} a_n$

a è convergente; b non è convergente né divergente; c è divergente positivamente; d è divergente negativamente.

3. Indicate quale grafico rappresenta la soluzione del problema di Cauchy

$$\begin{cases} y' = y - e^{ty} \\ y(0) = 1. \end{cases}$$



4. Lo sviluppo in serie nell'intervallo $(-1,1)$ e con centro in 0 della funzione $\frac{x^2}{1-x}$ è:

a $\sum_{k=0}^{\infty} x^{2k+1}$; b $\sum_{k=1}^{\infty} x^{2k}$; c $\sum_{k=1}^{\infty} x^k$; d $\sum_{k=2}^{\infty} x^k$.

5. Per quali $\alpha \in \mathbf{R}$ l'integrale $\int_1^{+\infty} \frac{(1+t^2)^\alpha}{t^\alpha} dt$ è convergente?

a $\alpha < -1$; b $\alpha < -1/2$; c $\alpha < -1/3$; d $\alpha < -1/5$.

6. Per quali $\alpha \in \mathbf{R}$ le soluzioni di $y'' + (1 - \alpha^2)y = 0$ sono funzioni limitate? a per nessun valore di α ; b $|\alpha| = 1$; c $|\alpha| < 1$; d $|\alpha| > 1$.

7. $\lim_{x \rightarrow 2} \frac{1}{x-2} \int_{x^2}^4 \frac{dt}{\cos t} =$ a $\frac{-4}{\sin 4}$; b $\frac{4}{\sin 4}$; c $\frac{-4}{\cos 4}$; d $\frac{4}{\cos 4}$.

8. Se $\int_0^3 f(x) dx = \int_0^4 g(x) dx$, allora esistono due numeri $x_1, x_2 \in [0,4]$ tali che

a $\frac{1}{3}f(x_1) = \frac{1}{2}g(x_2)$; b $\frac{1}{2}f(x_1) = \frac{1}{3}g(x_2)$; c $\frac{1}{3}f(x_1) = \frac{1}{4}g(x_2)$; d $\frac{1}{4}f(x_1) = \frac{1}{3}g(x_2)$.

ANALISI MATEMATICA 1		8 gennaio 2010
Cognome:	Nome:	Matricola:

- Una ed una sola delle quattro affermazioni è corretta. Indicarla con una croce.
- Per annullare una risposta ritenuta errata racchiuderla in un cerchio.
- Risposta corretta: +1.5. Risposta errata: -0.25.

1. Lo sviluppo in serie nell'intervallo $(-1,1)$ e con centro in 0 della funzione $\frac{x^2}{1-x}$ è:

a $\sum_{k=0}^{\infty} x^{2k+1}$; b $\sum_{k=1}^{\infty} x^{2k}$; c $\sum_{k=1}^{\infty} x^k$; d $\sum_{k=2}^{\infty} x^k$.

2. Se $\int_0^4 f(x) dx = \int_0^3 g(x) dx$, allora esistono due numeri $x_1, x_2 \in [0,4]$ tali che
 a $\frac{1}{3}f(x_1) = \frac{1}{2}g(x_2)$; b $\frac{1}{2}f(x_1) = \frac{1}{3}g(x_2)$; c $\frac{1}{3}f(x_1) = \frac{1}{4}g(x_2)$; d $\frac{1}{4}f(x_1) = \frac{1}{3}g(x_2)$.

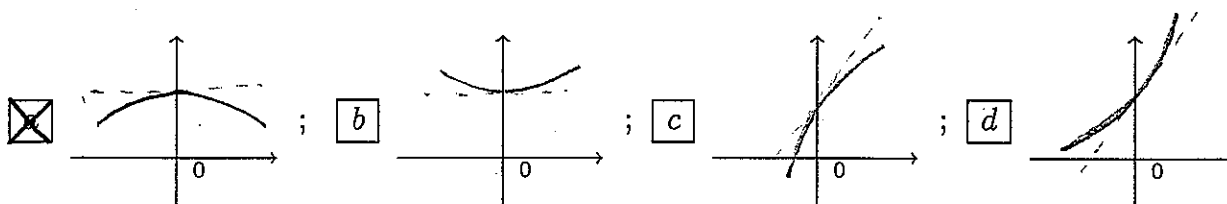
3. Per quali $\alpha \in \mathbf{R}$ l'integrale $\int_1^{+\infty} \frac{(1+t^2)^\alpha}{t^\alpha} dt$ è convergente?
 a $\alpha < -1$; b $\alpha < -1/2$; c $\alpha < -1/3$; d $\alpha < -1/5$.

4.

$$\int_{-2}^{-1} \frac{f(x^2)}{x^3} dx =$$
 a $-\frac{1}{4} \int_1^4 \frac{f(t)}{t} dt$; b $-\frac{1}{2} \int_1^4 \frac{f(t)}{t^2} dt$; c $-\frac{1}{2} \int_1^4 \frac{f(t)}{t} dt$; d $-\frac{1}{4} \int_1^4 \frac{f(t)}{t^2} dt$.

5. Indicate quale grafico rappresenta la soluzione del problema di Cauchy

$$\begin{cases} y' = y - e^{ty} \\ y(0) = 1. \end{cases}$$



6. $\lim_{x \rightarrow 2} \frac{1}{x-2} \int_{x^2}^4 \frac{dt}{\cos t} =$ a $\frac{-4}{\sin 4}$; b $\frac{4}{\sin 4}$; c $\frac{-4}{\cos 4}$; d $\frac{4}{\cos 4}$.

7. Per quali $\alpha \in \mathbf{R}$ le soluzioni di $y'' + (1 - \alpha^2)y = 0$ sono funzioni limitate? a per nessun valore di α ; b $|\alpha| = 1$; c $|\alpha| < 1$; d $|\alpha| > 1$.

8. Siano $a_n > 0$ per ogni $n \geq 0$ e $\lim_{n \rightarrow \infty} \left(\frac{a_n}{a_{n+1}} \right)^{1/n} = 0$. Allora è necessariamente vero che $\sum_{n=0}^{\infty} a_n$
 a è convergente; b non è convergente né divergente; c è divergente positivamente;
 d è divergente negativamente.

ANALISI MATEMATICA 1		8 gennaio 2010
Cognome:	Nome:	Matricola:

- Una ed una sola delle quattro affermazioni è corretta. Indicarla con una croce.
- Per annullare una risposta ritenuta errata racchiuderla in un cerchio.
- Risposta corretta: +1.5. Risposta errata: -0.25.

1. Siano $a_n > 0$ per ogni $n \geq 0$ e $\lim_{n \rightarrow \infty} \left(\frac{a_n}{a_{n+1}} \right)^{1/n} = \frac{1}{2}$. Allora è necessariamente vero che

$\sum_{n=0}^{\infty} a_n$ è divergente positivamente; è divergente negativamente; è convergente; non è convergente né divergente.

2. Lo sviluppo in serie nell'intervallo $(-1, 1)$ e con centro in 0 della funzione $\frac{x^2}{1-x^2}$ è:

$\sum_{k=1}^{\infty} x^k$; $\sum_{k=2}^{\infty} x^k$; $\sum_{k=0}^{\infty} x^{2k+1}$; $\sum_{k=1}^{\infty} x^{2k}$.

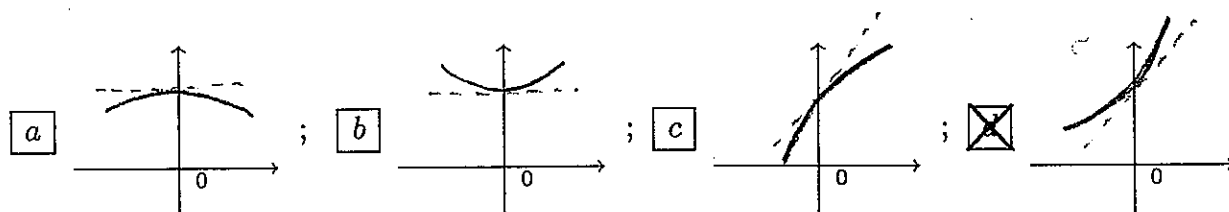
3. $\lim_{x \rightarrow 2} \frac{1}{x-2} \int_{x^2}^4 \frac{dt}{\sin t} =$ $\frac{-4}{\cos 4}$; $\frac{4}{\cos 4}$; $\frac{-4}{\sin 4}$; $\frac{4}{\sin 4}$.

4. Se $\int_0^2 f(x) dx = \int_0^3 g(x) dx$, allora esistono due numeri $x_1, x_2 \in [0, 3]$ tali che $\frac{1}{3}f(x_1) = \frac{1}{4}g(x_2)$; $\frac{1}{4}f(x_1) = \frac{1}{3}g(x_2)$; $\frac{1}{3}f(x_1) = \frac{1}{2}g(x_2)$; $\frac{1}{2}f(x_1) = \frac{1}{3}g(x_2)$.

5. Per quali $\alpha \in \mathbf{R}$ le soluzioni di $y'' + (4 - \alpha^2)y = 0$ sono funzioni limitate? $|\alpha| < 2$; $|\alpha| > 2$; per nessun valore di α ; $|\alpha| = 2$.

6. Indicate quale grafico rappresenta la soluzione del problema di Cauchy

$$\begin{cases} y' = y + e^{ty} \\ y(0) = 1. \end{cases}$$



7. Per quali $\alpha \in \mathbf{R}$ l'integrale $\int_1^{+\infty} t^\alpha (1+t^2)^\alpha dt$ è convergente?

$\alpha < -1/3$; $\alpha < -1/5$; $\alpha < -1$; $\alpha < -1/2$.

8.

$$\int_{-2}^{-1} \frac{f(x^2)}{x} dx =$$

$-\frac{1}{2} \int_1^4 \frac{f(t)}{t} dt$; $-\frac{1}{4} \int_1^4 \frac{f(t)}{t^2} dt$; $-\frac{1}{4} \int_1^4 \frac{f(t)}{t} dt$; $-\frac{1}{2} \int_1^4 \frac{f(t)}{t^2} dt$.

ANALISI MATEMATICA 1		8 gennaio 2010
Cognome:	Nome:	Matricola:

- Una ed una sola delle quattro affermazioni è corretta. Indicarla con una croce.
- Per annullare una risposta ritenuta errata racchiuderla in un cerchio.
- Risposta corretta: +1.5. Risposta errata: -0.25.

1. Se $\int_0^4 f(x) dx = \int_0^3 g(x) dx$, allora esistono due numeri $x_1, x_2 \in [0, 4]$ tali che
 $\frac{1}{3}f(x_1) = \frac{1}{4}g(x_2)$; $\frac{1}{4}f(x_1) = \frac{1}{3}g(x_2)$; $\frac{1}{3}f(x_1) = \frac{1}{2}g(x_2)$; $\frac{1}{2}f(x_1) = \frac{1}{3}g(x_2)$.

2.

$$\int_{-2}^{-1} \frac{f(x^2)}{x} dx =$$
 $-\frac{1}{2} \int_1^4 \frac{f(t)}{t} dt$; $-\frac{1}{4} \int_1^4 \frac{f(t)}{t^2} dt$; $-\frac{1}{4} \int_1^4 \frac{f(t)}{t} dt$; $-\frac{1}{2} \int_1^4 \frac{f(t)}{t^2} dt$.

3. Per quali $\alpha \in \mathbf{R}$ le soluzioni di $y'' + (4 - \alpha^2)y = 0$ sono funzioni limitate? $|\alpha| < 2$;
 $|\alpha| > 2$; per nessun valore di α ; $|\alpha| = 2$.

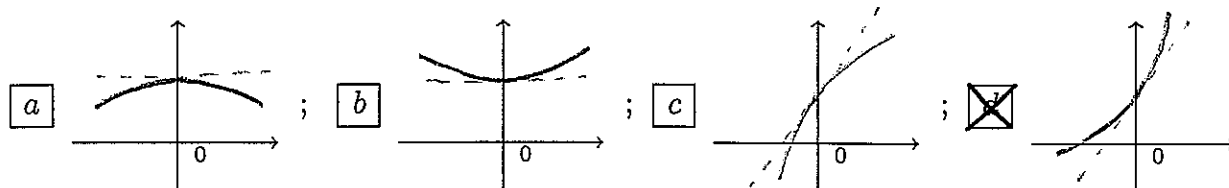
4. Siano $a_n > 0$ per ogni $n \geq 0$ e $\lim_{n \rightarrow \infty} \left(\frac{a_n}{a_{n+1}} \right)^{1/n} = 2$. Allora è necessariamente vero che
 $\sum_{n=0}^{\infty} a_n$ a è divergente positivamente; b è divergente negativamente; c è convergente;
 d non è convergente né divergente.

5. $\lim_{x \rightarrow 2} \frac{1}{x-2} \int_{x^2}^4 \frac{dt}{\sin t} =$ a $\frac{-4}{\cos 4}$; b $\frac{4}{\cos 4}$; c $\frac{-4}{\sin 4}$; d $\frac{4}{\sin 4}$.

6. Per quali $\alpha \in \mathbf{R}$ l'integrale $\int_1^{+\infty} t^\alpha (1+t^2)^\alpha dt$ è convergente?
 a $\alpha < -1/3$; b $\alpha < -1/5$; c $\alpha < -1$; d $\alpha < -1/2$.

7. Indicate quale grafico rappresenta la soluzione del problema di Cauchy

$$\begin{cases} y' = y + e^{ty} \\ y(0) = 1. \end{cases}$$



8. Lo sviluppo in serie nell'intervallo $(-1, 1)$ e con centro in 0 della funzione $\frac{x^2}{1-x^2}$ è:
 a $\sum_{k=1}^{\infty} x^k$; b $\sum_{k=2}^{\infty} x^k$; c $\sum_{k=0}^{\infty} x^{2k+1}$; d $\sum_{k=1}^{\infty} x^{2k}$.

ANALISI MATEMATICA 1		8 gennaio 2010
Cognome:	Nome:	Matricola:

- Una ed una sola delle quattro affermazioni è corretta. Indicarla con una croce.
- Per annullare una risposta ritenuta errata racchiuderla in un cerchio.
- Risposta corretta: +1.5. Risposta errata: -0.25.

1. $\lim_{x \rightarrow -2} \frac{1}{x+2} \int_{x^2}^4 \frac{dt}{\cos t} =$ a $\frac{4}{\sin 4}$; b $\frac{-4}{\cos 4}$; c $\frac{4}{\cos 4}$; d $\frac{-4}{\sin 4}$.

2. Per quali $\alpha \in \mathbb{R}$ l'integrale $\int_1^{+\infty} \frac{(1+t^4)^\alpha}{t^{2\alpha}} dt$ è convergente?
 a $\alpha < -1/2$; b $\alpha < -1/3$; c $\alpha < -1/5$; d $\alpha < -1$.

3. $\int_{-2}^{-1} \frac{f(x^2)}{2x^3} dx =$
 a $-\frac{1}{2} \int_1^4 \frac{f(t)}{t^2} dt$; b $-\frac{1}{2} \int_1^4 \frac{f(t)}{t} dt$; c $-\frac{1}{4} \int_1^4 \frac{f(t)}{t^2} dt$; d $-\frac{1}{4} \int_1^4 \frac{f(t)}{t} dt$.

4. Per quali $\alpha \in \mathbb{R}$ le soluzioni di $y'' - (1 - \alpha^2)y = 0$ sono funzioni limitate? a $|\alpha| = 1$;
 b $|\alpha| < 1$; c $|\alpha| > 1$; d per nessun valore di α .

5. Lo sviluppo in serie nell'intervallo $(-1, 1)$ e con centro in 0 della funzione $\frac{x}{1-x}$ è:
 a $\sum_{k=1}^{\infty} x^{2k}$; b $\sum_{k=1}^{\infty} x^k$; c $\sum_{k=2}^{\infty} x^k$; d $\sum_{k=0}^{\infty} x^{2k+1}$.

6. Se $\int_0^3 f(x) dx = \int_0^4 g(x) dx$, allora esistono due numeri $x_1, x_2 \in [0, 4]$ tali che
 a $\frac{1}{2}f(x_1) = \frac{1}{3}g(x_2)$; b $\frac{1}{3}f(x_1) = \frac{1}{4}g(x_2)$; c $\frac{1}{4}f(x_1) = \frac{1}{3}g(x_2)$; d $\frac{1}{3}f(x_1) = \frac{1}{2}g(x_2)$.

7. Siano $a_n > 0$ per ogni $n \geq 0$ e $\lim_{n \rightarrow \infty} \left(\frac{a_n}{a_{n+1}} \right)^{1/n} = +\infty$. Allora è necessariamente vero che $\sum_{n=0}^{\infty} a_n$ a non è convergente né divergente; b è divergente positivamente; c è divergente negativamente; d è convergente.

8. Indicate quale grafico rappresenta la soluzione del problema di Cauchy

$$\begin{cases} y' = y - e^{-ty} \\ y(0) = 1. \end{cases}$$

