

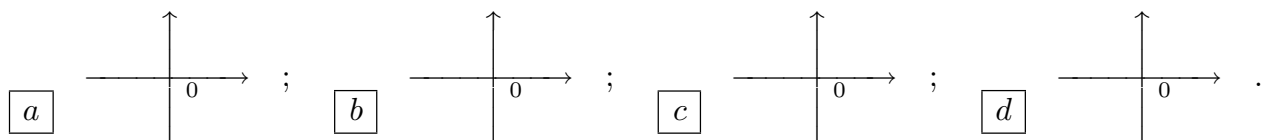
CALCOLO 1		7 gennaio 2004
Cognome:	Nome:	Matricola:

- Una ed una sola delle quattro affermazioni è corretta. Indicarla con una croce.
- È consentita una sola correzione per ogni domanda: per annullare una risposta ritenuta errata racchiuderla in un cerchio.
- Risposta corretta: +1.5. Risposta errata: -0.25.

1.  $I = \int_1^{+\infty} \frac{1}{x^4 + x + 1} dx$ . Allora  a  $I > \frac{1}{3}$ ;  b  $I = +\infty$ ;  c  $I = \frac{1}{3}$ ;  d  $I < \frac{1}{3}$ .

2. Se  $y(x)$  è la soluzione del problema di Cauchy:  $\begin{cases} y' = x^2 + y^2 \\ y(0) = 1 \end{cases}$  allora:  a  $y'(0) = 1$ ;  
 b  $y(x) = y(-x)$ ;  c  $y(1) = \frac{1}{2}$ ;  d  $\lim_{x \rightarrow +\infty} y(x) = 1$ .

3. Se  $y(x)$  è la soluzione del problema di Cauchy:  $\begin{cases} y' = e^{xy^2} \\ y(0) = 1 \end{cases}$  Allora il grafico di  $y(x)$  vicino a 0 è:



4. I primi due termini dello sviluppo di Taylor di  $\sin^2 x$  sono:  a  $x^2 - x^3/6$ ;  b  $x - x^3/6$ ;  
 c  $x^2 - x^4/3$ ;  d  $x^2 + x^6/36$ .

5.  $\sum_{n=2}^{+\infty} \frac{1}{3^n} =$   a  $+\infty$ ;  b  $\int_2^{+\infty} \frac{1}{3x} dx$ ;  c  $\frac{1}{6}$ ;  d  $\frac{3}{2}$ .

6. Se  $u(x)$  e  $v(x)$  sono soluzioni della stessa equazione differenziale  $y' = 4y + q(x)$ , quale delle seguenti affermazioni è necessariamente vera?  a Esiste una costante  $C$  tale che  $u(x) = Ce^{4x} + v(x)$ ;  b Esiste una costante  $C$  tale che  $u(x) = Cv(x)$ ;  c  $\lim_{x \rightarrow +\infty} u(x) = \lim_{x \rightarrow +\infty} v(x)$ ;  
 d Esiste almeno un punto  $x_0 \in \mathbf{R}$  tale che  $u(x_0) = v(x_0)$ .

7. Se  $\sum_{n=1}^{+\infty} a_n = 2$ , quale delle seguenti affermazioni è necessariamente vera?  a  $\lim_{n \rightarrow +\infty} a_n = 0$ ;

b  $\lim_{n \rightarrow +\infty} \frac{a_{n+1}}{a_n} < 1$ ;  c  $\sum_{n=1}^{+\infty} (a_n)^2 = 4$ ;  d  $\lim_{n \rightarrow +\infty} a_n = 2$ .

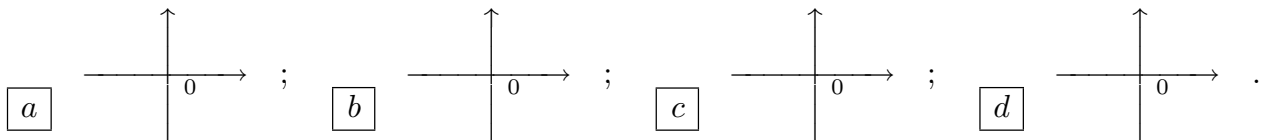
8.  $\int_1^4 f(2x) dx =$   a  $2 \int_2^8 f(x) dx$ ;  b  $2 \int_{1/2}^2 f(x) dx$ ;  c  $\frac{1}{2} \int_2^8 f(x) dx$ ;  d  $\int_1^4 f(x) dx$ .

CALCOLO 1		7 gennaio 2004
Cognome:	Nome:	Matricola:

- Una ed una sola delle quattro affermazioni è corretta. Indicarla con una croce.
- È consentita una sola correzione per ogni domanda: per annullare una risposta ritenuta errata racchiuderla in un cerchio.
- Risposta corretta: +1.5. Risposta errata: -0.25.

1. Se  $u(x)$  e  $v(x)$  sono soluzioni della stessa equazione differenziale  $y' = 4y + q(x)$ , quale delle seguenti affermazioni è necessariamente vera?  a) Esiste una costante  $C$  tale che  $u(x) = Cv(x)$ ;  b)  $\lim_{x \rightarrow +\infty} u(x) = \lim_{x \rightarrow +\infty} v(x)$ ;  c) Esiste almeno un punto  $x_0 \in \mathbf{R}$  tale che  $u(x_0) = v(x_0)$ ;  d) Esiste una costante  $C$  tale che  $u(x) = Ce^{4x} + v(x)$ .

2. Se  $y(x)$  è la soluzione del problema di Cauchy:  $\begin{cases} y' = e^{xy^2} \\ y(0) = 1. \end{cases}$  Allora il grafico di  $y(x)$  vicino a 0 è:



3. I primi due termini dello sviluppo di Taylor di  $\sin^2 x$  sono:  a)  $x - x^3/6$ ;  b)  $x^2 - x^4/3$ ;  c)  $x^2 + x^6/36$ ;  d)  $x^2 - x^3/6$ .

4. Se  $\sum_{n=1}^{+\infty} a_n = 2$ , quale delle seguenti affermazioni è necessariamente vera?  a)  $\lim_{n \rightarrow +\infty} \frac{a_{n+1}}{a_n} < 1$ ;  b)  $\sum_{n=1}^{+\infty} (a_n)^2 = 4$ ;  c)  $\lim_{n \rightarrow +\infty} a_n = 2$ ;  d)  $\lim_{n \rightarrow +\infty} a_n = 0$ .

5.  $I = \int_1^{+\infty} \frac{1}{x^4 + x + 1} dx$ . Allora  a)  $I = +\infty$ ;  b)  $I = \frac{1}{3}$ ;  c)  $I < \frac{1}{3}$ ;  d)  $I > \frac{1}{3}$ .

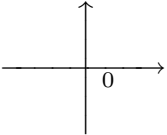
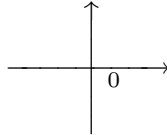
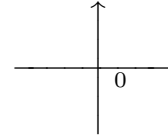
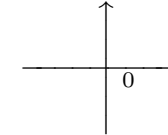
6. Se  $y(x)$  è la soluzione del problema di Cauchy:  $\begin{cases} y' = x^2 + y^2 \\ y(0) = 1 \end{cases}$  allora:  a)  $y(x) = y(-x)$ ;  b)  $y(1) = \frac{1}{2}$ ;  c)  $\lim_{x \rightarrow +\infty} y(x) = 1$ ;  d)  $y'(0) = 1$ .

7.  $\int_1^4 f(2x) dx =$   a)  $2 \int_{1/2}^2 f(x) dx$ ;  b)  $\frac{1}{2} \int_2^8 f(x) dx$ ;  c)  $\int_1^4 f(x) dx$ ;  d)  $2 \int_2^8 f(x) dx$ .

8.  $\sum_{n=2}^{+\infty} \frac{1}{4^n} =$   a)  $\int_2^{+\infty} \frac{1}{4^x} dx$ ;  b)  $\frac{1}{12}$ ;  c)  $\frac{4}{3}$ ;  d)  $+\infty$ .

CALCOLO 1		7 gennaio 2004
Cognome:	Nome:	Matricola:

- Una ed una sola delle quattro affermazioni è corretta. Indicarla con una croce.
- È consentita una sola correzione per ogni domanda: per annullare una risposta ritenuta errata racchiuderla in un cerchio.
- Risposta corretta: +1.5. Risposta errata: -0.25.

1. Se  $y(x)$  è la soluzione del problema di Cauchy:  $\begin{cases} y' = x^2 + y^2 \\ y(0) = 1 \end{cases}$  allora:   $a$   $y(1) = \frac{1}{2}$ ;  
  $b$   $\lim_{x \rightarrow +\infty} y(x) = 1$ ;   $c$   $y'(0) = 1$ ;   $d$   $y(x) = y(-x)$ .
2. I primi due termini dello sviluppo di Taylor di  $\sin^2 x$  sono:   $a$   $x^2 - x^4/3$ ;   $b$   $x^2 + x^6/36$ ;  
  $c$   $x^2 - x^3/6$ ;   $d$   $x - x^3/6$ .
3. Se  $\sum_{n=1}^{+\infty} a_n = 2$ , quale delle seguenti affermazioni è necessariamente vera?   $a$   $\sum_{n=1}^{+\infty} (a_n)^2 = 4$ ;  
  $b$   $\lim_{n \rightarrow +\infty} a_n = 2$ ;   $c$   $\lim_{n \rightarrow +\infty} a_n = 0$ ;   $d$   $\lim_{n \rightarrow +\infty} \frac{a_{n+1}}{a_n} < 1$ .
4.  $\int_1^4 f(2x) dx =$    $a$   $\frac{1}{2} \int_2^8 f(x) dx$ ;   $b$   $\int_1^4 f(x) dx$ ;   $c$   $2 \int_2^8 f(x) dx$ ;   $d$   $2 \int_{1/2}^2 f(x) dx$ .
5. Se  $u(x)$  e  $v(x)$  sono soluzioni della stessa equazione differenziale  $y' = 4y + q(x)$ , quale delle seguenti affermazioni è necessariamente vera?   $a$   $\lim_{x \rightarrow +\infty} u(x) = \lim_{x \rightarrow +\infty} v(x)$ ;   $b$  Esiste almeno un punto  $x_0 \in \mathbf{R}$  tale che  $u(x_0) = v(x_0)$ ;   $c$  Esiste una costante  $C$  tale che  $u(x) = Ce^{4x} + v(x)$ ;   $d$  Esiste una costante  $C$  tale che  $u(x) = Cv(x)$ .
6. Se  $y(x)$  è la soluzione del problema di Cauchy:  $\begin{cases} y' = e^{xy^2} \\ y(0) = 1 \end{cases}$  Allora il grafico di  $y(x)$  vicino a 0 è:
- $a$   ;   $b$   ;   $c$   ;   $d$  .
7.  $\sum_{n=2}^{+\infty} \frac{1}{5^n} =$    $a$   $\frac{1}{20}$ ;   $b$   $\frac{5}{4}$ ;   $c$   $+\infty$ ;   $d$   $\int_2^{+\infty} \frac{1}{5^x} dx$ .
8.  $I = \int_1^{+\infty} \frac{1}{x^4 + x + 1} dx$ . Allora   $a$   $I = \frac{1}{3}$ ;   $b$   $I < \frac{1}{3}$ ;   $c$   $I > \frac{1}{3}$ ;   $d$   $I = +\infty$ .